

Obvodné kolo Geografickej olympiády pre ZŠ a 8-ročné gymnáziá
39. ročník, školský rok 2010/2011
Písomný test pre kategóriu H – ZŠ (6. ročník) a OG (1. ročník)
 Monotematická a teoretická časť - úlohy

Meno a priezvisko:
 Škola a trieda:
 Počet bodov:

1. *Označ písmenom **P** pravdivé a písmenom **N** nepravdivé výroky:

- a) Najvyšší príliv nastáva vtedy, keď je Mesiac v nove.
- b) Príliv a odliv vyvoláva príťažlivá sila Mesiaca a Slnka.
- c) Najväčší z oceánov je Atlantický oceán.
- d) Hlboké zálivy zarezávajúce sa do pobrežia, nazývame fjordy.
- e) Ľadovec modeluje hlboké doliny v tvare písmena **V**.

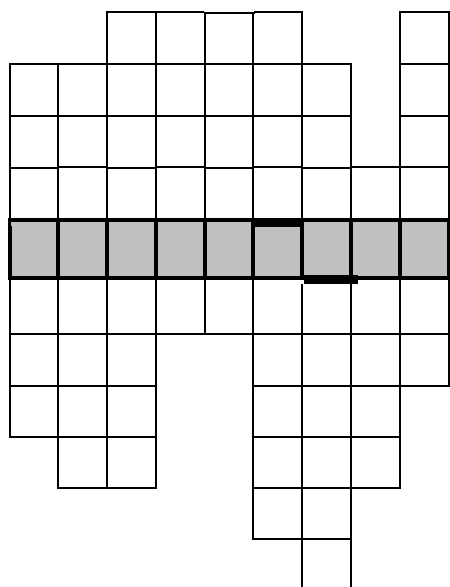
2. *Doplň k pojmom správnu dvojicu. Vyberaj z:

Tichý oceán, najvyššia teplota vody, najmenšia rozloha, Atlantický oceán, najvyšší príliv.

- a) Golský prúd - d) záliv Fundy -
- b) Indický oceán - e) Mariánska priekopa -
- c) Severný ľadový oceán -

3. Vyplň krížovku a odhaľ tajničku.

A B C D E F G H I



A - vetry vanúce v miernom pásme

B - hlavné mesto Austrálskeho zväzu

C - púšť v Austrálii

D - vajcorodý cicavec v Austrálii

E - stepi v Severnej Amerike

F - rozľahlý ostrovov v Oceánii

G - menšie súostrovie v Karibskom mori

H - pôvodní obyvatelia Grónska

I - rieka v Austrálii

Tajnička:

Sú to pôvodní obyvatelia

4. K nasledujúcim geografickým objektom prirad' správny pojem. Vyberaj z:

rieka, mesto, vodopády, súostrovie, polostrov, štát, mesto, ostrov.

- a) Rio Grande - b) Galapágy -
- c) Iguazú - d) Florida -
- e) Sydney - f) Tasmánia -
- g) Perth - h) Čile -

5. Doplň chýbajúce slová vo vetách:

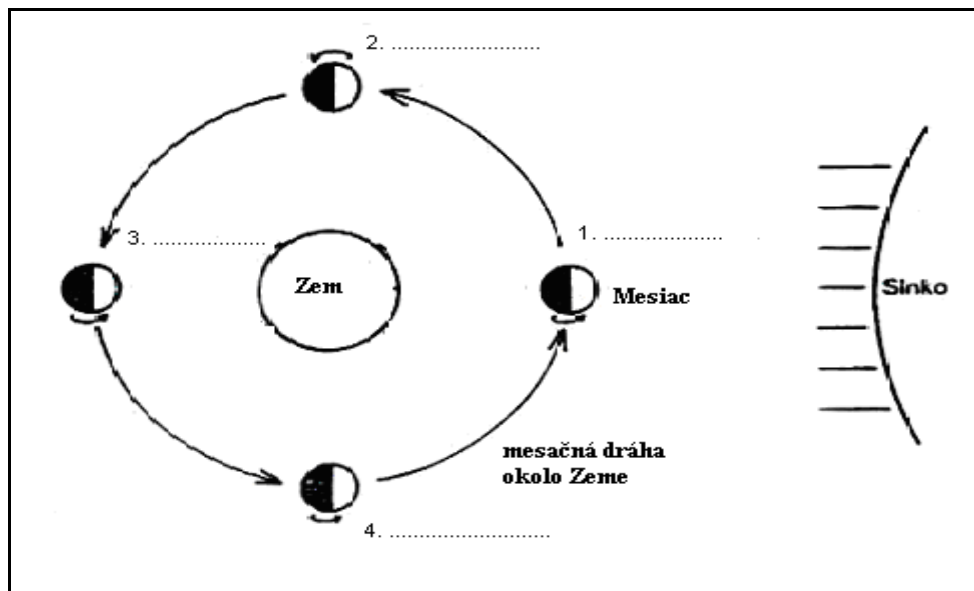
- Základnou príčinou vzniku pohorí sú pohyby..... dosiek.
- Dlhodobý stav ovzdušia na určitom mieste sa nazýva
- Vetry, ktoré vanú v teplom pásme od obratníkov k rovníku, sa nazývajú
- V Južnej Amerike je pre poľnohospodárstvo významná nížina.
- Najrozšírenejším typom krajiny v miernom pásme je ihličnatý les -
- Na amerických stepiach kedysi voľne žili veľké bylinožravce -
- Na Novom Zélande je rozšírený chov

6. Z nasledujúcich skupín písmen zostav názvy miest v Austrálii alebo Oceánii:

- LING – WEL – TON
- IN – DA – RW
- DE – A – DE – LAI
- BA – NE – BRIS
- HO – RT – BA
- NE – MEL – UR – BO

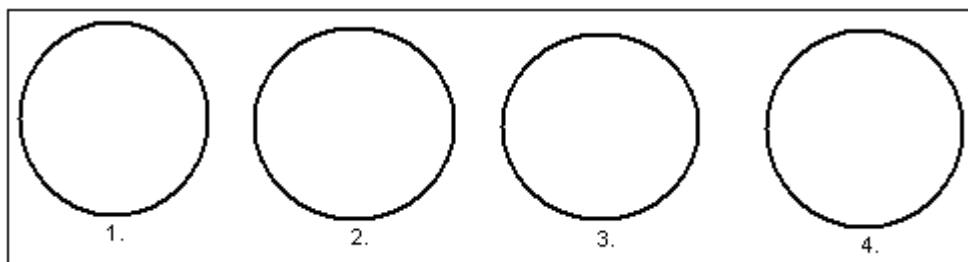
7. Na obrázku A je znázornená obežná dráha Mesiaca okolo Zeme v štyroch polohách. Dopíš vedľa čísiel, akú mesačnú fázu vidíme pri jednotlivých polohách zo severnej pologule Zeme.

Obr. A



Nasledujúce kruhy na obrázku B znázorňujú mesačný kotúč pri pohľade zo severnej pologule Zeme. Vyfarbi perom neviditeľnú časť mesačného kotúča pri jednotlivých mesačných fázach, ktoré si dopísal/a v obr. A.

Obr. B



Autor: RNDr. Jana Némethová, PhD.

Recenzenti: RNDr. Hilda Kramáreková, PhD., Mgr. Gabriela Nováková, PhD.

Vydal: IUVENTA – Slovenský inštitút mládeže, Bratislava 2011