

**Obvodné kolo Geografickej olympiády pre ZŠ a 8-ročné gymnáziá**  
**40. ročník, školský rok 2011/2012**  
**Písomný test pre kategóriu I – ZŠ (5. ročník)**  
 Praktická časť - úlohy

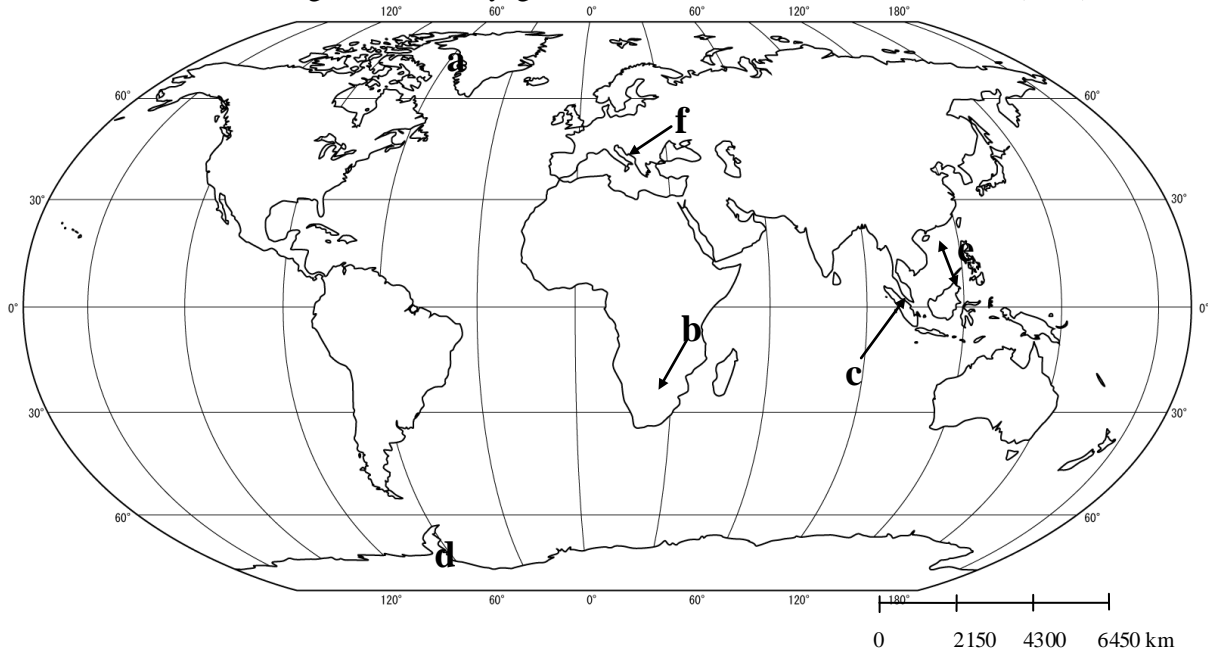
Név: .....  
 Iskola és osztály: .....  
 Elért pontszám: .....

1. a) Állapítsd meg a térképen a – f betűkkel jelzett objektumok nevét:

**a** - sziget ..... **b** - szoros ..... **c** - sziget .....  
**d** - tenger ..... **e** - árok ..... **f** - tenger .....

b) Mely öblökben metszik egymást a következő délkörök és szélességi körök?

**A** - 0. szélességi kör és 0. délkör: .....-öböl (záliv),  
**B** - 60. északi szélességi kör és 80. nyugati délkör: ..... -öböl (záliv),  
**C** - 55. északi szélességi kör és 150. nyugati délkör: .....-öböl (záliv).



2. Szlovákia jóságos boszorkái úgy döntöttek, december 13-án, Luca napján összeülnek tanácskozni. Helyszínnek az árvai várat (Oravský hrad) választották, amely Oravský Podzámok településen található. Az iskolai világtatlaszban (Školský atlas sveta) található, 1:1 000 000 méretarányú Szlovákia-térkép segítségével határozd meg, mennyit repültek az egyes boszorkák:

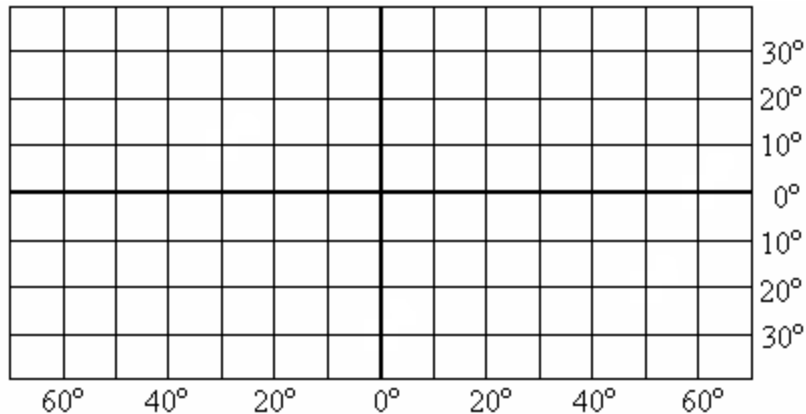
a) Ad'ka boszorka Zsolnáról (Žilina) - ..... km  
 b) Zitka boszorka Ružomberokból - ..... km,  
 c) Milka boszorka Besztercebányáról (Banská Bystrica) - ..... km.

3. Az iskolák többségében a tanítás reggel 8 órakor kezdődik. Állapítsd meg, hány óra és milyen nap van a következő városokban, ha nálunk hétfő reggel, 8 órakor éppen becsengetnek:

a) Moszkva: ..... óra., nap: .....  
 b) New York: ..... óra., nap: .....  
 c) San Francisco: ..... óra., nap: .....

4. A földrajzi hálóba rajzold be az A, B, C, D pontokat, amelyeket a következő koordinátákkal határoztunk meg:

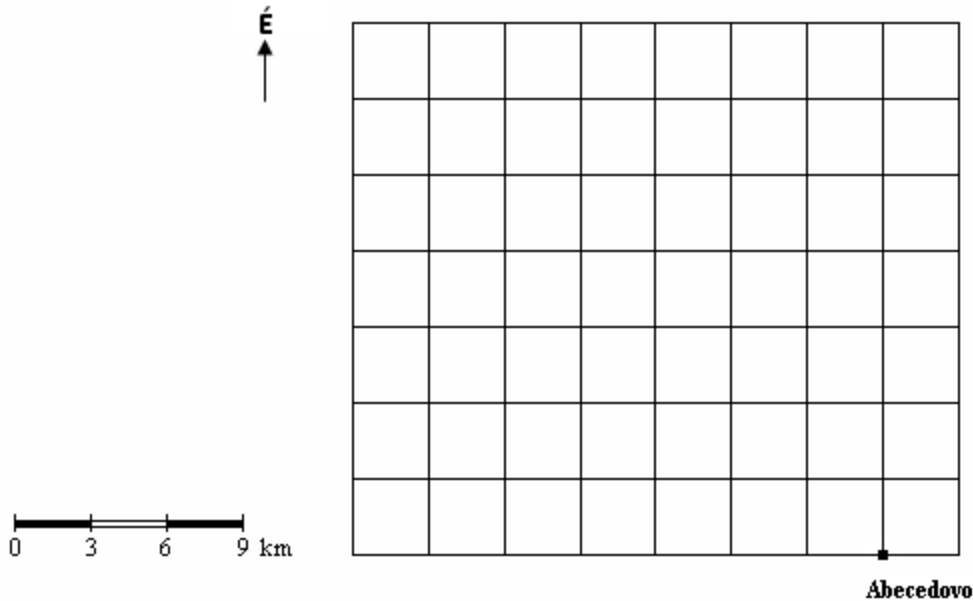
- A - 10. északi szélességi kör és 30. nyugati délkör,
- B - 20. déli szélességi kör és 50. keleti délkör,
- C - egyenlítő és 60. keleti délkör,
- D - 30. déli szélességi kör és 0. délkör.



5. Ábécé királynak, aki Abecedovóban lakik, három fia volt. Egy nap elküldte őket a szomszédos Virágországba, ahol három hercegnő várakozott rájuk. A király elmagyarázta a fiúknak, hogyan jutnak el a célhoz.

„Abecedovóból elindulva 6 km-t mentek észak felé, majd nyugat felé fordultok, hogy elkerüljétek a hétfejű sárkányt. Ebben az irányban 9 km-t kell megtennetek. Ezután megint észak felé fordultok, megtesztek 3 km-t, és megpihentek Fülöp nagybátyátoknál. Innen 12 km-t mentek kelet felé, 6 km-t észak felé, ahol Aranka nagynénétek vár majd benneteket. Miután kipihentétek nála magatokat, 21 km-t kell megtennetek nyugat felé, és megérkeztek Virágországba. “

A királyfiak megrajzolták az útitervet. Rajzold meg te is az alábbi négyzethálón!



6. A világ politikai térképén keresd meg azt a helyet, ahol a 80. keleti délkör találkozik az egyenlítővel. Ez a hely a(z) .....-óceánban található. Melyik országokban kötnél ki, ha erről a helyről egyenesen a következő irányokba hajóznál:
- a) nyugat felé: .....
  - b) kelet felé: .....
  - c) észak felé: .....
  - d) délkelet felé: .....
  - e) északnyugat felé: .....