

**Krajské kolo Geografickej olympiády pre ZŠ a 8-ročné gymnáziá**  
**40. ročník, školský rok 2011/2012**  
**Písomný test pre kategóriu F – ZŠ (8. ročník) a OG (3. ročník)**  
 Monotematická a teoretická časť - úlohy


Meno a priezvisko: .....  
 Škola a trieda: .....  
 Počet bodov: .....

1. \*V nasledujúcej „viacsmerovke“ je ukrytých 9 pojmov súvisiacich s jedným konkrétnym typom krajiny. Vyhl'adaj ich, vyčiarkni a vypíš vedľa „viacsmerovky“. Nevyčiarknuté písmená tvoria dva rôzne názvy tohto typu krajiny. Sú to ..... a ..... . Obidva pojmy môžeme zhrnúť do spoločného názvu \_ \_ \_ \_ .

A	P	Z	A	M	P	S	.....	.....
T	R	K	A	A	A	P	.....	.....
N	B	U	A	J	R	É	.....	.....
A	I	R	G	V	A	Š	.....	.....
Ž	Z	A	I	N	Y	C	.....	.....
A	Ó	A	U	M	E	Ľ	.....	.....
B	N	S	K	U	N	K	.....	.....

2. \*Mnohé zvieracie druhy sa prispôbujú svojmu životnému prostrediu sfarbením srsti alebo tvarom a veľkosťou koncových častí tela (napríklad uší). Na obrázkoch označených písmenami A, B a C sú znázornené tri druhy z čeľade psovité. Každý žije v inom type krajiny. K nasledujúcim typom krajiny priradi správny obrázok:

- a) púšť- .....                      b) lesy mierneho pásma - .....                      c) tundra - .....



3. \*Veľká časť zemskej súše je pokrytá lesmi. V nasledujúcich piatich výrokoch o lesoch zakrúžkuj z vyznačených slov alebo slovných spojení to správne:

- a) Typickou drevinou boreálneho lesa je brest / jedľa / gaštan.  
 b) Na severnej pologuli sa medzi 35. a 50. rovnobežkou vyskytuje tropický opadavý / listnatý / ihličnatý les.  
 c) Tropický vždyzelený les prijme ročne viac ako 4000 / 6000 / 8000 milimetrov zrážok.  
 d) V Austrálii a Tasmánii nenájdeme dažďový / listnatý / ihličnatý les.  
 e) Južný ostrov Nového Zélandu je pokrytý bukovým / dubovým / boreálnym lesom.

4. Z nasledujúcich písmen zostav názvy aspoň piatich významných európskych tokov. Každú spoluhlásku môžeš v jednom názve použiť najviac jeden raz. Samohlásky a dvojhlásky môžeš používať a dopĺňať v ľubovoľnom počte.

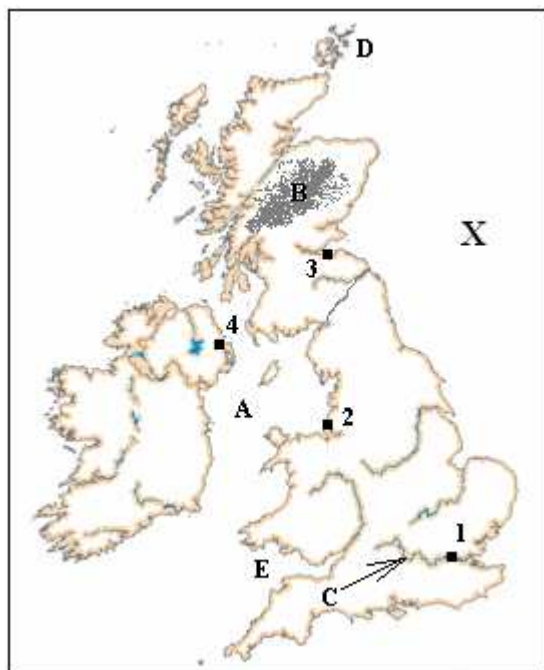
D L N P R

.....  
 .....

5. Na obrázku je znázornená slepá mapa Britských ostrovov. Urči názvy objektov označených písmenami A až E. Potom doplň názvy mestských sídel označených číslami 1 až 4. Vyberaj z:

*Belfast, Birmingham, Cambridge, Cardiff, Dublin, Edinburgh, Glasgow, Liverpool, Londýn.*

K mestám priradi aj názov historickej krajiny patriacej k Spojenému kráľovstvu, v ktorej sa nachádzajú.



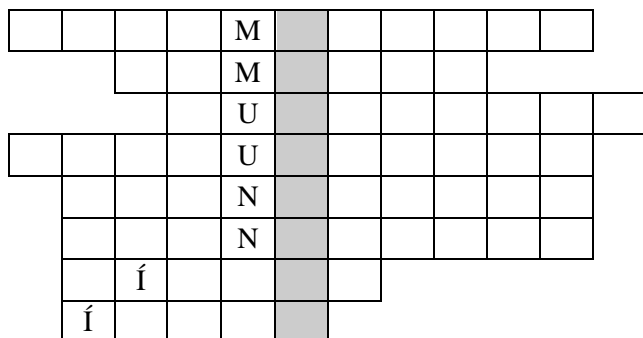
- A – ..... more  
 B – pohorie .....  
 C – rieka .....  
 D – ostrovy .....  
 E – ..... záliv

- 1 ..... , krajina .....  
 2 ..... , krajina .....  
 3 ..... , krajina .....  
 4. .... , krajina .....

Ktoré dve významné suroviny sa ťažia v mori X?

..... a .....

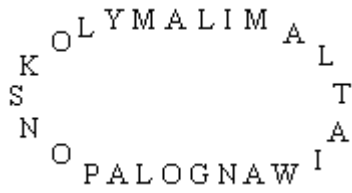
6. Do nasledujúcej doplňovačky doplň názvy štátov, ktoré k 1.1.2012 patrili k Európskej únii. Pomôžu ti predtlačené písmená. Názvy štátov musíš doplniť tak, aby v tajničke vznikol názov ďalšej členskej krajiny EÚ. Je to .....



Nasledujúce výroky sú o štáte z tajničky. Označ symbolom ✓ tie výroky, ktoré sú pravdivé a symbolom ✗ tie, ktoré sú nepravdivé.

- a)  Je sídlom NATO.  
 b)  Jeho rozloha je menšia ako rozloha Slovenskej republiky.  
 c)  Hraničí so štyrmi štátmi.  
 d)  Jeho územie nikde nedosahuje nadmorskú výšku nad 300 metrov nad morom.

7. V nasledujúcom rébuse sa skrývajú názvy siedmich geografických objektov. Odhalíš ich, ak si rébus prečítaš v smere pohybu hodinových ručičiek.



Nájdene pojmy:

.....

.....

.....

.....

Zdroj obrázkov:

[http://pes.eu.sk/?page\\_id=268](http://pes.eu.sk/?page_id=268)

<http://www.vivo.sk/photo/257944/Liska-obycajna>

<http://obrazky.4ever.sk/zvieratka/divozijuca/polarna-liska-149469>

Autor: Mgr. Gabriela Nováková, PhD.

Recenzenti: Mgr. Eva Džupinová, PhD., Doc. RNDr. Alena Dubcová, CSc.

Slovenská komisia Geografickej olympiády

Vydal: IUVENTA – Slovenský inštitút mládeže, Bratislava 2012