

Celoštátne kolo Geografickej olympiády pre stredné školy
41. ročník, školský rok 2012/2013

Meno a priezvisko	
Škola a trieda	
Kategória	
Počet bodov	

01. Progresívnym odborom geografie je geografia dopravy. Sleduje priestorové zmeny a vývoj dopravných systémov na Zemi. Do ktorého sektora možno zaradiť osobnú dopravu? body: 1

- A) Primárneho. B) Sekundárneho. C) Terciárneho. D) Kvartérneho.

02. Ktorým z uvedených miest **nepreteká** rieka Dunaj? body: 1

- A) Belehrad. B) Moháč. C) Brašov. D) Ruse.

Zakrížkujte správnu odpoveď.

03. Doplníte zápory a klady využitia jadrovej energie a jej výroby. body: 4

Zápory

Klady

04. Doplníte k jednotlivým mestám v tabuľke štát, v ktorom sa nachádzajú. Uveďte aj aktivity, ktoré sú pre dané mesto najznámejšie. body: 6

Santiago de Compostela	
Rimini	
Chichén Itzá	
Čierna nad Tisou	
Štrasburg	
Kimberley	

05. Do obrysovej mapy Slovenska zakreslite: body: 7

- riekou Bebrava a označte ju B,
- hlavné cestné ťahy cez Slovenské rudohorie,
- hrad Likava,
- kúpele Trenčianske Teplice.

Pomenujte mestá, cez ktoré preteká rieka označená písmenom R:

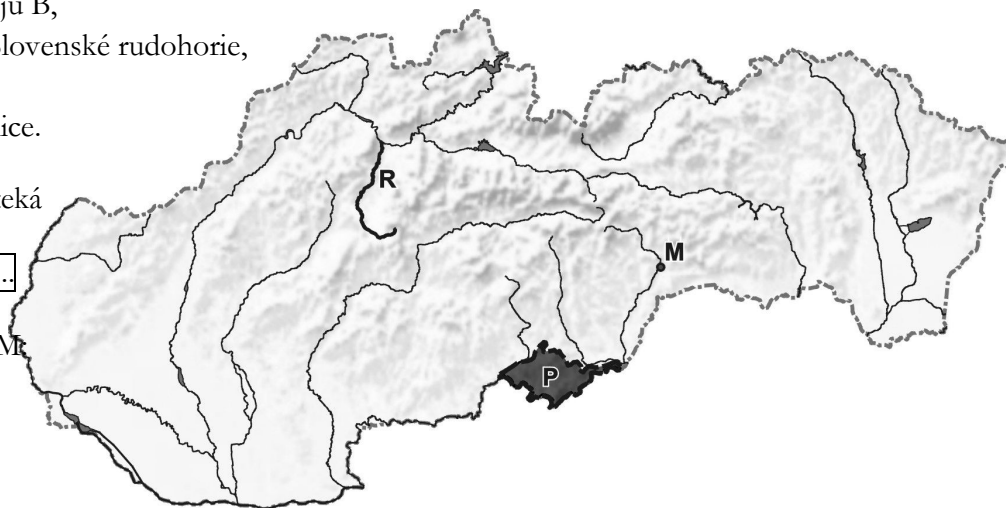
.....

Pomenujte riekou, ktorá preteká cez mesto označené písmenom M:

.....

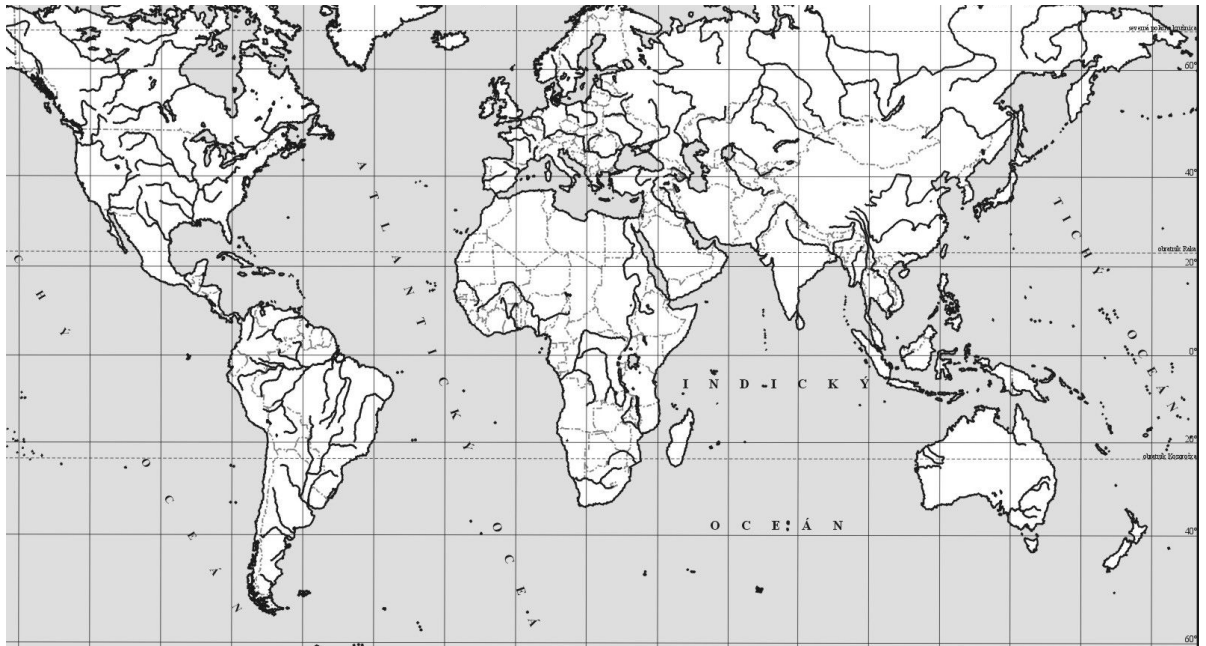
Určte aspoň jednu rovnobežku, ktorá prechádza cez pohorie P:

.....



body:

06. Do mapy zakreslite dva štáty, kde sa v roku 2013 odohrali (alebo sa ešte odohrávajú) najzávažnejšie ozbrojené konflikty. Vedľa mapy ich charakterizujte. body: 4



07. Doplníte slová (fakty) do každej vety tak, aby vzniklo pravdivé tvrdenie. body: 4

- A) Počet členských štátov EÚ koncom roka 2013 bude .
- B) Najznámejším pútnickým miestom vo Francúzsku je mesto .
- C) Časový rozdiel medzi Bratislavou a Moskvou dňa 27. 4. 2013: hodiny.
- D) Najviac ryže sa ročne dopestuje v štáte .

08. Ktorý z uvedených štátov EÚ v súčasnosti predsedá Rade EÚ? body: 1

- A) Fínsko. B) Malta. C) Portugalsko. D) Írsko.
- Zakrižkujte správnu odpoveď.*

Nasledujúce otázky sa viažu k miestu konania Medzinárodnej geografickej olympiády 2013 – Kjóto.

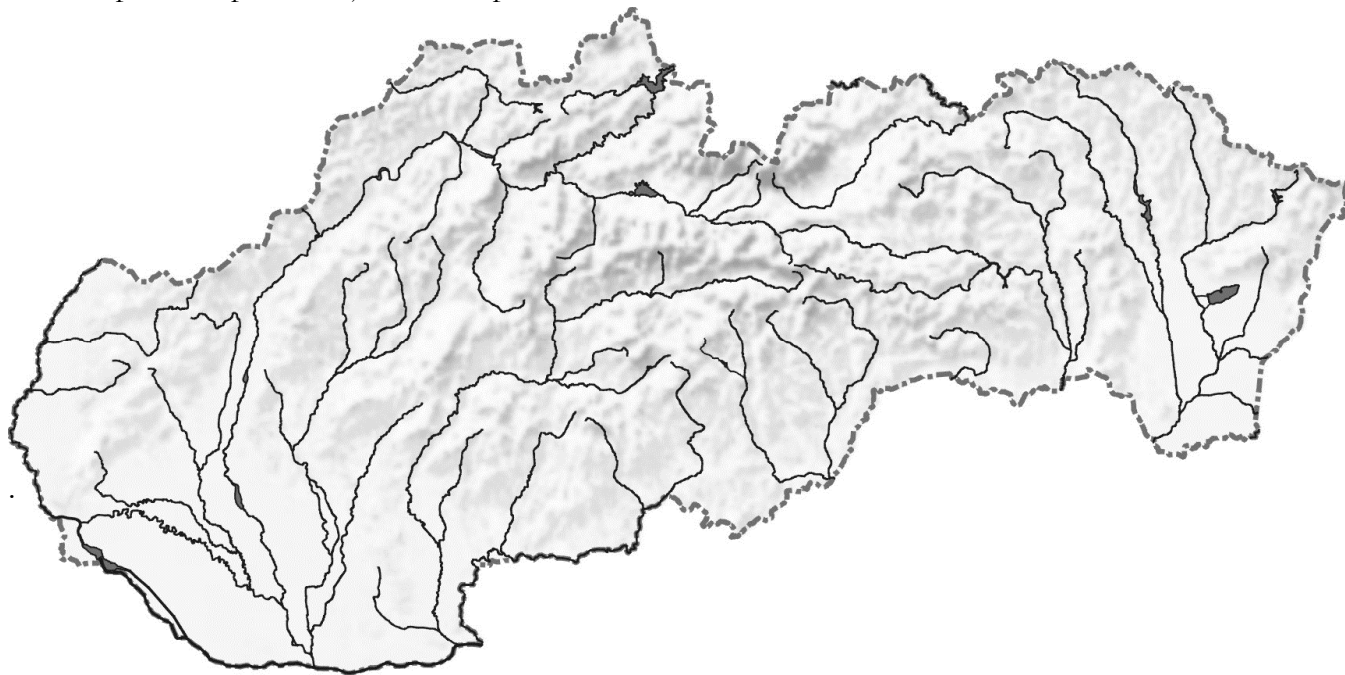
09. Do obrysovej mapy dokreslite: Kjóto, poludník a rovnobežku (aj s udaním stupňov), ktoré cez mesto prechádzajú. Vyznačte a pomenujte na mape dve miliónové mestá ležiace ku Kjóto najbližšie a dva významné prírodné prvky.

body: 7



body:

10. Načrtnite do mapy najvýznamnejšie plánované a modernizované cestné a železničné ťahy na Slovensku, ktoré sú prioritné pre rozvoj nášho hospodárstva do roku 2020. body: 4



11. Zhodnot'te predpoklady Žiliny z vybratých hľadísk: body: 8

A) Predpoklady rozvoja priemyslu:

B) Perspektívy rozvoja školstva a služieb:

C) Faktory, ktoré zlepšujú životné prostredie:

D) Porovnajte dopravnú dostupnosť zo Žiliny do Bratislavy a Košíc:

body:

