

Celoštátne kolo Geografickej olympiády pre ZŠ a 8-ročné gymnáziá
41. ročník, školský rok 2012/2013

Písomný test pre kategóriu F – ZŠ (8. ročník) a OG (3. ročník)

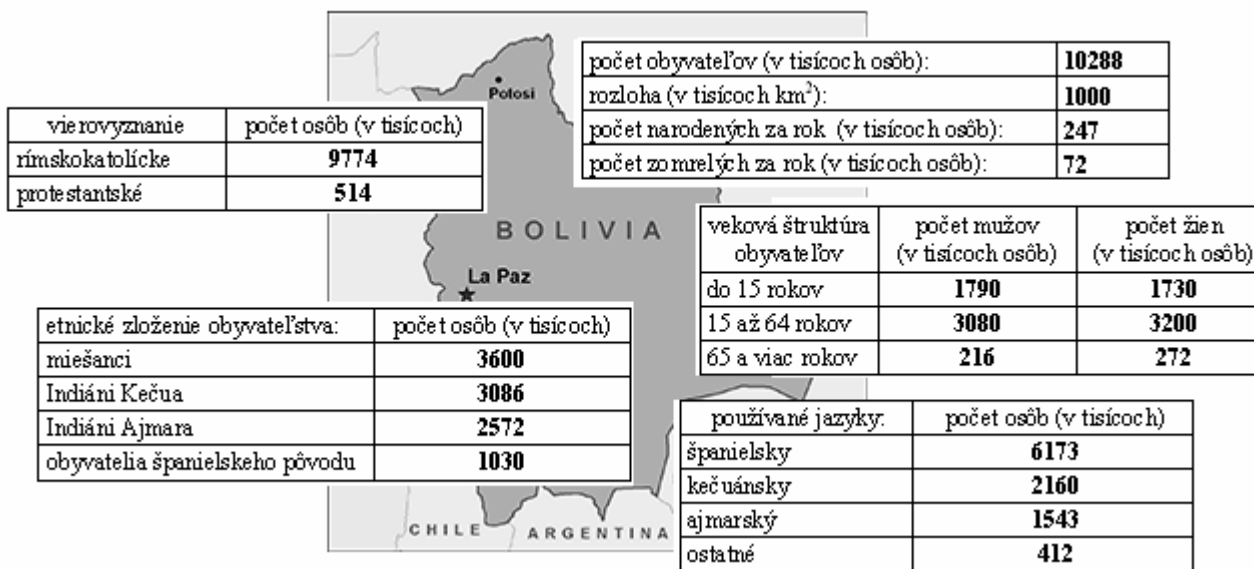
Monotematická a teoretická časť - úlohy

Meno a priezvisko:

Škola a trieda:

Počet bodov:

1. *V tabuľkách na nasledujúcom obrázku z knihy o Bolívii sú uvedené základné informácie o obyvateľstve tohto štátu. Použi ich pri riešení nasledujúcich úloh:



Z vyznačených pojmov a údajov podčiarkni v každej vete ten správny:

- Hustota zaľudnenia Slovenskej republiky je 110 obyvateľov/km². V Bolívii pripadá na plochu jeden km² približne o 109 obyvateľov • 100 obyvateľov • 10 obyvateľov menej než v Slovenskej republike.
- V Bolívii sa v prepočte na 1000 žijúcich obyvateľov ročne narodí približne 175 • 24 • 17 • 7 detí.
- Osoby mladšie ako 15 rokov predstavujú približne tretinu • štvrtinu • polovicu • desatinu z populácie Bolívie.

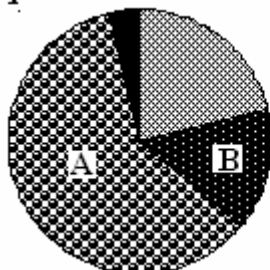
Vypočítaj a doplň:

- Obyvatelia hlásiaci sa k rímskokatolíckemu náboženstvu predstavujú% z populácie Bolívie.
- V Bolívii žije o tisíc viac žien ako mužov.
- Nasledujúce grafy zobrazujú etnické zloženie obyvateľstva Bolívie a štruktúru obyvateľstva Bolívie podľa používaných jazykov. Rozlíš ich a k písmenám A až D označujúcim výseky z grafov priradi, ktorú časť obyvateľstva Bolívie znázorňujú. Vyberaj z:

- miešanci
- indiáni Kečua
- indiáni Ajmara
- obyvatelia španielskeho pôvodu

- hovoriaci po španielsky
- hovoriaci kečuánskym jazykom
- hovoriaci ajmarským jazykom

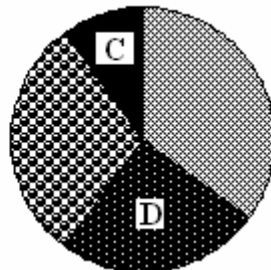
Graf č. 1



A -

B -

Graf č. 2



C -

D -

7. Janko si pripravoval do školy referát o Baltskom mori. Na internete našiel celkom dobrú mapu, ktorá by sa mu do referátu výborne hodila, nápisy na nej však boli v anglickom jazyku. Janko sa rozhodol, že si vedľa mapy vypíše v slovenčine aspoň názvy štátov, ktoré Baltské more obmýva. Urob to aj ty!



- 1 -
 2 -
 3 -
 4 -
 5 -
 6 -
 7 -

Hviezdičkami boli v mape označené hlavné mestá niektorých štátov. Janko zakrúžkoval hviezdičku, ktorá označuje polohu mesta Tallin. Urob to aj ty!

8. V každom riadku prečiarkni jeden pojem, ktorý do neho nepatrí. V zátvorke máš uvedenú pomôcku.
- Onežské jazero, Neziderské jazero, Ladožské jazero, Morské oko (činnosť ľadovca)
 - Ural, Emba, Don, Volga (Kaspické more)
 - Severné more, Pyreneje, Biskajský záliv, Atlas (nultý poludník)

Zdroje údajov a obrázkov: <https://www.cia.gov/library/publications/the-world-factbook/>
<http://wwwnc.cdc.gov/travel/destinations/bolivia.htm>
http://sk.wikipedia.org/wiki/S%C3%BAbor:CoA_Citt%C3%A0_di_Napoli.svg
http://sk.wikipedia.org/wiki/S%C3%BAbor:Baltic_Sea_map.png (upravené)

Autor: Mgr. Gabriela Nováková, PhD.
 Recenzenti: Mgr. Eva Džupinová, PhD., RNDr. Hilda Kramáreková, PhD.
 Slovenská komisia Geografickej olympiády
 Vydal: IUVENTA – Slovenský inštitút mládeže, Bratislava 2013