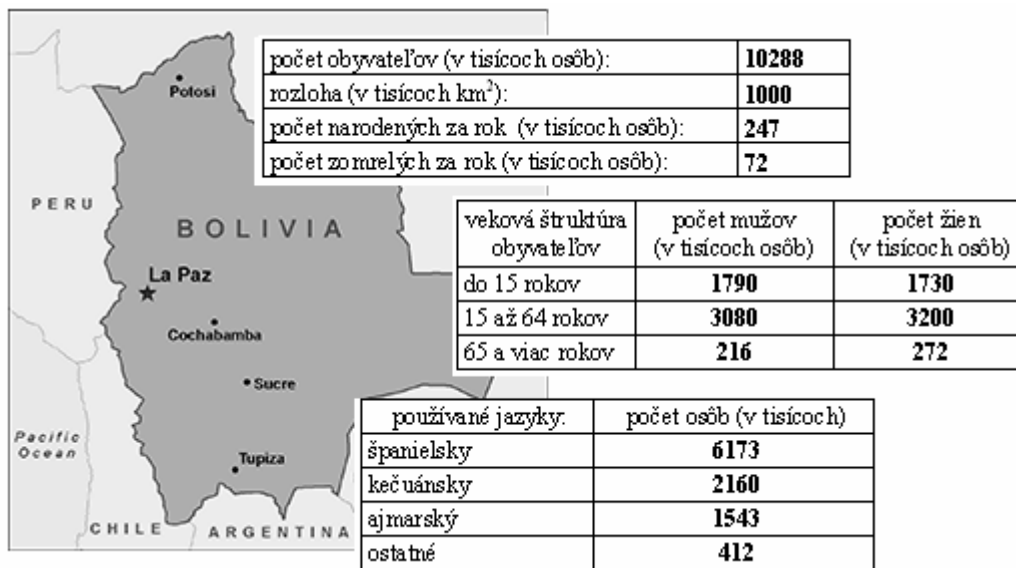


Celoštátne kolo Geografickej olympiády pre ZŠ a 8-ročné gymnáziá
41. ročník, školský rok 2012/2013
Písomný test pre kategóriu G – ZŠ (7. ročník) a OG (2. ročník)
 Monotematická a teoretická časť - úlohy

Meno a priezvisko:
 Škola a trieda:
 Počet bodov:

1. *V tabuľkách na nasledujúcom obrázku z knihy o Bolívii sú uvedené základné informácie o obyvateľstve tohto štátu. Použi ich pri riešení nasledujúcich úloh:



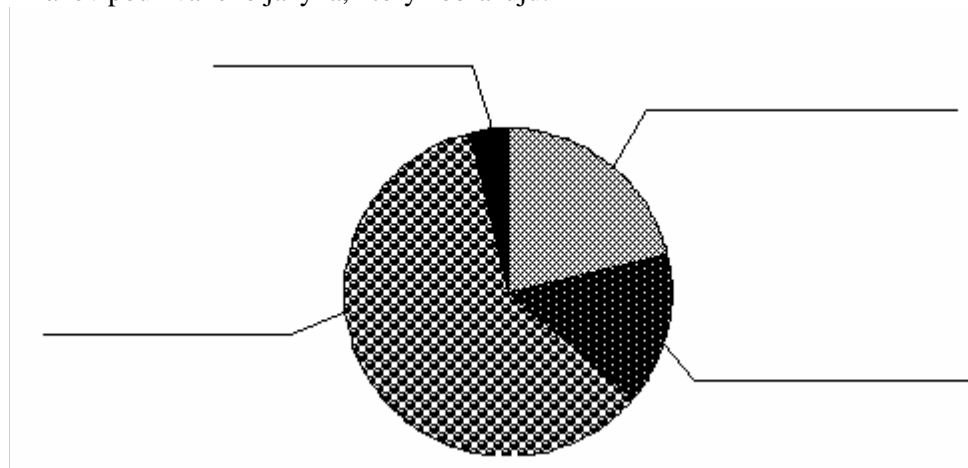
Z vyznačených pojmov a údajov podčiarkni v každej vete ten správny:

- a) V Bolívii pripadá na plochu jeden km² približne **1 obyvateľ** • 10 obyvateľov • 100 obyvateľov.
- b) V Bolívii žije **viac** • **menej** • **rovnaký počet** žien ako mužov.
- c) Španielsky jazyk používa na dorozumievanie **menej ako** • **viac ako** • **približne** polovica obyvateľov Bolívie.

Vypočítaj a doplň:

- d) Veľkosť prirodzeného prírastku v Bolívii za rok je tisíc osôb.
- e) V Bolívii žije tisíc osôb, ktoré sú mladšie ako 15 rokov.

Nasledujúci koláčový graf zobrazuje jazykovú štruktúru obyvateľstva Bolívie. Doplň k jednotlivým výsekom názov používaného jazyka, ktorý zobrazujú.



2. *K súčasnej podobe rozmiestnenia obyvateľstva na Zemi prispeli poznatky, ktoré priniesli vďaka svojim cestám známi objavitelia, cestovatelia a moreplavci. Priradiť nasledujúce osobnosti k storočiu, v ktorom posunuli hranice ľudského poznania:

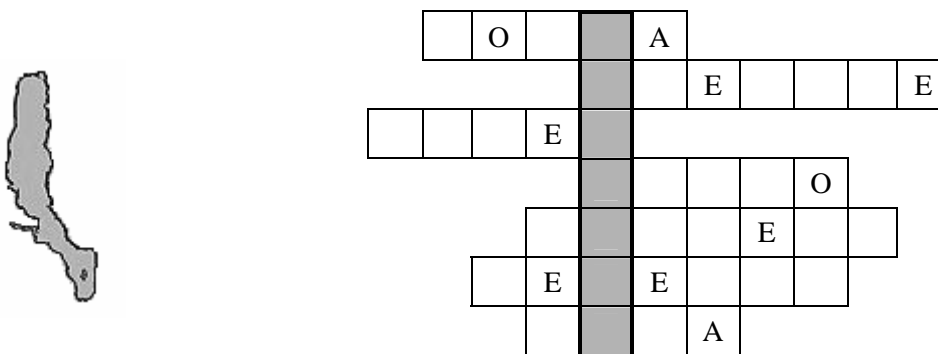
*K. Kolumbus * J. Cook * F. Magalhães * M. Polo **

storočie:	14-te	15-te	16-te	18-te
meno:				

Ktoré dve z uvedených osobností podnikali svoje objaviteľské cesty v službe španielskej koruny?

..... a

3. *Označ symbolom ✓ tie charakteristiky, ktoré majú spoločné Mali a Maroko a symbolom ✗ tie charakteristiky, ktoré spoločné nemajú.
- a) prevládajúce náboženstvo je islam d) počet obyvateľov väčší ako Slovensko
b) viac ako polovicu obyvateľstva tvoria černosí e) tretinu obyvateľstva tvoria prisťahovalci z Ázie (Číňania a Mongoli)
c) úradný jazyk je angličtina
4. Predstav si mapu Afriky a do nasledujúcej doplnovačky doplň názvy jej známych riek alebo veľkých vodných plôch. Pomôžu ti predtlačené písmená. V tajničke sa skrýva názov jedného známeho afrického jazera. Jeho obrysy sú znázornené na obrázku vedľa doplnovačky. Na brehoch tohto jazera sa našli pozostatky prehistorického človeka. Je to jazero _ _ _ _ _ .



Nasledujúce výroky sú o jazere z tajničky. Označ symbolom ✓ tie výroky, ktoré sú pravdivé a symbolom ✗ tie, ktoré sú nepravdivé.

- a) Toto jazero má aj iné pomenovanie odvodené od mužského krstného mena.
b) Väčšina pobrežia tohto jazera leží v rovníkovom štáte.
c) Jazero je súčasťou Východoafrickej priekopovej prepadliny (plošiny).
d) Jazero leží v bezodtokovej oblasti.

5. Tvrdenia o nasledujúcich zaujímavých objektoch zakrúžkuj, ak sú správne a prečiarkni, ak sú nesprávne:

a) MEKONG	A. zväčšuje svoj prietok najmä v marci, pretože naberá vodu z roztopeného snehu. B. pramení v Tibetskej náhornej plošine. C. má dlhší tok ako Ganga.
b) GOBI	A. vznikla kvôli nedostatku zrážok v oblasti so subtropickým podnebím. B. môže v zime občas zažiť aj sneženie. C. je prevažne tvorená obrovskými plochami piesočných dún.
c) PETRA	A. je zapísaná do Zoznamu svetového kultúrneho a prírodného dedičstva UNESCO. B. sa nachádza v Údolí kráľov v Jordánsku. C. je skalné mesto vytesané do čierneho mramoru.

d) SKALNÝ CHRÁM	A. patrí medzi posvätné miesta kresťanov v Izraeli. B. má pozlátenú kupolu. C. sa nachádza v kláštornom komplexe niekoľko kilometrov od Jeruzalema.
-----------------------	---

6. Cestovateľ Janko sa chcel zorientovať v oblasti Perzského zálivu. Na internete našiel celkom dobrú mapu, nápisy na nej však boli v arabskom jazyku. Janko sa rozhodol, že si vedľa mapy vypíše názvy týchto štátov v slovenčine. Urob to aj ty!



- 1 -
- 2 -
- 3 -
- 4 -
- 5 -
- 6 -
- 7 -

Jeden štát Perzského zálivu
Janko zabudol označiť.
Napíš, ktorý!

.....

7. Do ktorých štátov by si musel cestovať, keby si chcel vidieť:

- a) Kappadokiú? Do
- b) Asalskú preliačinu? Do
- c) Akkru? Do
- d) Tônlé Sab? Do
- e) Ayers Rock? Do
- f) Acapulco? Do

8. Pre ktoré dva svetadiely platí, že z každých 100 ľudí tam žije okolo 80 v mestách?

..... a

Zdroje údajov a obrázkov: <https://www.cia.gov/library/publications/the-world-factbook/>
<http://wwwnc.cdc.gov/travel/destinations/bolivia.htm>
http://de.wikipedia.org/wiki/Persischer_Golf

Autor: Mgr. Gabriela Nováková, PhD.
 Recenzenti: Mgr. Eva Džupinová, PhD., RNDr. Hilda Kramáreková, PhD.
 Slovenská komisia Geografickej olympiády
 Vydal: IUVENTA – Slovenský inštitút mládeže, Bratislava 2013