

**Obvodné kolo Geografickej olympiády pre ZŠ a 8-ročné gymnáziá**  
**41. ročník, školský rok 2012/2013**  
**Písomný test pre kategóriu F – ZŠ (8. ročník) a OG (3. ročník)**  
 Monotematická a teoretická časť - úlohy

Meno a priezvisko: .....

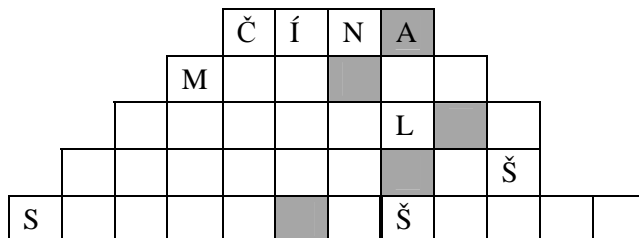
Škola a trieda: .....

Počet bodov: .....

1. \* Zakrúžkuj správnu odpoveď:

a) TASMÁNČANIA	A. sú obyvatelia žijúci na súostroviach v Tasmanovom mori. B. sú pôvodní obyvatelia ostrova Tasmánia, ktorí sú dnes už vyhynutí. C. sú čierni obyvatelia oblasti Tasmanland v juhovýchodnej časti Austrálie.
b) MASAJOVIA	A. žijú najmä v Južnej Afrike. B. žijú v severnej Tanzánii a juhozápadnej Keni. C. žijú v oblasti pohorí Ťan-šan a Altaj.
c) MESTICI	A. sú miešanci amerických indiánov a belochov. B. sú pôvodní obyvatelia Havajských ostrovov. C. sú potomkovia černošských otrokov presídlených do Ameriky.
d) HINDUISTI	A. tvoria prevažnú väčšinu obyvateľov Indonézie. B. prevládajú medzi obyvateľmi Indie. C. tvoria nadpolovičnú väčšinu obyvateľov Srí Lanky.
e) PYGMEJOVIA	A. žijú v dažďových pralesoch strednej Afriky. B. žijú na náhorných plošinách južnej a východnej časti Afriky. C. sú príslušníci dnes už vyhynutého kmeňa, ktorí obývali oblasť púšte Kalahari.

2. \* Najľudnatejším štátom sveta je Čína. Do nasledujúcej doplnovačky vpiš názvy ďalších štyroch štátov, ktoré majú viac ako 100 miliónov obyvateľov. Pomôžu ti predtlačené písmená. Tri z hľadaných štátov sa nachádzajú na západnej pologuli. Ak v správnom poradí usporiadaš písmená z farebne vyznačených políčok doplnovačky, dostaneš názov ďalšieho veľmi ľudnatého štátu. Je to štát \_ \_ \_ \_ \_.



3. Prirad' k nasledujúcim názvom správny pojem. Každý pojem môžeš použiť iba raz . Vyberaj z:

*vodopád, jazero, sopka, mys, prieliv, záliv*

- |                     |                     |
|---------------------|---------------------|
| A. Botnický - ..... | D. Vänern - .....   |
| B. Hekla - .....    | E. Bospor - .....   |
| C. Nordkinn - ..... | F. Gavarnie - ..... |

4. Označ krížikom tie udalosti, ktoré sa udiali v roku 2012:

- |    |                          |   |
|----|--------------------------|---|
| a) | <input type="checkbox"/> | Počet obyvateľov Zeme dosiahol 8 miliárd.                               |
| b) | <input type="checkbox"/> | Nobelova cena mieru bola udelená Európskej únii.                        |
| c) | <input type="checkbox"/> | Zomrel Robert Schuman, autor projektu zjednocovania Európy.             |
| d) | <input type="checkbox"/> | Letisko Ruzyně v Prahe sa premenovalo na Letisko Václava Havla.         |
| e) | <input type="checkbox"/> | Hurikán Sandy zasiahol východné pobrežie USA a napáchal obrovské škody. |
| f) | <input type="checkbox"/> | Chorvátsko bolo prijaté do Európskej únie ako 28. členský štát.         |

5. Jurko dostal za domácu úlohu zakresliť do slepej mapy Európy nasledujúce objekty:

- |                     |                     |                          |
|---------------------|---------------------|--------------------------|
| 1 – Barentsovo more | 4 – Ladožské jazero | 7 – sopka Etna           |
| 2 – ostrov Korzika  | 5 – mesto Varšava   | 8 – Gibraltársky prieliv |
| 3 – ústie Dunaja    | 6 – štát Litva      |                          |


Jurko správne zakreslil jeden objekt a odbehol sa do kuchyne najesť. Jeho mladší brat Tomáško našiel na Jurkovom stole otvorený zošíť s úlohou a slepá mapa ho tak zaujala, že do nej dokreslil ostatné objekty – samozrejme nesprávne.

- a) Ktorý z objektov stihol Jurko správne zaznačiť do slepej mapy? .....
- b) Kde mali byť umiestnené tie ostatné? Oprav Tomáškovy omyly a zapíš čísla siedmich nesprávne zakreslených objektov na správne miesta.



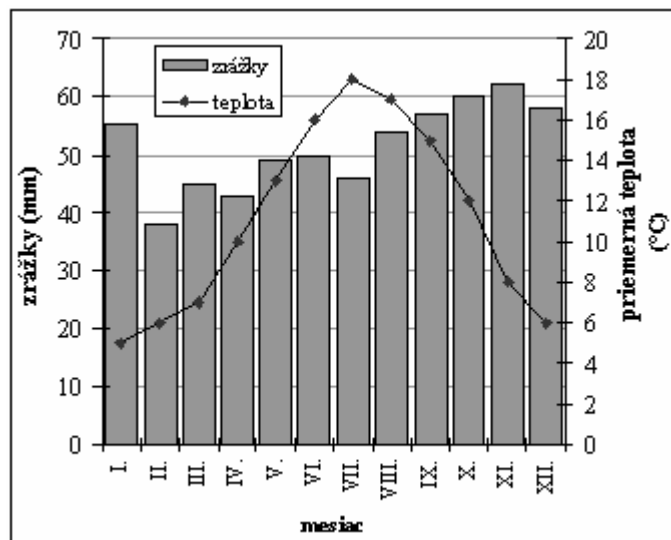
6. Ktoré európske mestá sú znázornené na výrezoch z poštových známok na nasledujúcich obrázkoch? Prirad' k písmenám názvy miest. Vyberaj z:

*Varšava, Bratislava, Praha, Košice, Krakov, Budapešť, Berlín, Viedeň*



A - ..... B- ..... C - ..... D - .....

7. Usporiadaj písmená v nasledujúcich slovách tak, aby vznikli názvy známych európskych riek. Potom ku každej rieke dopíš názov štátu, na ktorého území rieka pramení.
- a) S I L V A - ..... pramení v .....
- b) D O R A - ..... pramení v .....
- c) A B E L - ..... pramení v .....
8. V nasledujúcom klimadiagrame sú znázornené mesačné úhny zrážok a priemerné mesačné teploty v meste Londýn.



A. Dopln názvy mesiacov a čísla do nasledujúcich viet:

- a) Najteplejším mesiacom v Londýne je ....., v ktorom priemerná teplota vzduchu dosahuje ..... °C.
- b) Najsuchším mesiacom v Londýne je ....., v ktorom celkové zrážky dosahujú hodnotu ..... mm.

B. Dopln k nasledujúcim vetám **ÁNO** alebo **NIE**, podľa toho, či s nimi súhlasíš alebo nesúhlasíš.

- c) V Londýne majú jeseň daždivejšiu než jar. ....
- d) Prvý štvrťrok (mesiace január až marec) je v Londýne chladnejší ako posledný štvrťrok (mesiace október až december). ....
- e) Ročný úhrn zrážok v Londýne je približne dvakrát taký ako ročný úhrn zrážok v Bratislave. ....
- f) Priemerná júlová teplota vzduchu v Londýne je vyššia ako priemerná júlová teplota vzduchu v Bratislave. ....
- g) Zima v Londýne je chladnejšia ako zima v Bratislave, pretože Londýn leží severnejšie ako naše hlavné mesto. ....
- h) Rozdiel medzi letnou a zimnou teplotou v Londýne je väčší ako v Bratislave, pretože Bratislava leží bližšie k teplému Stredozemnému moru. ....

Použité zdroje údajov a obrázkov:

<http://www.google.sk/imgres?imgurl=http://www.mapyeuropy.eu> (upravené)

<http://www.google.sk/search> (upravené)

Autor: Mgr. Gabriela Nováková, PhD.

Recenzenti: Mgr. Eva Džupinová, PhD., RNDr. Hilda Kramáreková, PhD.

Slovenská komisia Geografickej olympiády

Vydal: IUVENTA – Slovenský inštitút mládeže, Bratislava 2013