

Obvodné kolo Geografickej olympiády pre ZŠ a 8-ročné gymnáziá
41. ročník, školský rok 2012/2013
Písomný test pre kategóriu F – ZŠ (8. ročník) a OG (3. ročník)
 Monotematikus és elméleti rész - feladatok

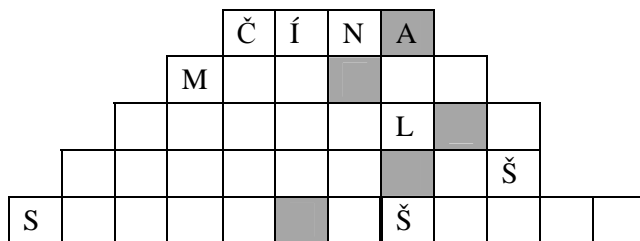
Név:
 Iskola és osztály:
 Elért pontszám:

1. *Karikázd be a helyes választ:

a) TASMÁNOK	A. A Tasmán-tenger szigetvilágának lakossága. B. Tasmánia őslakosai, akik mára már kihaltak. C. Tasmanland fekete lakossága Ausztrália délkeleti részén.
b) MASZÁJOK	A. Dél-Afrikában élő nép.. B. Tanzánia északi és Kenya délnyugati részén élő nép. C. A Tien-san és az Altáj-hegységben élő nép.
c) MESZTICEK	A. Az amerikai indiánok és fehérek keverékei.. B. A Hawaii-szigetek őslakosai. C. Az Amerikába hurcolt fekete rabszolgák leszármazottjai.
d) HINDUK	A. Indonézia lakosságának döntő részét alkotják. B. Indiában vannak többségben. C. Srí Lanka lakosságának több, mint felét alkotják.
e) PIGMEUSOK	A. Közép-Afrika esőerdeiben élő nép. B. Dél- és Kelet-Afrika fennsíkain élő nép. C. A Kalahári-sivatagban egykor élt, mára kihalt törzs tagjai.

2. *A világ legnépesebb állama Kína. Az alábbi rejtvénybe írd be további négy állam nevét (szlovákul), amelyek több, mint 100 millió lakossal rendelkeznek. Az előre beírt betűk segítséget nyújtanak ebben. A beírandó államok közül három a nyugati féltekén fekszik. Ha a szürkére festett mezőkbe kerülő betűket helyes sorrendbe rakod, egy következő, magas népességű állam nevét kapod.

Ez az állam: _ _ _ _ _.



3. Párosítsd az alábbi kifejezéseket. Minden kifejezést csak egyszer használhatsz fel:

vízesés, tó, tűzhányó, fok, szoros, öböl

- | | |
|---------------------|-----------------------|
| A. Botteni - | D. Vänern - |
| B. Hekla - | E. Boszporusz - |
| C. Nordkinn - | F. Gavarnie - |

4. X-szel jelöld azokat az eseményeket, amelyek 2012-ben játszódtak le:

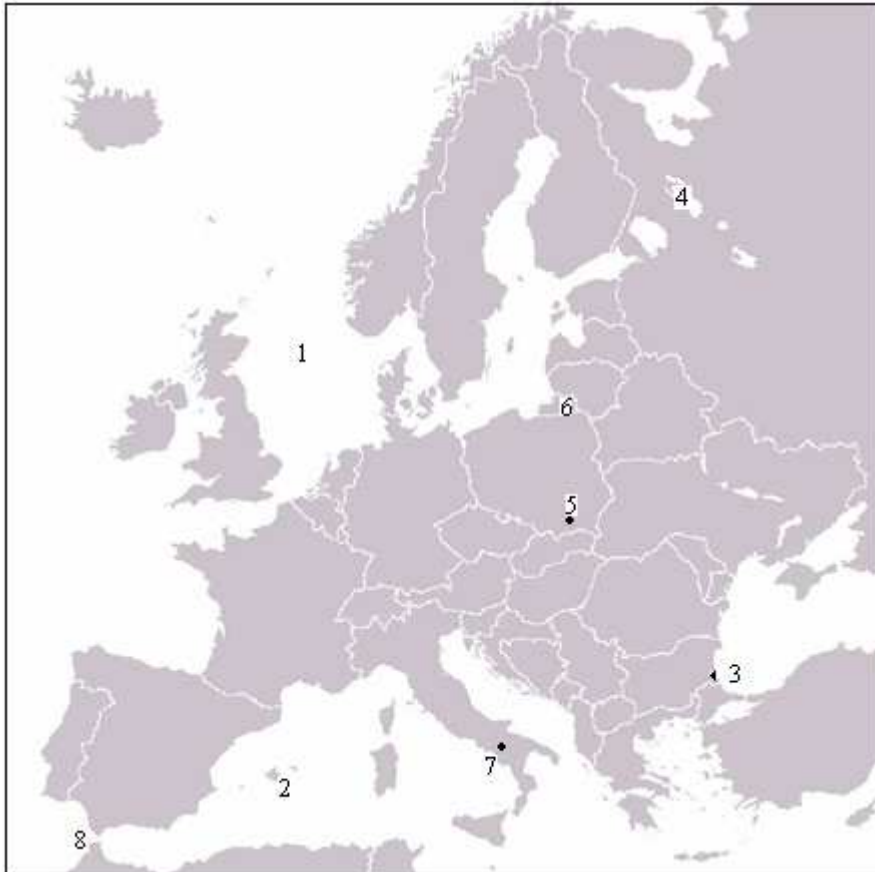
- a) A Föld lakossága elérte a 8 milliárdot.
- b) A Nobel-békedíjat az Európai Unió kapta meg.
- c) Meghalt Robert Schuman, az egyesült Európa kitalálója.
- d) A prágai Ruzyně repülőteret Václava Havel repülőtérre nevezték át.
- e) A Sandy hurrikán elérte az USA keleti partvidékét, és hatalmas károkat okozott.
- f) Horvátország lett az Európai Unió 28. tagállama.

5. Gyurinak házi feladatára a következő objektumokat kell berajzolnia Európa vaktérképébe:

- | | | |
|----------------------|---------------|-----------------------|
| 1 – Barents-tenger | 4 – Ladoga-tó | 7 – Etna |
| 2 – Korzika | 5 – Varsó | 8 – Gibraltári-szoros |
| 3 – a Duna torkolata | 6 – Litvánia | |



Miután Gyuri egy objektumot helyesen bejelölt, elszaladt a konyhába uzsonnázni. Ezalatt Tamás, Gyuri öccse megtalálta a fiú füzetét, és berajzolta a hiányzó objektumokat - természetesen hibásan.

- a) Melyik objektumot rajzolta be helyesen Gyuri?
- b) Hová kellett volna rajzolnia a többi objektumot? Javítsd ki Tamás hibáit, és írd az egyes számokat a megfelelő helyekre.



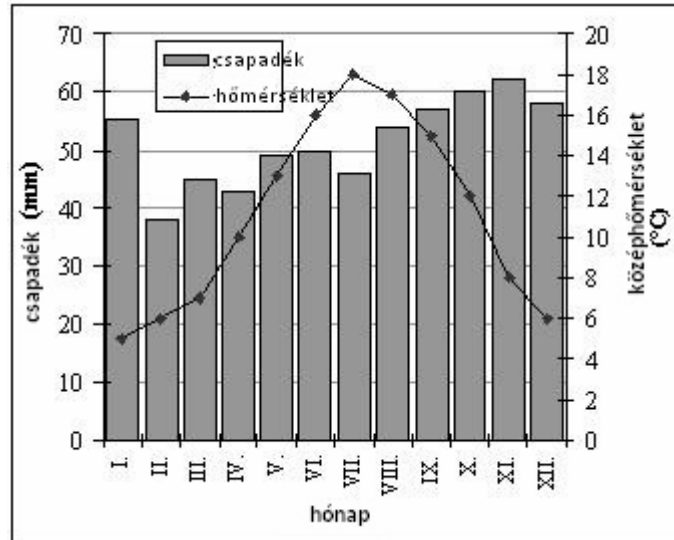
6. Melyik európai városokat ábrázolják a bélyegkivágások? Válassz az alábbi városok közül, és párosítsd az őket a helyes betűmegjelölésekkel:

Varsó, Pozsony, Prága, Kassa (Košice), Krakkó, Budapest, Berlin, Bécs



A - B- C - D -

7. Rendezd a betűket és rakd ki ismert európai folyók nevét, majd a folyó megnevezése mellé írd le, melyik államban ered.
- a) SZILVAUT - forrás:
- b) EDORA - forrás:
- c) ABEL - forrás:
8. A következő éghajlati diagram London havi csapadék- és hőmérsékleti adatait ábrázolja.



A. Az alábbi mondatokban pótolj a megfelelő hónapok neveit és a hiányzó adatokat:

- a) London legmelegebb hónapja, amikor az átlagos hőmérséklet értéke °C.
- b) London legszárazabb hónapja, amikor a csapadékmennyiség mindössze mm.

B. Az alábbi mondatokról állapítsd meg, hogy igazak-e. Ennek megfelelően írd melléjük az **IGEN** vagy a **NEM** szót.

- c) Londonban az ősz csapadékosabb, mint a tavasz.
- d) Az első negyedév (január-március) hidegebb, mint az utolsó negyedév (október-december).
.....
- e) London éves csapadékmennyisége nagyjából duplája Pozsony éves csapadékmennyiségének.
.....
- f) London júliusi középhőmérséklete magasabb, mint Pozsony júliusi középhőmérséklete.
- g) Londonban a tél hidegebb, mint Pozsonyban, mert London északabbra fekszik fővárosunktól.
.....
- h) Londonban a nyári és a téli középhőmérsékletek közötti különbség magasabb, mint Pozsonyban, mert Pozsony közelebb fekszik a meleg Földközi-tengerhez.

Použitie zdrojov údajov a obrázkov:

<http://www.google.sk/imgres?imgurl=http://www.mapyeuropy.eu> (upravené)
<http://www.google.sk/search> (upravené)

Autor: Mgr. Gabriela Nováková, PhD.

Recenzenti: Mgr. Eva Džupinová, PhD., RNDr. Hilda Kramáreková, PhD.

Preklad: RNDr. Ferenc Zirig

Slovenská komisia Geografickej olympiády

Vydal: IUVENTA – Slovenský inštitút mládeže, Bratislava 2013