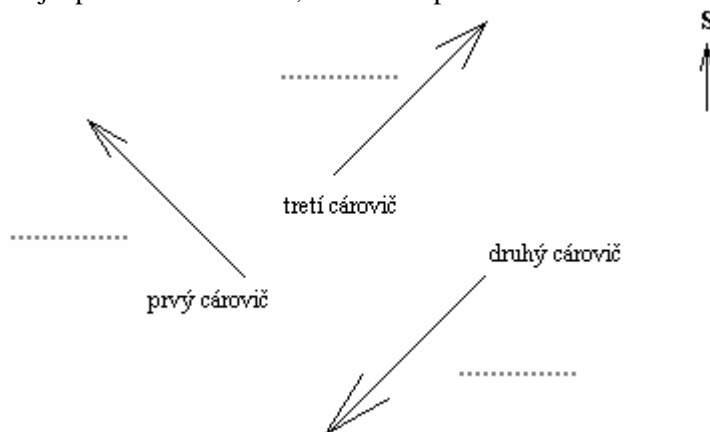


Geografická olympiáda pre ZŠ a 8-ročné gymnáziá
41. ročník, školský rok 2012/2013
Obvodné kolo
Písomný test pre kategóriu I – ZŠ (5. ročník)
Praktická časť – úlohy

Meno a priezvisko:
Škola a trieda:
Počet bodov:

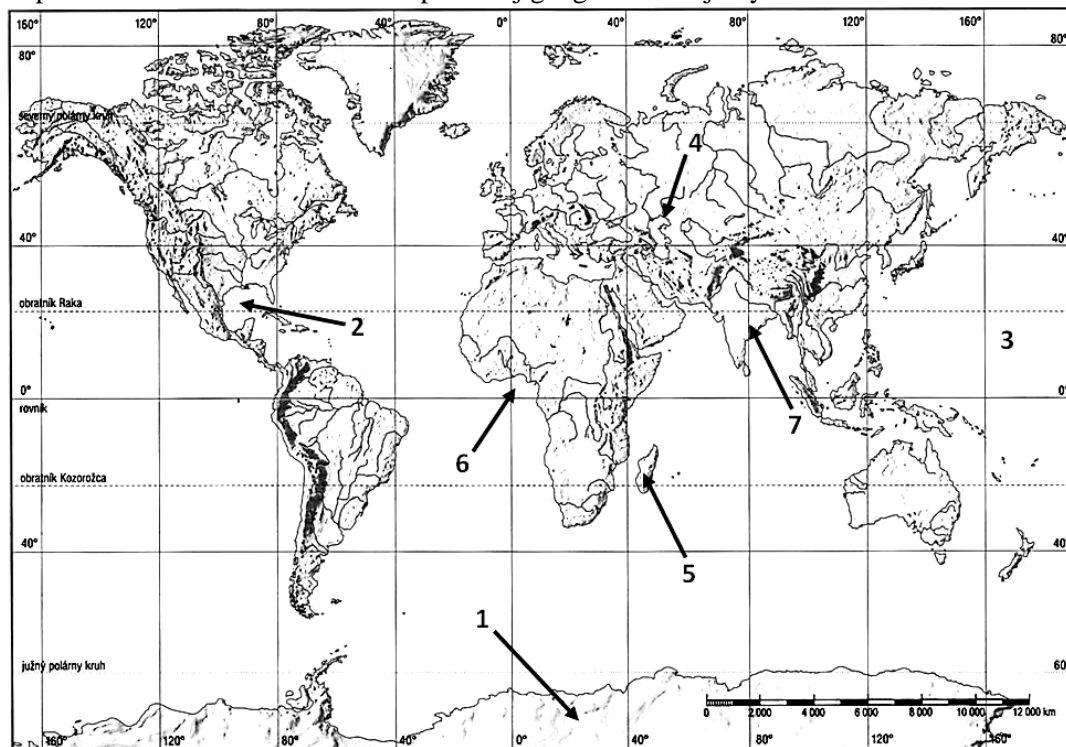
1. Traja cárovi synovia dostali príkaz vybrať si nevestu. Každý z nich vystrelil jeden šíp, a tá dievčina, ktorá šíp zdvihla, sa stala mládencovou ženou. V nasledujúcom pláne sú zobrazené smery vystrelených šípov. Dopln' ku každej šípke svetovú stranu, na ktorú šíp letel.



Traja cároviči si zašli po svoje nevesty a vrátili sa tou istou cestou späť domov. Dopln' ku každému z nich smer cesty (svetovú stranu) pri jeho návrate.

- a) Prvý cárovič – b) Druhý cárovič – c) Tretí cárovič –
2. Zisti aké geografické objekty sa nachádzajú na miestach s geografickými súradnicami:
- a) 30. rovnobežka na S pologuli, 90. poludník na Z pologuli - mesto
- b) 0. rovnobežka, 100. poludník na V pologuli - ostrov
- c) 40. rovnobežka na S pologuli, 90. poludník na V pologuli - jazero
- d) 20. rovnobežka na S pologuli, 20. poludník na V pologuli - štát
3. V nasledujúcich tvrdeniach zakrúžkuj z vyznačených možností tú správnu:
- a) Kerčský prieliv oddeľuje Čierne more a Azovské more – Čierne more a Marmarské more.
- b) Východné pobrežie Južnej Ameriky obmýva Benguelský oceánsky prúd – Brazílsky oceánsky prúd.
- c) Obratník Raka prechádza púšťou Sahara – púšťou Kalahari.
4. S pomocou mapy časových pásem zisti, koľko hodín je v nasledujúcich mestách sveta, keď v Bratislave je 9:00 ráno. V zátvorke máš ako pomôcku uvedený názov svetadielu, na ktorom sa dané mesto nachádza.
- a) Moskva (Európa): hod. c) Peking (Ázia): hod.
- b) Paríž (Európa): hod. d) Brazília (Amerika): hod.
5. Pomocou atlasu dopln' geografické názvy naj... objektov:
- a) najväčší ostrov Južnej Ameriky:
- b) najväčší ostrov sveta:
- c) najvyššie pohorie Afriky:

6. S pomocou školského atlasu sveta pomenuj geografické objekty označené číslami.



- | | |
|---|-----------------------|
| 1 kontinent | 5 ostrov |
| 2 záliv | 6 oceánsky prúd |
| 3 oceán | 7 polostrov |
| 4 more (zároveň najväčšie jazero sveta) | |

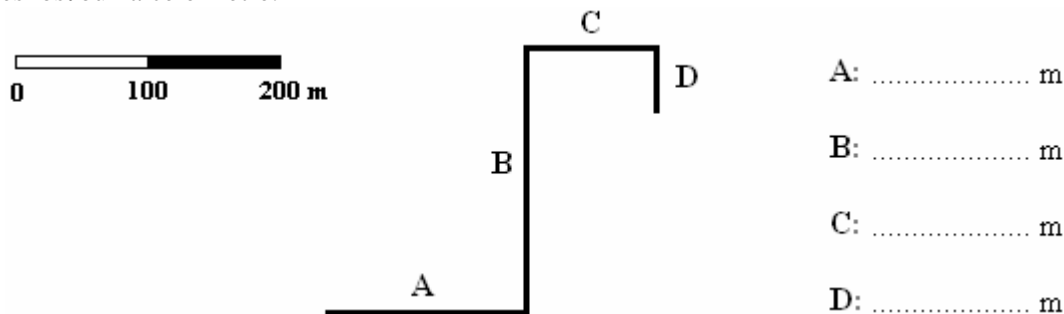
7. V školskom atlase sveta vyhľadaj a pomenuj:

- more oddeľujúce Afriku a Áziu
- prieliv oddeľujúci Európu a Afriku
- oceán medzi Európou a Amerikou
- šiju, ktorá spája Afriku s Áziou
- prieplav oddeľujúci Severnú Ameriku od Južnej Ameriky

8. V školskom atlase na mape Najrozšírenejších jazykov sveta vyhľadaj jazyk, ktorým sa rozpráva:

- | | |
|-----------------------|--------------------|
| a) v Brazílii: | c) v Egypte: |
| b) v Austrálii: | d) v Čade: |

9. Mamička sa so svojim dieťaťom prechádzala po parku. Trasa ich pohybu je znázornená v nasledujúcom pláne. Pomocou grafickej mierky odmeraj jednotlivé úseky A, B, C a D, ktoré prešli. Hodnoty uveď s presnosťou na celé metre.



Autor: RNDr. Lucia Šolcová, PhD.

Recenzenti: RNDr. Hilda Kramáreková, PhD., Mgr. Gabriela Nováková, PhD.

Slovenská komisia Geografickej olympiády

Vydal: IUVENTA – Slovenský inštitút mládeže, Bratislava 2013