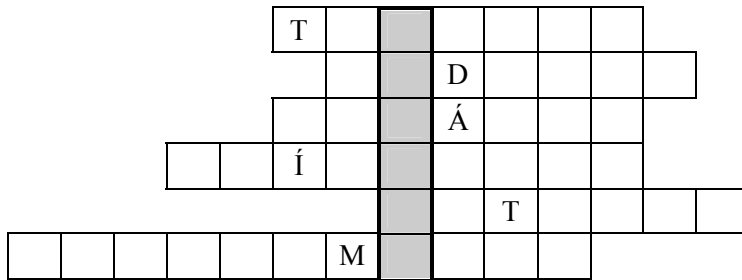


Okresné kolo Geografickej olympiády pre ZŠ a 8-ročné gymnáziá
44. ročník, školský rok 2015/2016
Písomný test pre kategóriu E – ZŠ (8. a 9. ročník) a OG (3. a 4. ročník)
 Elméleti rész - feladatok

Név:
 Iskola és osztály:
 Elért pontszám:

1. *Az alábbi rejtvénybe írd be különböző energiatípusokat (származásuk alapján), és határozd meg a megfejtést. **[Szlovákul!]** Segítségére lesznek az előre beírt betűk. Az így kapott szót helyettesítsd be a rejtvény alatti mondatba.

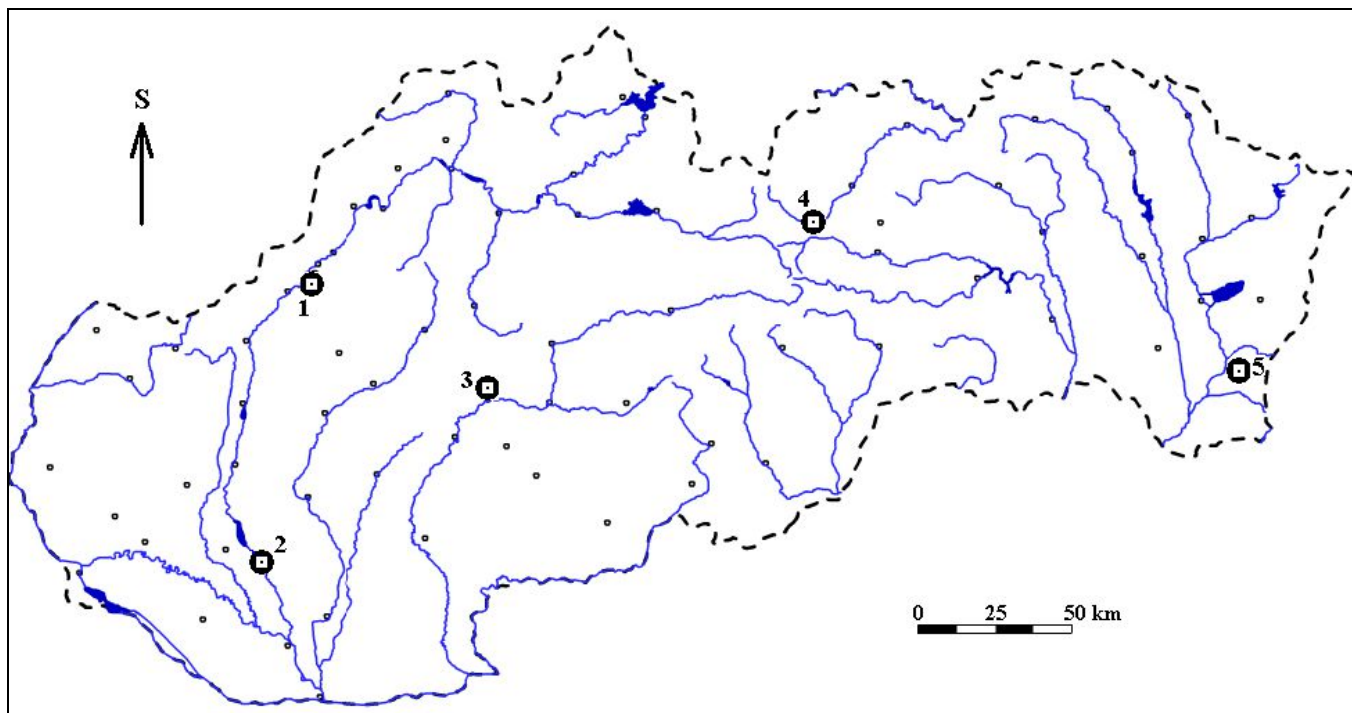


- A kőolaj, szén, földgáz, vagy pl. az uránizotópok közös megnevezése: _____.
2. *A következő mondatokban pótdold a hiányzó kifejezéseket:
- A kőolajat exportáló országokat tömörítő szervezet rövidítése: _____.
 - A kőolajiparban a leggyakrabban alkalmazott űrmértékegység megnevezése: _____.
Nagyjából 160 liter térfogatnak felel meg.
 - A vasércből készülő nyersvas előállítására szolgáló berendezés megnevezése: _____.
3. Az alábbi táblázat minden sorában árnyékkold vagy színezd be azt a mezőt, amely az adott meghatározás alapján Németországra jellemző:

népesség (2014)	102 mil.	95 mil.	81 mil.	62 mil.
terület	75 ezer km ²	150 ezer km ²	360 ezer km ²	620 ezer km ²
címerállat	kétfejű sas	sas	oroszlán	kakas
szomszédos államok száma	6	7	9	12
leghosszabb államhatár	Csehországgal	Ausztriával	Lengyelországgal	Franciaországgal
szövetségi tartományok száma	25	16	9	3
az EU tagja	1957-től	1968-tól	1991-től	1999-től
jelenlegi pénznem	német márka	német silling	német korona	euró
legnagyobb város	Berlin	Hamburg	Köln	Bréma
legnagyobb tengeri kikötő	Hamburg	Bréma	Lübeck	Rostock
a szántóföld aránya az ország területén belül	20 %	34 %	48 %	59 %

4. Nevezd meg a Szlovákia térképén 1-5 számjegyekkel megjelölt városokat. Ezután jellemezd őket az alábbi kifejezések egyikével:

hőerőmű, cukorgyár, alumínium feldolgozás, vagongyártás, műtrágyagyártás



település

jellemző kifejezés

- 1 - -
- 2 - -
- 3 - -
- 4 - -
- 5 - -

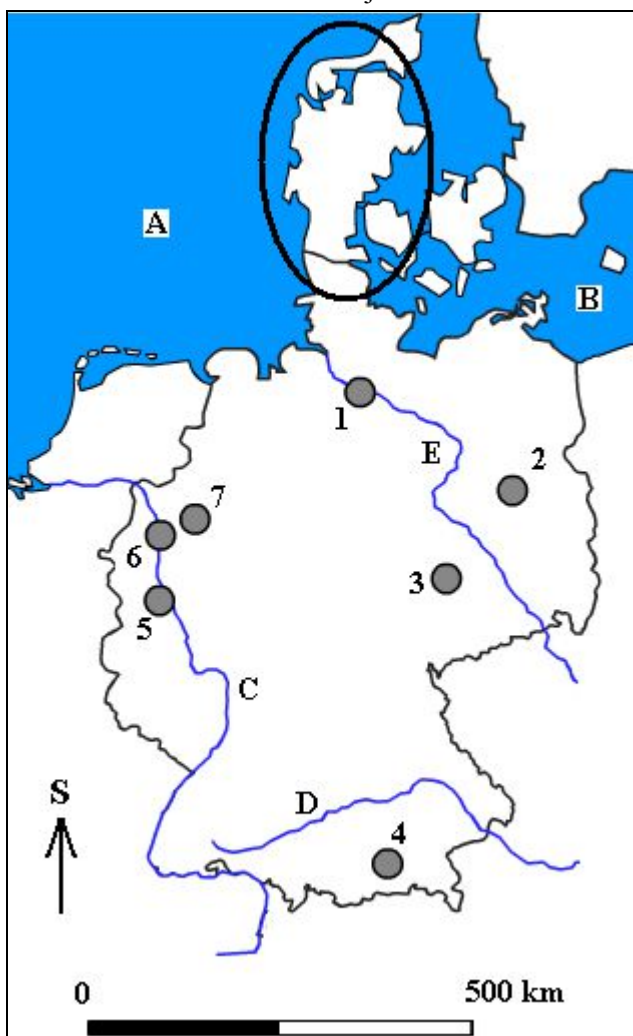
5. Márk Banská Bystricán él. Barátja, Vlado, a szüleivel egy évvel ezelőtt Lipschébe költözött. A fiúk azonban kapcsolatban maradtak, és gyakran írnak egymásnak e-mailt. Olvasd el figyelmesen Vlado levelét, azután válaszolj a kérdésekre!

Szia, Márk!

*Az elmúlt hétvégén a szüleimmel meglátogattuk Németország legnagyobb szigetét. A sziget neve ***** és a Balti-tengerben található. Nagyon jó volt ott lenni. A hazafelé vezető úton megálltunk Wolfsburgban. Talán tudod, hogy ebben a városban található a híres autógyártó üzem, a(z) ******, amely Szlovákiában is állít elő gépkocsikat. Már a múltkor is megírtam, hogy apám elvitt a Bayern München edzésére. A futballisták ***** márkájú mezt viseltek. Tudtad, hogy ez a világhírű német márka a cég alapítója, Adolf Dassler nevéből származik? Az edzés után körül néztünk Münchenben. Ez a város az egyik szövetségi tartomány, ***** székhelye. Jelenleg München Németország *****-dik legnagyobb városa. Németországban a legnépesebb etnikai kisebbséget a(z) ***** bevándorlók képezik. Az ország lakosságának 2 %-át alkotják. Sokan közülük a 20. század 60-as, 70-es éveiben költöztek ide jobb munkalehetőségek reményében. Az osztályunkba is jár három ***** származású fiú. Legközelebbi levelemben majd küldök képeket is a kirándulásról. Addig is minden jót kívánok!*

Vlado

- Melyik szigeten kirándult Vlado?
 - Melyik nagy konszern székhelye Wolfsburg?
 - Melyik szlovákiai városban található a fenti vállalatnak kiterjedt üzemegysége?
.....
 - Melyik német szövetségi tartomány székhelye München?
 - Melyik német sportöltözet, -lábbeli és sportszermárkát említette Vlado?
 - Népességét tekintve hányadik helyen található München a német városok között?
 - Melyik államból vándorolt Németországba munkalehetőség reményében sok ember a 20. század 60-as és 70-es éveiben?
6. Jól ismered Németország térképét? A térkép melletti számokhoz pótold a hiányzó földrajzi megnevezéseket, és válaszolj a kérdésekre!



- B** –-tenger
- C** – folyó:
- E** – folyó:
- 1** – város:
- 4** – város:
- 6** – város:
- Melyik számjegy jelöli a fővárost, Berlint?
.....
- Nevezd meg a bekarikázott félszigetet!
.....

7. Világviszonylatban Szlovákia kitűnik egy olyan nyersanyag kitermelésében, amely magnéziumot tartalmaz. Hőszigetelő képességeinek köszönhetően ezt a nyersanyagot hőszigetelő téglák előállításánál alkalmazzák. Legfontosabb lelőhelyei a Szlovák-érchegységben találhatóak.
- Melyik nyersanyagról van szó?
 - Nevezd meg három szlovákiai várost, amelyek közelében a fenti nyersanyag kitermelése folyik! (A kezdő betűket előre megadtuk.)
H..... J..... K.....

Na tvorbu máp v úlohách 4 a 6 bol použitý Editor máp 2, verzia 2.0, autor RNDr. Š. Karolčík, PhD., © 2010.

Autor: Mgr. Gabriela Nováková, PhD.

Recenzenti: Mgr. Eva Džupinová, PhD., RNDr. Hilda Kramáreková, PhD.

Preklad: RNDr. Ferenc Zirig

Slovenská komisia Geografickej olympiády

Vydal: IUVENTA – Slovenský inštitút mládeže, Bratislava 2016