

Okresné kolo Geografickej olympiády pre ZŠ a 8-ročné gymnáziá
47. ročník, školský rok 2018/2019
Písomný test pre kategóriu E – ZŠ (8. a 9. ročník) a OG (3. a 4. ročník)
 *Monotematikus és elméleti rész - feladatok

Név:
 Iskola és osztály:
 Elért pontszám:

1. *Az egyik legfontosabb természeti idegenforgalmi tényező a víz. A víz a természetben olyan elemeket hoz létre, amelyek gyakran képezik a kirándulások célpontját. A többirányú rejtvényben keresd meg és írd ki azokat a természeti elemeket, amelyek a víz által keletkeztek.

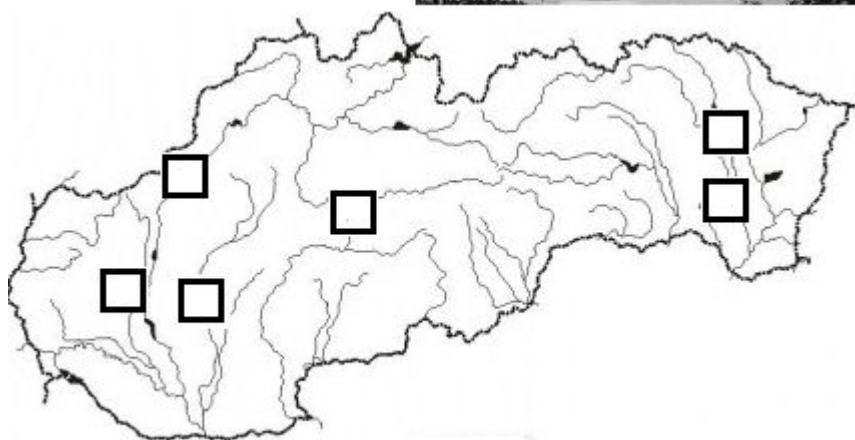

| | | | | | | | |
|---|---|---|---|---|---|---|---|
| S | É | S | E | Z | Í | V | Z |
| M | H | M | J | K | H | Á | B |
| E | G | E | J | Z | Í | R | A |
| A | F | D | H | T | E | T | R |
| N | X | E | H | K | Ó | É | L |
| D | D | R | O | J | F | R | A |
| E | K | A | N | Y | O | N | N |
| R | E | S | C | C | E | L | G |

1.
 2.
 3.
 4.
 5.
 6.
 7.
 8.
 9.
 10.

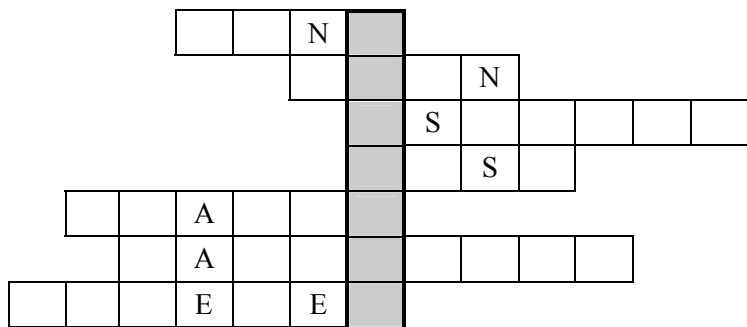
2. A következő csoportokból húzz ki egy-egy települést, amelyik nem tartozik az adott csoportba, mert nem érvényes rá a sor elején található tulajdonság:
- nemzetközi repülőtér: *Košice, Žilina, Banská Bystrica, Poprad, Sliač*
 - a schengeni övezet belső határállomása: *Vyšné Nemecké, Komárno, Kúty, Trstená, Moravský Svätý Ján*
 - működő közúti alagút: *Branisko, Bôrik, Sitina, Šibenik, Višňové*
 - kőolajvezeték: *Moldava nad Bodvou, Rimavská Sobota, Šahy, Nové Zámky, Bratislava*
 - vasút: *Leopoldov, Námestovo, Kapušany, Štúrovo, Handlová*
3. Pozsony (Bratislava) és Prága nem csak Szlovákia és Csehország fővárosai, hanem egyben a két ország legnagyobb városai is. Mit tudsz róluk? Az alábbi táblázat üres mezőit egészítsd ki az IGEN vagy a NEM szóval aszerint, hogy az egyes tulajdonságok érvényesülnek-e a városokkal kapcsolatban.

| Tulajdonság | PRÁGA | POZSON (BRATISLAVA) |
|--|-------|---------------------|
| millió város | | |
| a városon átfolyik az ország legbővizűbb folyója | | |
| a város címer várbástyákat ábrázol | | |
| a lakosság több mint egyharmadát külföldiek alkotják | | |

4. Arnold, a nagy utazó Szlovákiában járt, ahonnan fényképalbumába az itt látható képek kerültek bele. A képek mellett található számokat írd be helyesen a képek alatti térképészletbe.



5. Az alábbi keresztrejtvény csehországi városok neveit tartalmazza. Írd be őket helyesen, majd í szaggatott vonalra írd rá a megfejtést (szürke oszlop).



a második legnagyobb város
először Baťa, majd Gottwald
kőszénbánya
szétvert történelmi városközpont
a fővároshoz közel fekvő város
híres lóverseny
a Ještěd csúcs alatt fekvő város

Megfejtés: _ _ _ _ _

Az alábbi állítások a megfejtésben szereplő városra vonatkoznak. A mondatok előtti mezőbe írd ✓ jelet, ha az állítás igaz, ill. ✗ jelet, ha az állítás hamis.

| | |
|----|--|
| a) | Morvaország legnagyobb városa. |
| b) | Keresztülfolyik rajta a Morva folyó. |
| c) | Lakossága meghaladja Pozsony (Bratislava) és Kassa (Košice) együttes lakosságát. |

6. Csoportosítsd hármassával az alábbi fogalmakat (nagyváros – rajta áthaladó folyó – tulajdonság)

| | | |
|--------------------|---------------------|-------------------------------|
| A. Banská Bystrica | I. Hernád | 1. Szerellem kútja |
| B. Martin | II. Tarca (Torysa) | 2. harmadik legnagyobb város |
| C. Trenčín | III. Turóc (Turiec) | 3. nemzeti temető |
| D. Košice | IV. Garam (Hron) | 4. Urpín hegycsúcs |
| E. Prešov | V. Vág | 5. európai kulturális főváros |

Helyes csoportok: A - -, B - -, C - -, D - -, E - -

Autor: Mgr. Gabriela Nováková, PhD.

Recenzenti: Mgr. Eva Džupinová, PhD., RNDr. Hilda Kramáreková, PhD.

Preklad: RNDr. Ferenc Zirig

Slovenská komisia Geografickej olympiády

Vydal: IUVENTA – Slovenský inštitút mládeže, Bratislava 2019