

# Celoštátne kolo Geografickej olympiády pre ZŠ a 8-ročné gymnáziá

## 36. ročník, školský rok 2007/2008

Písomný test pre kategóriu E – ZŠ (9. ročník)

Praktická časť – úlohy

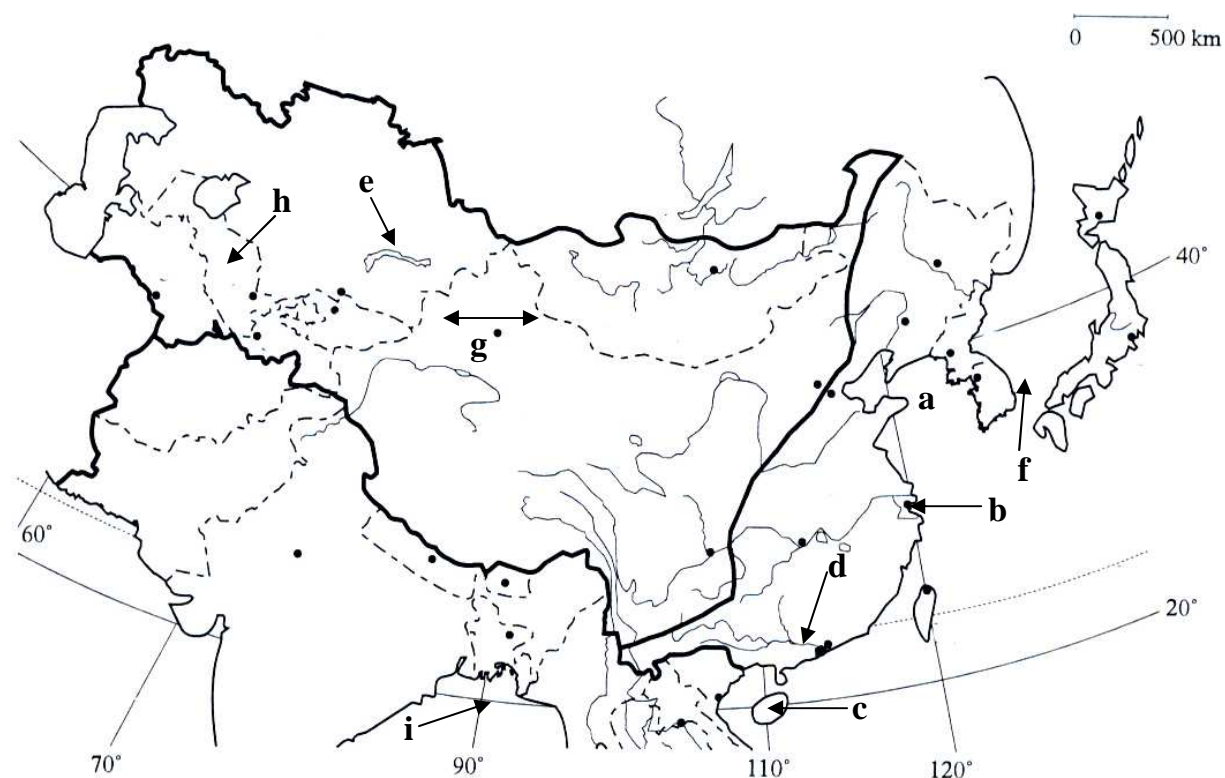
Meno a priezvisko: .....

Škola a trieda: .....

Počet bodov: .....

1. Pomenuj písmenami zašifrované geografické názvy:

- |                 |                  |                   |
|-----------------|------------------|-------------------|
| a - more .....  | b - mesto .....  | c - ostrov .....  |
| d - rieka ..... | e - jazero ..... | f - prieliv ..... |
| g - púšť .....  | h - štát .....   | i - záliv .....   |



2. Urči, do ktorého oceánu sa vlievajú tieto rieky:

- a) Ob ..... b) Volga ..... c) Amur .....

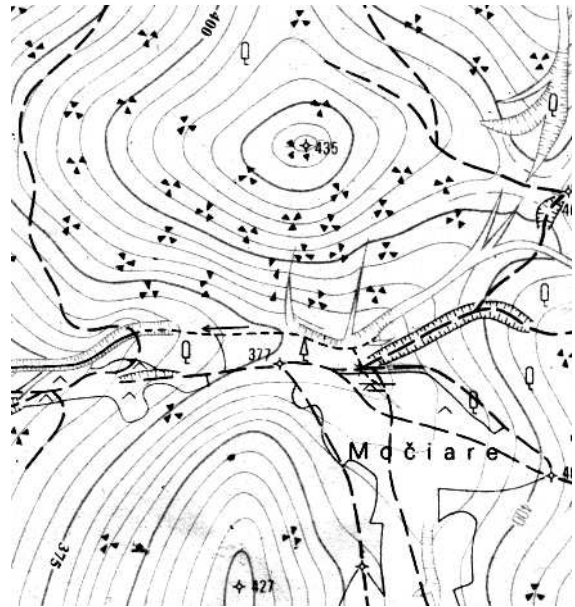
3. S použitím Atlasu sveta a nasledovných miest - *Visby*, *Mahón*, *Kupang*, doplň tabuľku:

štát	ostrov	mesto
	Timor	
	Gotland	
	Menorca	

4. V ktorom národnom parku sa nachádzajú jaskyne:

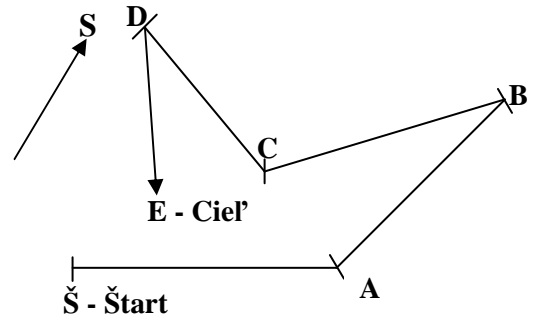
- a) Dobšinská ľadová jaskyňa .....
- b) Demänovská jaskyňa .....

5. Na priloženej mape v mierke 1 : 10 000 určí:
- základné vrstevnice sú kreslené po ..... m,
  - maximálna nadmorská výška územia je ..... m,
  - minimálna nadmorská výška územia je ..... m,
  - výškový rozdiel územia je ..... m,
  - vodný tok tečie smerom na .....,
  - územie pokrýva prevažne ..... les, ale v okolí lokality Močiare sú okrem lesov aj .....,
  - územie od kóty 435 m n.m. smerom na sever ..... (klesá - stúpa)



6. V mape v mierke 1 : 25 000 zisti azimuty a vzdialenosti v skutočnosti:

Úsek	Azimut	Skutočná vzdialenosť v m
Š-A		
A-B		
B-C		
C-D		
D-E		



7. Urči moria, v ktorých sa pretínajú súradnice:

- 20° s.z.š., 40° v.z.d. ....
- 20° s.z.š., 80° z.z.d. ....
- 10° s.z.š., 110° v.z.d. ....
- 15° j.z.š., 155° v.z.d. ....

8. Doplň nasledujúcu tabuľku podľa vzoru v jej prvom riadku.

Mesto	Čas v danom okamihu (v hodinách)	Poludník prechádzajúci stredom príslušného časového pásma
Bratislava	9 : 00	15° v. z. d.
Churchill		
Perth		
Kananga		

9. Vyhľadaj a dopíš názvy najvyšších vrcholov týchto pohorí:

- Atlas .....
- Júlske Alpy .....

Autor: RNDr. Daša Oremusová, PhD.

Recenzenti: Mgr. Gabriela Nováková, Mgr. Eva Džupinová, PhD.

Vydal: Iuventa 2008