

**Celoštátne kolo Geografickej olympiády pre stredné školy
36. ročník, školský rok 2007/2008**

Meno a priezvisko	
Škola a trieda	

Kategória	
Počet bodov	

01. V náboženskej štruktúre juhozápadnej Európy majú najväčšie zastúpenie: body:
 A) katolíci. B) protestanti. C) moslimovia. D) budhisti.
Zakrúžkujte správnu odpoveď.

02. Na ktorom z uvedených svetadielov tvoria púšte najväčšiu časť (vyjadrené v percentách) rozlohy? body:
 A) Austrália. B) Afrika. C) Ázia. D) Amerika.
Zakrúžkujte správnu odpoveď.

03. Rozsiahle trávnaté regióny strednej Ázie sa nazývajú: body:

04. Najhustejšie zaľudnená oblasť (z uvedených možností) je: body:
 A) Predná India. B) Patagónia. C) Florida. D) Balkán.
Zakrúžkujte správnu odpoveď.


05. Do obdĺžnika zhotovte grafický náčrt vekovej pyramídy znázorňujúci stagnujúci typ populácie a uveďte príklad európskeho štátu s podobnou vekovou pyramídou. body:

Príklad európskeho štátu:



06. Do štvorca zhotovte náčrt vrchoviny a uveďte príklad vrchoviny z Európy. body:

Príklad vrchoviny:



07. Pomenujte stupeň lesa, ktorý sa nachádza bezprostredne nad dubovým stupňom. body:

body:

08. Doplňte pojem alebo číslo do každej vety tak, aby vzniklo pravdivé tvrdenie. body:

- A) Cunamy vznikajú v dôsledku
 B) Najviac obyvateľov Zeme patrí k rase.
 C) Vodné elektrárne vyrábajú v súčasnosti viac energie ako elektrárne.
 D) je územie, z ktorého sa voda vlieva do jedného hlavného toku.

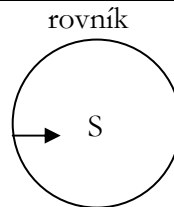
09. Do tabuľky dopíšete písmeno P k pravdivému tvrdeniu a písmeno N k nepravdivému tvrdeniu. body

A	Na obratníku Raka je v januári leto.		
B	Viac ako polovica obyvateľov Zeme žije v Eurázii.		
C	Na mape s mierkou 1 : 200 000 má plocha štvorčeka 1 cm ² v skutočnej krajine rozlohu 4 km ² .		
D	V Rio de Janeiro vychádza každý deň slnko skôr ako v Paname.		

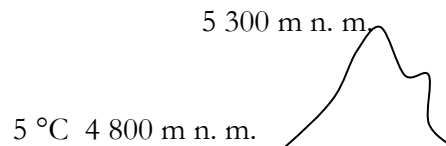
10. K jednotlivým pohoriam napíšete názov aspoň jedného vrchu, ktorý sa v nich týči. body

A	Štiavnické vrchy.		
B	Alpy.		
C	Južné Alpy.		
D	Kaukaz.		

11. Načrtnite smer, ktorým sa stáča prúdenie vzduchu pri pohľade na severný pól. body:



12. Vyznačte do obrysu vrchu v miernom pásme strednej Európy teplotu v stupňoch Celzia k nadmorskej výške vrchola (rozvrstvenie teploty je priemerné). body:



13. Najmenej (relatívny počet) obyvateľov ekvatoriálnej rasy z uvedených svetadielov má: body:

- A) Afrika. B) Európa. C) Amerika. D) Ázia.

Zakrúžkujte správnu odpoveď.

14. Ktorý z uvedených štátov **nie je** vnútrozemský? body:

- A) Švajčiarsko. B) Kazachstan. C) Gruzínsko. D) Mongolsko.

Zakrúžkujte správnu odpoveď.

15. Štát N mal 31. 12. 2006 presne 2 000 000 obyvateľov. V štáte N bol za rok 2007 prirodzený prírastok 1 ‰. V roku 2007 tam zomrelo 20 000 obyvateľov. Koľko detí sa narodilo v štáte N v roku 2007? body:

Postup:

Počet narodených detí

16. Napíšete názov najväčšieho ostrova v Indickom oceáne. body:

body:

17. Určte, ako vypočítame hustotu cestnej siete (H) v štáte s rozlohou M, keď jej dĺžka je D km. body:

Odpoveď:

18. Na ktorom z uvedených polostrovov sa dopestuje najviac pomarančov? body:

- A) Jutskom. B) Krymskom. C) Pyrenejskom. D) Škandinávskom.
 Zakrúžkujte správnu odpoveď.

19. Priemerne koľko obyvateľov z 10 býva v mestách v Austrálii? body:

Postup:

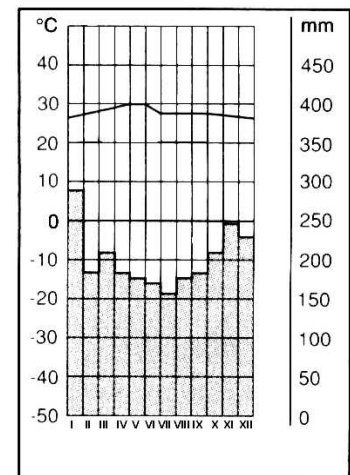
20. V ktorej z uvedených riek pretečie počas roka menej vody ako v Dunaji? body:

- A) Mississippi. B) Kongo. C) Ob. D) Temža.
 Zakrúžkujte správnu odpoveď.

21. Koľkokrát obehne Zem okolo Slnka za štyri roky? Údaj zaokrúhlite na celé číslo. body:

22. Na základe klimadiagramu mesta M určte: body:

A	najdaždivejšie ročné obdobie v meste M	
B	najteplejšie ročné obdobie v meste M	



23. Charakterizujte monzúnovú oblasť na severnej pologuli. Určte: body:

A) kde sa monzúnová oblasť nachádza:

B) mesiace s najvyššou teplotou:

C) podiel množstva zrážok v jednotlivých obdobiach roka:

D) kedy sú v monzúnovej oblasti najkratšie noci:

body:

24. Určte typ sídla, ktorý je na Zemi najpočetnejší:

body:

25. Do predkreslenej siete geografických súradníc, dopíšte ich hodnoty v stupňoch a načrtnite obrisy Európy.

body:

body: