

**Celoštátne kolo Geografickej olympiády pre stredné školy**  
**36. ročník, školský rok 2007/2008**

Meno a priezvisko	
Škola a trieda	

Kategória	
Počet bodov	

01.] Doplňte pojem alebo číslo do každej vety tak, aby vzniklo pravdivé tvrdenie. body:

- A) Vodné nádrže v Štiavnických vrchoch sa nazývajú [.....].  
B) Počet obyvateľov Brazílie je [.....] ako počet obyvateľov Nemecka.  
C) Vo Švédsku sú najvýznamnejšie zásoby nerastnej suroviny – [.....].  
D) Najvýznamnejším producentom áut v Strednej Amerike je [.....].

02.] Určte, kedy je Mesiac bližšie k Zemi: v splne alebo nove. Odpoveď: [.....] body:

03.] Najväčšiu rozlohu z uvedených ostrovov má: body:

- A) Kuba.                      B) Haiti.                      C) Cyprus.                      D) Sicília.

*Zakrúžkujte správnu odpoveď.*

04.] Zhodnot'te predpoklady Srbska z vybraných hľadísk a uveďte: body:

- A) Predpoklady rozvoja cestovného ruchu (kde a aké):

B) Perspektívy demografického vývoja:

C) Faktory, ktoré ohrozujú životné prostredie:

D) Dostupnosť zo Slovenska (zhodnot'te vzdialenosť a cesty, železnice):

05.] V náboženskej štruktúre Etiópie majú z uvedených najväčšie zastúpenie: body:

- A) hinduisti.                      B) kresťania.                      C) animisti.                      D) budhisti.

*Zakrúžkujte správnu odpoveď.*

body: [.....]

06. Priradíte k jednotlivým štátom v tabuľke názov štátu (zo zoznamu pod tabuľkou), s ktorým hraničí (niektoré tam nemusia mať suseda). body:

Sýria		
Estónsko		
Egypt		
Vietnam		
Panama		
Portugalsko		

Francúzsko, Libanon, Rusko, Čína, Tunisko, Venezuela, Kolumbia, India, Líbya

07. Ktorý z uvedených štátov má **najnižšiu** hustotu železničnej siete? body:

- A) USA. B) Poľsko. C) Japonsko. D) Maďarsko.

Zakrúžkujte správnu odpoveď.

08. Ktorý z uvedených vrchov je najvyšší? body:

- A) Vezuv. B) Hekla. C) Fuji. D) Kriváň.

Zakrúžkujte správnu odpoveď.

09. Ktorý z uvedených štátov má súčasnosti najväčšie známe zásoby ropy? body:

- A) Kanada. B) Egypt. C) Austrália. D) Japonsko.

10. V ktorom z uvedených štátov tečie najvodnatejšia rieka? body:

- A) Francúzsko. B) Taliansko. C) Slovensko. D) Grécko.


Zakrúžkujte správnu odpoveď.

11. Na základe údajov zostrojíte klimadiagram miesta v podnebnom pásme P a určte, o aké pásmo ide. body:

I	II	III	IV	V	VI	VII	VIII	IX	X	XI	XII	úhrn/priemer
45	40	50	40	60	75	85	75	45	60	60	50	<b>685 mm</b>
-3	-1	3	10	14	17	19	18	14	9	3	-1	<b>8,5 °C</b>

zrážky (mm)

teploty (°C)



Pásmo:

12. Do tabuľky dopíšete písmeno P k pravdivému tvrdeniu a písmeno N k nepravdivému tvrdeniu. body:

A	Slovensko sa rozprestiera východnejšie ako Estónsko.		
B	Slnko najrýchlejšie zapadá na póle.		
C	Na Zemi sa rodí viac chlapcov ako dievčat.		
D	Počas nášho leta je časový rozdiel medzi Bratislavou a Sydney väčší oproti zime o 2 hodiny.		

13. Ktorý z uvedených štátov je redšie zaľudnený ako Slovensko? body:

- A) Burundi. B) Panama. C) Bangladéš. D) India.

Zakrúžkujte správnu odpoveď.

body:

14. V štáte M bol v roku 2007 prirodzený prírastok 2,1 promile. Vysvetlite, čo to znamená. body:

Vysvetlenie:

15. Napíšte názov štátu, ktorý má rovnakú geografickú šírku ako Tasmánia, ale leží na severnej pologuli a nachádza sa v Európe. body:

16. Do obrysovej mapy Afriky dokreslite: body:

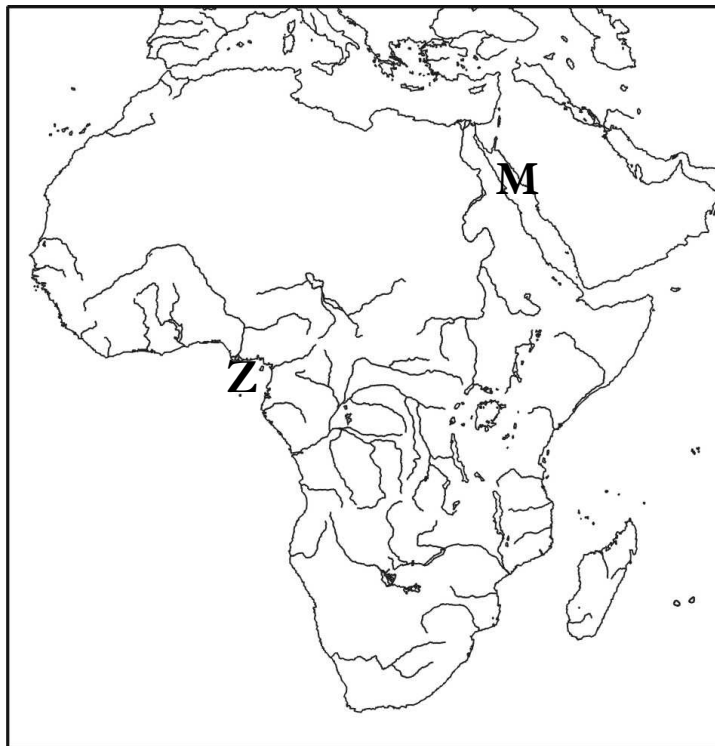
- obratník Raka, označte ho OR.
- rovník a pomenujte ho.
- nultý poludník, označte ho 0. poludník.

Pomenujte záliv Z: .....

Písmenom M je označené more:

- A) Arabské more.
- B) Míttve more.
- C) Červené more.
- D) Perzský záliv.

Zakrúžkujte správnu odpoveď.



17. Koľko obyvateľov Afriky pripadne priemerne na každého obyvateľa Slovenska? body:

Postup:

.....

18. Najväčšiu rozlohu (absolútne číslo) ornej pôdy v Južnej Amerike majú v štáte: body:

19. Dopíšte k jednotlivým mestám názov štátu, v ktorom sa nachádza. body:

A	Abuja		
B	Kinshasa		
C	Biškek		
D	Almaty		

20. Odhadnite približne najkratšiu vzdialenosť z Bratislavy do Moskvy (zaokrúhlite na celé stovky km). body:

..... km

21. Ktorý z uvedených športov je najpopulárnejší v Austrálii? body:

- A) Rugby.
- B) Carling.
- C) Pozemný hokej.
- D) Stolný tenis.

Zakrúžkujte správnu odpoveď.

22. Odhadnite, približne cez koľko štátov prechádza ten istý poludník ako cez Bratislavský hrad? body:

- A) 9–13.
- B) 15–19.
- C) 21–25.
- D) 26–30.

body: .....

Zakrúžkujte správnu odpoveď.

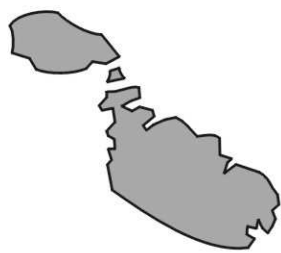
23. K mapkám ostrovných štátov doplňte ich názvy.

body:



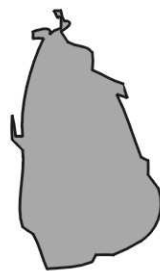
0 200 km

A) .....



0 10 km

B) .....



0 200 km

C) .....

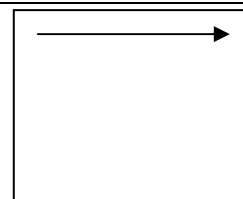


0 200 km

D) .....

24. Dokreslite k štvorcu písmeno S (sever) tak, aby šípka znázorňovala východný vietor.

body:



body: .....