

**Celoštátne kolo Geografickej olympiády pre stredné školy
36. ročník, školský rok 2007/2008**

Meno a priezvisko	
Škola a trieda	
Kategória	
Počet bodov	

01. Kde sa v Českej republike nachádza krajina najviac poznačená ťažbou hnedého uhlia?

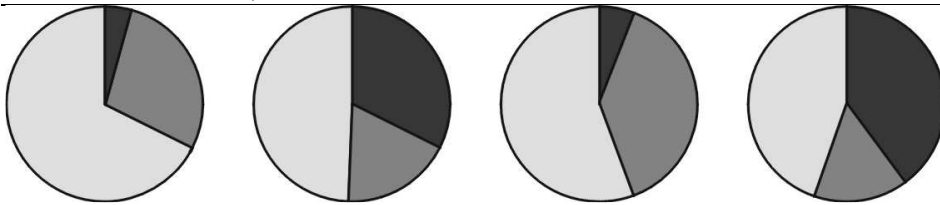
body:

02. Ktoré ročné obdobie je na Slovensku najkratšie?

body:

03. K jednotlivým diagramom podielu zamestnanosti v hospodárstve priradte zo zoznamu štát, ktorý charakterizuje.

body:



poľnohospodárstvo
 priemysel
 služby

A B C D

Japonsko, Kazachstan, Slovensko, Maroko

04. Doplňte k jednotlivým regiónom v tabuľke najvypuklejšie environmentálne hrozby, ktorým čelia.

body:

Peking	
Horná Nitra	
južné oblasti Austrálie	
povodie rieky Volta	
delta rieky Ganga	
poldre	

05. Do obrysovej mapy Slovenska vyznačte:

body:

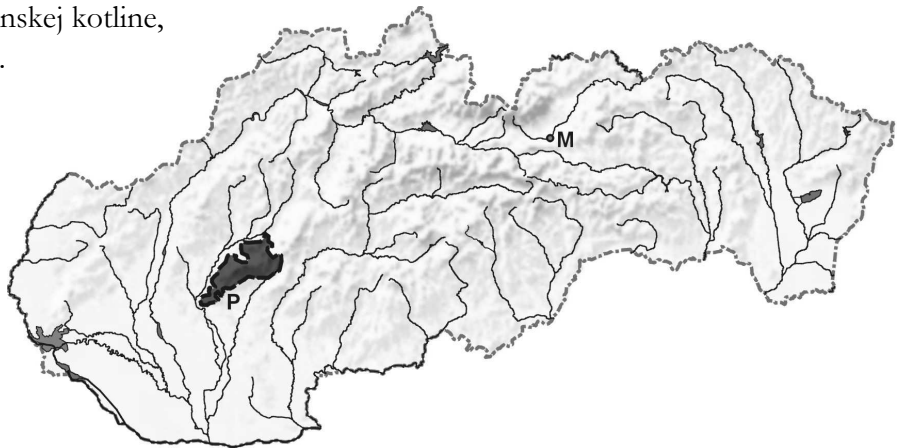
- Rieku Latorica,
- hlavný železničný ťah v Juhoslovenskej kotline,
- najnižší bod západného Slovenska.

Pomenujte mesto M:

Písmenom P je označené pohorie:

- A) Tribeč.
- B) Pohronský Inovec.
- C) Žiar.
- D) Starohorské vrchy.

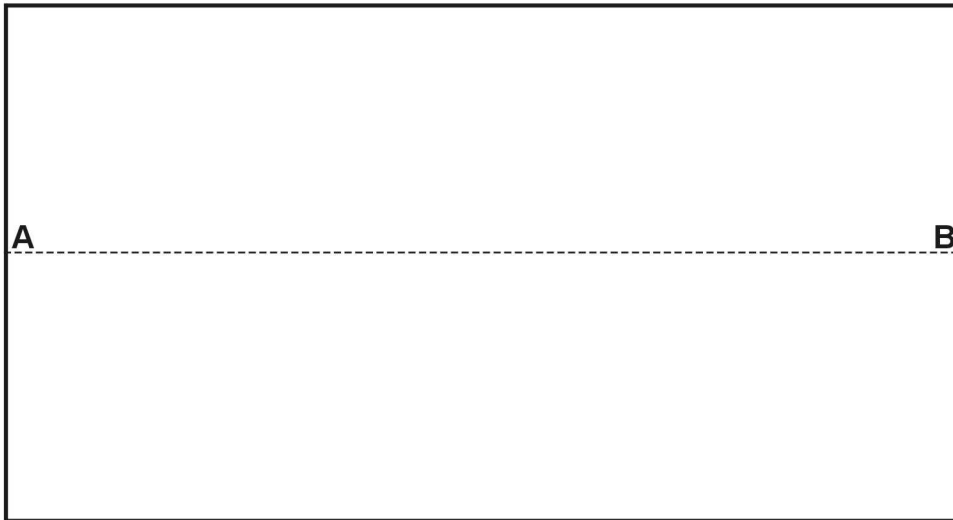
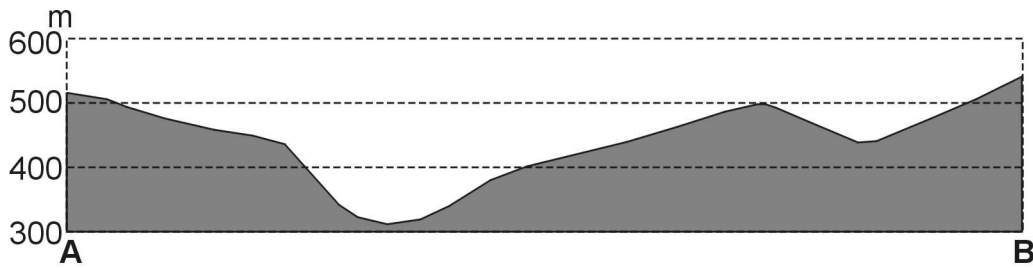
Zakrúžkujte správnu odpoveď.



body:

06. Pri stavbe jadrových elektrární musia byť zohľadnené aj prírodné danosti regiónu, kde sa elektrárne stavia.
Uveďte najvýznamnejšiu: body:

07. Načrtnite do obdĺžnika vrstevnice tak, aby znázorňovali priečny profil zobrazený na úsečke AB. Vrstevnice doplňte do celého obdĺžnika. body:



08. Doplníte slovo do každej vety tak, aby vzniklo pravdivé tvrdenie. body:

- A) Fosílna palivá medzi vyčerpatel'né zdroje energie.
 B) Na Zemi sa v súčasnosti rodí viac ako Číňanov.
 C) Okrem jadrových elektrární sa produkuje nebezpečný odpad aj v elektrárnach.
 D) Množstvo ozónu v atmosfére sa meria v jednotkách.

09. V náboženskej štruktúre Brazílie majú najväčšie zastúpenie: body:

- A) katolíci. B) protestanti. C) moslimovia. D) pravoslávni.
Zakrúžkujte správnu odpoveď.

10. S koľkými štátmi EÚ hraničí Nemecko? body:

11. Ktorým z uvedených štátov **neprechádza** hlavné európske rozvodie? body:

- A) Poľsko. B) Maďarsko. C) Slovensko. D) Česko.
Zakrúžkujte správnu odpoveď.

12. Ktorý z uvedených svetadielov má v súčasnosti najmenej obyvateľov? body:

- A) Ázia. B) Európa. C) Afrika. D) Amerika.
Zakrúžkujte správnu odpoveď.

13. Napíšte názov jedného národného parku v Poľsku. body:

14. Existujú 3 základné formy využitia zeme. Okrem sietí a povrchov sú to: body:

15. Rozsiahle trávnaté regióny Maďarska sa nazývajú: body:

body:

16. Do tabuľky dopíšte písmeno P k pravdivému tvrdeniu a písmeno N k nepravdivému tvrdeniu. body:

A	Mapy môžu obsahovať číselnú aj grafickú mierku.		
B	Najdlhší úsek slovenských diaľnic vedie Záhorím.		
C	Kosovo je vnútrozemským regiónom.		
D	Na vzniku prílivu na Zemi sa podieľa aj odstredivá sila rotácie Zeme.		

17. Štát N mal v roku 2007 prirodzený úbytok obyvateľov. V štáte N sa za rok 2007 narodilo 13 800 detí, prisťahovalo sa 18 000 obyvateľov a odsťahovalo sa 20 000 obyvateľov. Koľko obyvateľov zomrelo v štáte N v roku 2007? body:

Postup:

V štáte N v roku 2007 zomrelo obyvateľov

18. Ktoré tvrdenie **neplatí** o Japonsku? body:

- A) V mestách žije viac ako 70 % obyvateľov. B) Najväčší ostrov štátu je Kjúšu.
C) V štáte žijú chránené makaky. D) Väčšina surovín sa do krajiny dováža.

Zakrúžkujte správnu odpoveď.

19. K jednotlivým lokalitám dopíšte národné parky, v ktorých sa nachádzajú. body:

A	Demänovské jaskyne		
B	vrch Veľký Kriváň		
C	Plešivská planina		
D	prielom Dunajca		

20. Ktorý z uvedených štátov má najväčšie zisky z cestovného ruchu? body:

- A) Fínsko. B) Švédsko. C) Španielsko. D) Tunisko.

Zakrúžkujte správnu odpoveď.

21. V ktorom z uvedených regiónov je najnižšia hustota cestnej siete? body:

- A) Orava. B) Kysuce. C) Nízke Beskydy. D) Juhoslovenská kotlina.

Zakrúžkujte správnu odpoveď.

22. Zhodnot' te predpoklady regiónu Záhoria z hľadiska: body:

A) rozvoja cestovného ruchu (pozitíva, negatíva):

B) perspektív hospodárskeho vývoja (pozitíva, negatíva):

C) perspektív demografického vývoja:

D) faktorov, ktoré ohrozujú životné prostredie regiónu: