

# Krajské kolo Geografickej olympiády pre ZŠ a 8-ročné gymnáziá

## 36. ročník, školský rok 2007/2008

Písomný test pre kategóriu H – OGY (sekunda)  
Monotematická a teoretická časť – úlohy

Meno a priezvisko: .....

Škola a trieda: .....

Počet bodov: .....

1. \*Zakrúžkuj správne odpovede. Pozor! V niektorých riadkoch môže byť viac správnych odpovedí.

- a) K hrásťovým pohoriam patria: *Alpy*                      *Andy*                      *Himaláje*.  
 b) Medzi vyvreté horniny zaraďujeme: *čadič*                      *mramor*                      *bridlicu*.  
 c) Pieskovcové útvary sú:  
*Ayers Rock*                      *egyptská Sfinga*                      *podobizne prezidentov USA v Mount Rushmore*.

2. \*Zo slabík v nasledujúcej tabuľke zostav správne pojmy a priradi ich k príslušným charakteristikám.

An	Gra	ro	tra
nit	Fu	We	ma
ner	la	cit	ge

- a) prúd pary z útrob Zeme - .....                      b) najkvalitnejšie uhlie - .....  
 c) autor teórie pohybu tektonických dosiek - .....                      d) iný názov žuly - .....

3. Doplň správne geografické názvy do nasledujúcej vety:

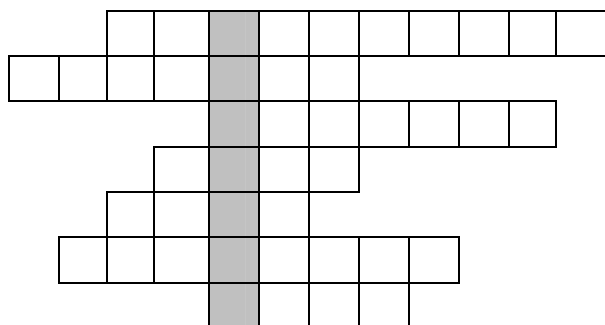
*Severný ľadový oceán obmýva tri svetadiely: ....., ..... a ..... i najväčší ostrov sveta ....., ktorý patrí ..... Severnú polárnu oblasť, ktorej je súčasťou, nazývame .....*

4. Vytvor správne štvorice: *rastlinné pásmo – podnebné pásmo – typický živočích - krajina*.

- |           |               |               |                       |
|-----------|---------------|---------------|-----------------------|
| A. tundra | 1. subpolárne | I. sob        | a. Botswana           |
| B. step   | 2. teplé      | II. jarabina  | b. severné Rusko      |
| C. savana | 3. mierne     | III. antilopa | c. východná Austrália |

Správne štvorice: A - ..... - ..... - ....., B- ..... - ..... - ....., C - ..... - ..... - .....

5. Vyplň nasledujúcu krížovku.

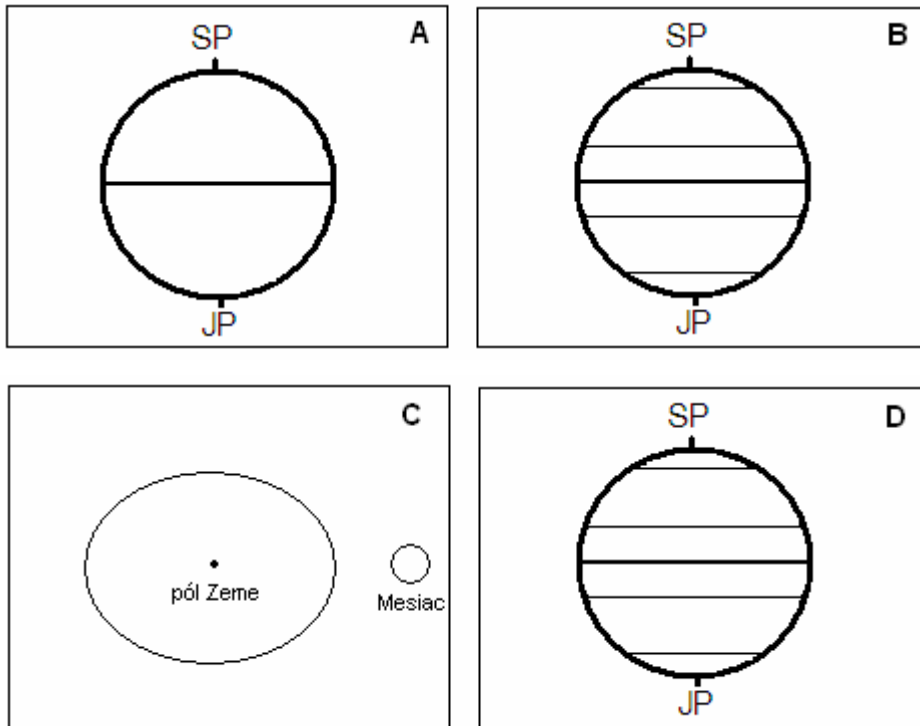


1. Nezamrzajúce more v Sev. ľadovom oceáne.
2. Morské cicavce.
3. Vnútorne more Atlantického oceána.
4. Okrajová časť oceánu.
5. Plytká časť mora.
6. Ostrovný štát Ázie.
7. Najdôležitejšia tekutina.

Vo vyznačených políčkach je ukrytá tajnička. Obsahuje pojem súvisiaci so všetkými výrazmi v krížovke. Je to pojem: .....

6. Dokonči nasledujúce obrázky:

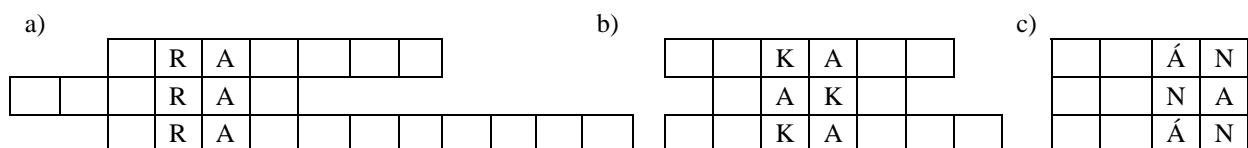
- Do obrázka **A** dokresli šípku znázorňujúcu smer prúdenia teplého morského prúdu na južnej pologuli.
- Do obrázka **B** dokresli šípku znázorňujúcu smer prúdenia pasátu na severnej pologuli.
- V obrázku **C** približne vyznač miesta zemského povrchu, na ktorých je práve badateľný príliv.
- V obrázku **D** zvýrazni rovníčku, na ktorej predmety 22.12. na poludnie nevrhajú tieň.



7. Do prázdnych obdĺžnikov dopln výraz, ktorý sa týka všetkých štyroch pojmov zoskupených okolo nich:

- |        |               |                |    |                 |                   |                     |
|--------|---------------|----------------|----|-----------------|-------------------|---------------------|
| Kuvajt |               | Irak           | b) | Britské ostrovy |                   | Portorická priekopa |
|        | _ e _ _ _ _ _ |                |    |                 | _ _ _ a _ _ _ _ _ |                     |
| Irán   |               | Saudská Arábia |    | Golfský prúd    |                   | Nórske more         |
|        | _ _ _ i _     |                |    |                 | _ _ _ á _         |                     |
- |           |             |            |    |             |             |                     |
|-----------|-------------|------------|----|-------------|-------------|---------------------|
| judaizmus |             | Mŕtve more | d) | čierna rasa |             | Viktóriine vodopády |
|           | _ _ _ a _ _ |            |    |             | _ _ _ i _ _ |                     |
| Hebron    |             | kibuc      |    | rovník      |             | Sahel               |

8. Do troch nasledujúcich doplnovačiek dopíš názvy ázijských: a) riek; b) veľkomiest; c) štátov.



Autor: Mgr. Gabriela Nováková

Recenzenti: doc. RNDr. Alena Dubcová, CSc., RNDr. Hilda Kramáreková

Vydal: Iuventa 2008