

Krajské kolo Geografickej olympiády pre stredné školy
36. ročník, školský rok 2007/2008

Meno a priezvisko	
Škola a trieda	
Katégória	
Počet bodov	

01. Do tabuľky dopíšte písmeno P k pravdivému tvrdeniu a N k nepravdivému tvrdeniu. body

A	Východná pologuľa má väčšie zastúpenie súše ako západná.	P	...1.....
B	Obratník Raka je dlhší ako poludník 0 °.	P	...1.....
C	Mestá vzdialené 10 km v skutočnosti, sú na mape v mierke 1:200 000 vzdialené 10 cm.	N	...1.....
D	Väčšinu obyvateľstva Južnej Ameriky tvoria katolíci.	P	...1.....

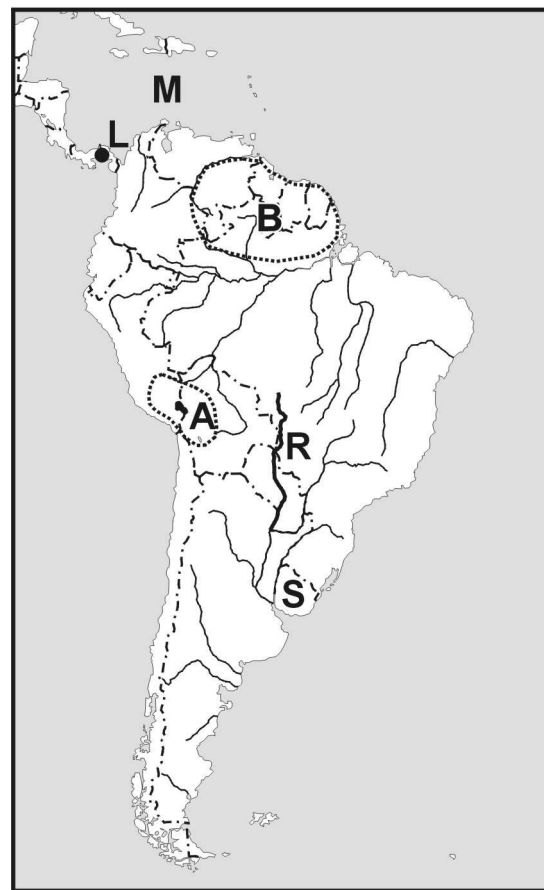
02. K jednotlivým geografickým lokalitám dopíšte štát, ktorému prináležia. body

A	ostrov Man	Spojené kráľovstvo Veľkej Británie a Severného Írska (Veľká Británia)	...1.....
B	Kilimandžáro	Tanzánia	...1.....
C	ústie Amazonky	Brazília	...1.....
D	mesto Lagos	Nigéria	...1.....

Otázky 3.–7. sa vzťahujú k pracovnej mape Južnej Ameriky.

03. Zakreslite do mapy: body

A	jazero Titicaca v rámci označenej tolerancie1.....
B	Guyanská vysočina v rámci označenej tolerancie1....



04. Doplníte názov mesta L body

05. Doplníte názov rieky R body

06. Doplníte názov mora M body

07. Doplníte názov štátu S. body

08. Keď je v Bratislave 8.00 hodín ráno (stredoeurópskeho času),
v ktorom časovom pásme je o 7 hodín viac?

Postup: $15 + 7 \times 15 = 120$

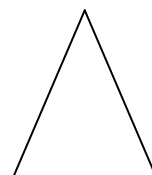
musí byť východnej

V časovom pásme poludníka 120 ° východnej geografickej (zemepisnej) dĺžky

body

09. Dokreslite do náčrtu Gerlachovského štítu výšku trvalej snežnej čiary.

musí byť vyššie nad vrcholom štítu



body

body:

10. India mala 31. 12. 2005 počet obyvateľov 1 030 000 000 a 31. 12. 2006 sa ich počet zvýšil na 1 044 214 000.

Aký prirodzený prírastok mala India v roku 2006 v promile?

Postup: $1\,044\,214\,000 - 1\,030\,000\,000 = 14\,214\,000$ $14\,214\,000 : 1\,030\,000 = 13,8 \text{ ‰}$

$(1\,044\,214\,000 - 1\,030\,000\,000 \times 1\,000) - 1\,000 = 13,8$

1 bod za odpoveď z intervalu 13,5 – 14,0 ‰

Prirodzený prírastok obyvateľov Indie v roku 2006 bol 13,8 ‰

body

...1....

11. Doplníte slovo do každej vety tak, aby vzniklo pravdivé tvrdenie.

body

A) Najviac vrtných plošín v Európe je vSevernom..... mori.

...1....

B) Katalánsko je súčasťou štátuŠpanielsko.....

...1....

C) V Tunisku sa rozpráva väčšinou poarabsky.....

...1....

D) Indiáni patria k ...žltej alebo mongoloidnej rase.

...1....

12. Určte, v ktorom štáte na Zemi zaberajú lesy druhú najväčšiu rozlohu (absolútne číslo)?

body

....Kanada....

...1....

13. Napíšte názov štátu ležiaceho na západnej pologuli s druhým najvyšším počtom obyvateľov.

body

...Brazília....

...1....

14. Pre Francúzsko je v súčasnosti charakteristické (k tvrdeniam pripíšte P - pravda alebo N - nepravda): body

A	Väčšina energie sa vyrába v jadrových elektrárnach.	P	1
B	Hraničí iba so štátmi EÚ.	N	1
C	Má hustejšiu železničnú ako cestnú sieť.	N	1
D	Má zámorský departmán v Južnej Amerike.	P	1

body

15. Ktorému štátu patrí ostrov Madagaskar? Madagaskarská republika alebo Madagaskar

...1....

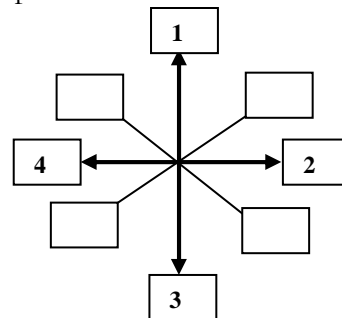
Starý názov bol Malgašská republika (dnes sa už nepoužíva), ale potiaľto ho možno uznať.

16. Šípka č. 1 smeruje z Viedne do Bratislavy.

Akým číslom je označená šípka, ktorá smeruje na východ?

body

1



...1....

17. V ktorom z uvedených štátov sa ročne skonzumuje **najmenej** bravčového mäsa?

A) Taliansko. B) Slovensko. C) **Turecko.** D) Francúzsko.

body

Zakrúžkujte správnu odpoveď.

...1....