

Krajské kolo Geografickej olympiády pre stredné školy
36. ročník, školský rok 2007/2008

Meno a priezvisko	
Škola a trieda	
Katégória	
Počet bodov	

01. Do tabuľky dopíšte písmeno P k pravdivému tvrdeniu a N k nepravdivému tvrdeniu. body

A	Jedna z mála veľkých riek, na ktorej nie je veľká priehrada, je Níl.	
B	Zemský plášť má väčšiu mocnosť ako zemská kôra.	
C	Na mape mierky 1 : 50 000 predstavuje 1 cm ² rozlohu 1 km ² v skutočnej krajine.	
D	Nový Zéland leží bližšie k dátumovej hranici ako Japonsko.	

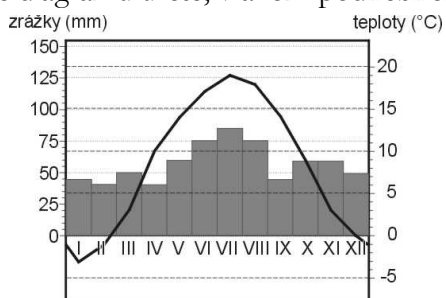
02. V tabuľke k jednotlivým javom doplňte (z uvedených možností), aký výrazný ekologický problém spôsobujú. [úbytok kyslíka, erózia pôdy, zväčšovanie ozónovej diery, rozširovanie púští] body

A	Nesprávna orba.	
B	Neprimerané pasenie v Saheli.	
C	Nadmerné odlesňovanie.	
D	Používanie aerosólov.	

03. Doplňte dve najvýznamnejšie prírodné danosti Fínska: body

A	
B	

04. Na základe diagramu určte, v akom podnebnom pásme sa nachádza meracia stanica. body



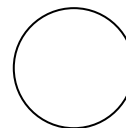
.....

05. Družica DPZ obieha okolo Zeme vo výške 200 km nad rovníkom. Určte dĺžku dráhy družice pri jednom obehu Zeme.

Postup:

Dĺžka dráhy družice:km

06. Dokreslite na kružnicu šípky v smere pohybu otáčania cyklónu na severnej pologuli. body



.....

07. V roku 2007 mal štát M nulový prirodzený prírastok. Koľko obyvateľov sa narodilo v štáte M za rok 2007, keď v tom istom roku zomrelo 38 850 obyvateľov, prisťahovalo sa 7 239 obyvateľov a odsťahovalo sa 23 062 obyvateľov?

Postup:

Počet narodených v štáte M v roku 2007:

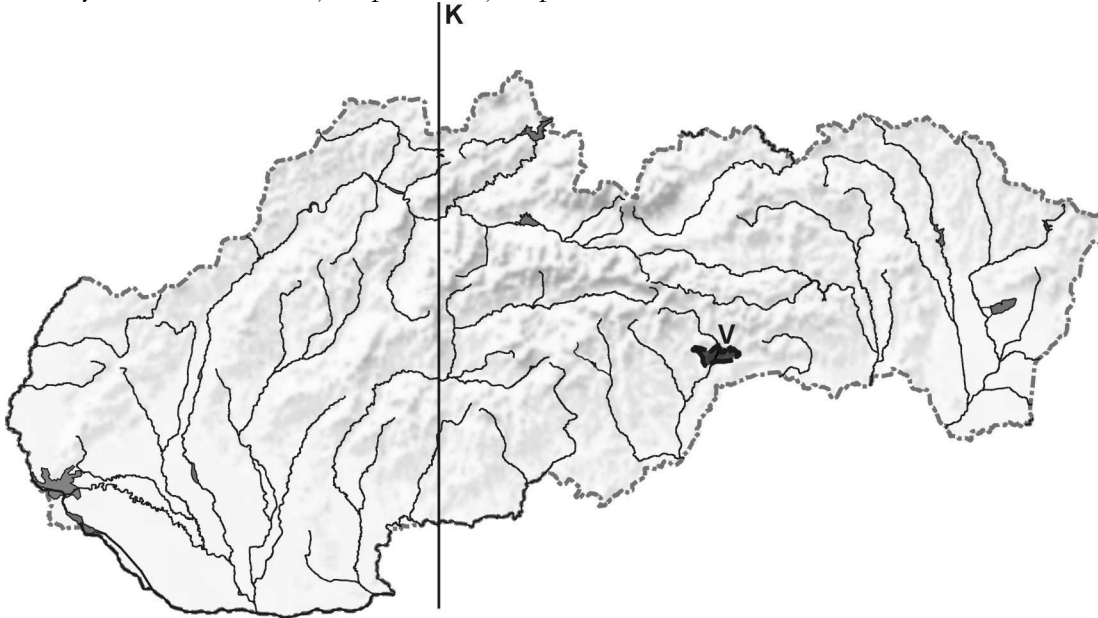
08. Doplňte pojem do každej vety tak, aby vzniklo pravdivé tvrdenie. body

- A) Proti prenikaniu ultrafialového žiarenia je najúčinnnejšia vrstva atmosféry.
- B) V dôsledku otrasov morského dna vznikajú
- C) Štáty zálivu ohrozujú záplavy v období monzúnových dažďov.
- D) Vezuv je jednotka dimenzie.

body:

09. V ktorom štáte bolo v ostatných rokoch najviac prípadov BSE? : body
 A) Nemecko. B) Poľsko. C) Spojené kráľovstvo. D) Španielsko.
- Zakrúžkujte správnu odpoveď.
10. Mestá možno z priestorového hľadiska vnímať ako: body
 A) uzly. B) povrchy. C) siete. D) hrany.
- Zakrúžkujte správnu odpoveď.

Otázky 11.-14. sa vzťahujú k pracovnej mape.



11. Zakreslite do mapy NP Pieniny. body
12. Doplníte názov kotliny V. body
13. Doplníte názov najvyššieho pohoria, cez ktorý prechádza úsečka K. body
14. Označte v mape písmenom M mesto Zvolen. body
15. Ktorý mesiac je na Slovensku najdaždivejší? body
 Najdaždivejší mesiac na Slovensku je
16. Ktoré z uvedených pohorí je najmenej zalesnené? body
 A) Tribeč. B) Krupinská planina. C) Malé Karpaty. D) Vihorlat.
- Zakrúžkujte správnu odpoveď.
17. Ako sa nazýva jazero Ázie, ktorého rozloha sa za ostatné roky najviac percentuálne zmenšila? body
18. Ktorý z uvedených štátov najviac ohrozuje nedostatok potravín? body
 A) Mali. B) Ghana. C) Belize. D) Tunisko.
- Zakrúžkujte správnu odpoveď.
19. V ktorom štáte sa vláda 13. 2. 2008 ospravedlnila domorodcom za násilnú asimiláciu? body
 A) Nový Zéland. B) Srí Lanka. C) Filipíny. D) Austrália.
- Zakrúžkujte správnu odpoveď.
20. V Južnej Amerike sú najväčšie zásoby ropy v štáte: body
 A) Čile. B) Argentína. C) Bolívia. D) Venezuela.
- Zakrúžkujte správnu odpoveď.

Autori: L. Tolmáči, D. Gurňák, F. Križan, V. Lauko, recenzenti: I. Rakytová, P. Spišiak, V. Tomášiková
 Vydal: IUVENTA 2008

body: