

**Okresné kolo Geografickej olympiády pre ZŠ a 8-ročné gymnáziá**  
**36. ročník, školský rok 2007/2008**

Písomný test pre kategóriu I (5. ročník, prima)  
Monotematická a teoretická časť – úlohy

---

Meno a priezvisko: .....  
Škola a trieda: .....  
Počet bodov: .....

---

1. \*Doplň správne výrazy do nasledujúcich viet:

*Litosféra – kamenný obal Zeme – je tvorená z hornín, ktoré sú zložené z ..... . Je rozlámaná na veľké pomaly sa pohybujúce platne, ktoré nazývame tektonické dosky. Pri zrážke Indoaustrálskej a Eurázijskej dosky vznikol vysoký horský reťazec ..... . Ľudia, ktorí sa zaoberajú štúdiom hornín, sa volajú .....*

2. \*Napíš do rámečkov na začiatku nasledujúcich riadkov názvy dvoch druhov zemskej kôry. Potom roztried' nasledujúce pojmy podľa toho, ku ktorému rámečku patria:

*Pacifická doska, čadič, hrubšia, Africká doska, žula, ťažšia, 5 – 10, km*

- 5 – 10 km,

- Africká doska,

3. Pomenuj nasledujúce dátumy:

a) 22.12. .... c) 21.6. ....

b) 20.3. .... d) 23.9. ....

4. Do prázdnych obdĺžnikov doplň výraz, ktorý sa týka všetkých štyroch pojmov zoskupených okolo nich:

a) prameň  tok b) sneh  rosa  
koryto  ústie dážď  krupobitie

c) Kalimantan  Grónsko d) kyslík  dusík  
Madagaskar  Nová Guinea ozón  vodné pary

e) krb  kráter f) Afrika  Amerika  
popol  láva Európa  Ázia

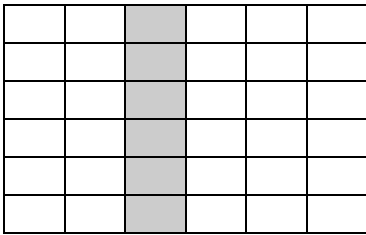
5. a) Doplň v správnom poradí názov územia podľa rozdielov v nadmorskej výške:

..... pahorkatina ..... hornatina .....

- b) Doplň v správnom poradí fázy Mesiaca:

..... dorastá ..... cúva

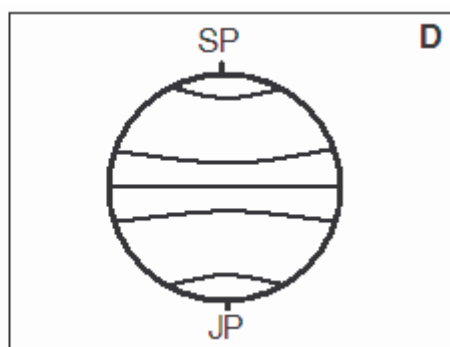
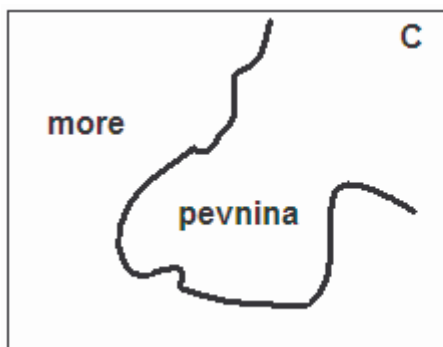
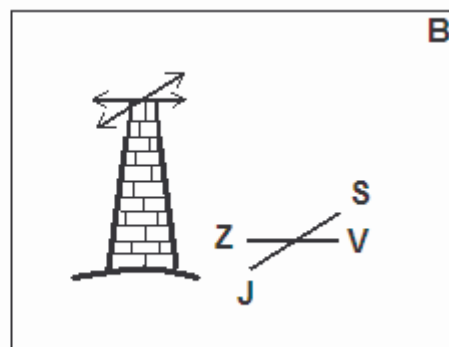
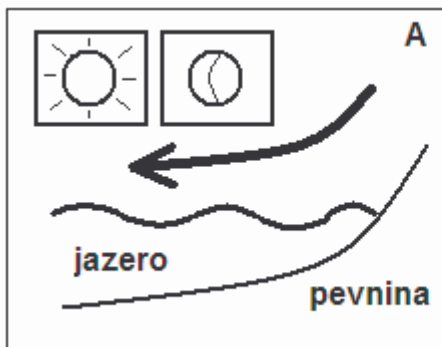
6. Vyplň nasledujúcu krížovku a zisti tajničku.



1. Najdlhšia rovnobežka.
2. Máme ho cez deň vďaka Slnku.
3. Prirodzená družica Zeme.
4. Vesmírne teleso s chvostom.
5. Pravidelné stúpanie hladiny oceánov a morí.
6. Najmenšia planéta slnečnej sústavy.

Tajnička: \_ \_ \_ \_ \_

7. a) Na obrázku **A** je šípku znázornený smer prúdenia vzduchu medzi jazerom a pevninou. Podľa jeho smeru urči, či znázorňuje prúdenie vo dne alebo v noci a zakrúžkuj správny symbol - Slnko alebo Mesiac.
- b) Na obrázku **B** je znázornený továrenský komín. Ktorým smerom bude z komína unikať dym, ak práve fúka severný vietor? Zvýrazni správnu šípku nad komínom.
- c) Do obrázka **C** dokresli šípku, ktorá znázorňuje smer prúdenia monzúnu v letnom období.
- d) Zvýrazni v obrázku **D** obratník Kozorožca.



8. K nasledujúcim tvrdeniam doplň do rámečku P alebo N podľa toho, či sú pravdivé (P) alebo nepravdivé (N).

- |  |  |
|--|--|
|  | Okolo Slnka obieha 9 planét.                     |
|  | Šelf je najplytkejšia časť oceánskeho dna.       |
|  | Kaspické more je jazero.                         |
|  | Ústie rieky v tvare trojuholníka nazývame alfa.  |
|  | Naša Zem sa nachádza v strede Mliečnej cesty.    |
|  | V auguste môžeme v Antarktíde zažiť polárnu noc. |

9. Roztried' nasledujúce pojmy a slovné spojenia do dvoch stĺpcov:

*kružnice, rovnako dlhé, zo severu na juh, rôzne dlhé, od 0 po 90,  
zo západu na východ, od 0 po 180, polkružnice*

ROVNOBEŽKY

POLUDNÍKY

.....	.....
.....	.....
.....	.....
.....	.....

Autor: Mgr. Gabriela Nováková

Recenzenti: doc. RNDr. Alena Dubcová, CSc., RNDr. Hilda Kramáreková

Vydal: Iuventa 2008