

Okresné kolo Geografickej olympiády pre ZŠ a 8-ročné gymnáziá

50. ročník, školský rok 2021/2022

Písomný test pre kategóriu E – ZŠ (8. a 9. ročník) a OG (3. a 4. ročník)

E kategória – Írásbeli teszt

1. (6B) A Szlovákia ásványkincseit jellemző mondatok befejezéséhez válaszd ki a megfelelőt a felsorolt lehetőségek közül.

a) Szlovákiában a kőolaj- és földgázlelőhelyek a következő helyen találhatóak:

a)	b)	c)
az Erdőhátí-alföldön (Záhorská nížina)	a Dunamenti-alföldön	a Tatraalji-medencében

b) Nováky és Handlová városok környékén kívül Szlovákiában még a következő város közelében is találunk barnaszénlelőhelyet:

a)	b)	c)
Poprad	Rimaszombat (Rimavská Sobota)	Modrý Kameň

c) Kősólelőhely található

a)	b)	c)
Kelet-Szlovákiában	Közép-Szlovákiában	Nyugat-Szlovákiában

d) A Felsőnyitra-medencében (Hornonitrianská kotlina) a jövőben az alábbi ásványkincs kitermelését fogják korlátozni:

a)	b)	c)
barnaszén	kőszén	földgáz

e) A Banská Bystricától nem messze található Špania Dolinában kitermelt ásványkincs a(z):

a)	b)	c)
ólom	urán	réz

f) A vasat tartalmazó ércek legjelentősebb lelőhelye Szlovákiában a

a)	b)	c)
Tátra	Nagy-Fátra	Szlovák-érchegység

2. (4B) Szlovákia gazdag ércelelőhelyekben. Az alábbi párokban jelöld meg, hogy a felsorolt nyersanyagok közül melyik tartozik az ércek közé!

a)	b)
cink	grafit

a)	b)
higany	zsírkö

a)	b)
dolomit	mangán

a)	b)
réz	kaolin

3. (12B) A betűk felcserélésével megkapod Szlovákia fővárosának néhány ismert helyét. Ezután válaszd ki helyesen a hozzájuk tartozó jellemzéseket!

4.	2.	1.	3.	6.	5.
V	L	S	A	N	Í

Ez egy pozsonyi (Bratislava) / a második világháborúból.

5.	2.	1.	3.	4.
ÍK	A	K	M	Z

Ez egy csúcs, ami a / -Kárpátok déli részén található. A csúcson / található.

4.	7.	1.	2.	5.	3.	6.
Ž	A	P	E	AL	TR	K

A / pozsonyi (Bratislava) városrész, egyben a / szlovákiai lakótelep.

3.	4.	1.	2.
MÁ	RE	KR	A

Pozsony (Bratislava) része, ahol / található.

3.	1.	4.	2.
OL	A	LO	P

A / megnevezése.

4. (5B) Válaszolj a következő kérdésekre, amelyek Kelet-Szlovákia legnagyobb városára vonatkoznak!

a) Ha turistaként keresnéd fel Kassát (Košice), az információs központban tudnák neked ajánlani a helyi állatkert meglátogatását?

a)	b)
IGEN	NEM

b) Lehetnél Kassán (Košice) egyetemi hallgató állatorvosi szakon?

a)	b)
IGEN	NEM

c) Átsétálhatnál Kassán (Košice) hídon a Tarca (Torysa) folyó túlsó partjára?

a)	b)
IGEN	NEM

d) El tudsz jutni Kassára (Košice) nemzetközi légi járással?

a)	b)
IGEN	NEM

e) Tudnál tenni sétát Kassa (Košice) belvárosában, amit Óvárosnak (Staré Mesto) neveznek?

a)	b)
IGEN	NEM

5. (10B) A következő városokat sorold két csoportba aszerint, hogy völgykatlanban fekszenek-e:

FIGYELEM! A város csak akkor kerül besorolásra, ha mellette kék gombostű jelenik meg. Ha a kifejezés eleve jól került besorolásra, akkor csak egy kicsit meg kell mozdítani.

1. Trnava	Völgykatlanban fekszik:	Nem fekszik völgykatlanban:
2. Prievidza	Völgykatlanban fekszik:	Nem fekszik völgykatlanban:
3. Bratislava	Völgykatlanban fekszik:	Nem fekszik völgykatlanban:
4. Ružomberok	Völgykatlanban fekszik:	Nem fekszik völgykatlanban:
5. Rimavská Sobota	Völgykatlanban fekszik:	Nem fekszik völgykatlanban:
6. Banská Bystrica	Völgykatlanban fekszik:	Nem fekszik völgykatlanban:
7. Bardejov	Völgykatlanban fekszik:	Nem fekszik völgykatlanban:
8. Vrútky	Völgykatlanban fekszik:	Nem fekszik völgykatlanban:
9. Spišská Nová Ves	Völgykatlanban fekszik:	Nem fekszik völgykatlanban:
10. Nitra	Völgykatlanban fekszik:	Nem fekszik völgykatlanban:

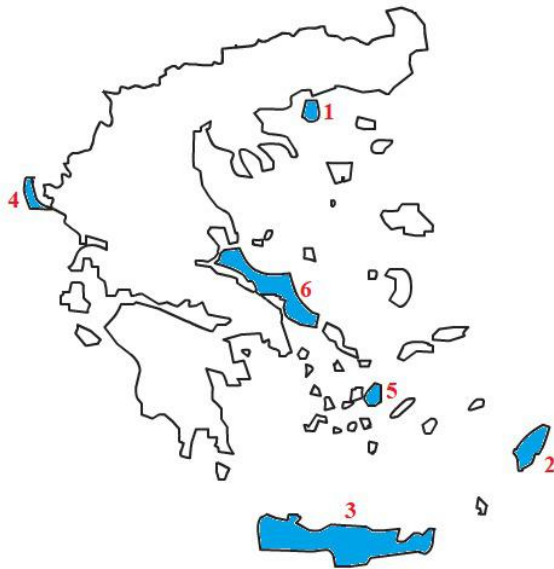
6. (5B) Alkoss helyes párokat: az egyes völgykatlanokat párosítsd jól a hozzá tartozó információval!

Az egyes párok kialakítása után a kapcsolat kék színűre vált. A válaszod csak a kékre váltás után érvényes.

1. Kassai-medence	Szlovákia harmadik legnagyobb városa
2. Zólyomi-medence	a Szlovákiában valaha mért legalacsonyabb hőmérséklet
3. Árvai-medence	nagy víztároló
4. Felsőnyitra-medence	a Bajmóci (Bojnice) kastély
5. Vág-völgye	a leghosszabb szlovákiai folyó

7. (6B) Görögország kedvelt turistacélpont. A kirándulók gyakran látogatják a görög szigeteket kellemes éghajlatuk miatt. Néhányat közülük a képen színessel jelöltük. A térképen található számokat párosítsd helyesen a szigetek neveivel!

Az egyes párok kialakítása után a kapcsolat kék színűre vált. A válaszod csak a kékre váltás után érvényes.



1.	4	KORFU
2.	2	RODOSZ
3.	6	ÉVIA
4.	5	NÁXOSZ
5.	3	KRÉTA
6.	1	THÁSZOSZ

8. (12B) A következő, Görögországról szóló kérdéseknél válaszd ki a helyes lehetőséget:

a) Görögország régebbi megnevezése

a)	b)	c)
Helvécia	Eláda	Abesszínia

b) A következő feliratok közül melyiket írták görög betűkkel?

a)	b)	c)
Δημοκρατία	Республика	गणराज्य

c) Válaszd ki azt a képet, amelyiken a görög zászló szerepel.

a)	b)	c)

d) Melyik országokkal van Görögországnak szárazföldi határa?

- a) Albániával, Észak-Macedóniával és Bulgáriával
- b) Albániával, Észak-Macedóniával, Bulgáriával és Törökországgal
- c) Albániával, Észak-Macedóniával, Romániával és Törökországgal

SPRÁVNA ODPOVEĎ

e) A Földközi-tenger számos szigete Görögországhoz tartozik. Mekkora ez a szám?

a)	b)	c)
megközelítőleg 3 000	megközelítőleg 100	megközelítőleg 1 000

f) 2021 augusztusában Évia szigetét az utolsó évtized legsúlyosabb katasztrófája sújtotta. Mi volt ez a katasztrófa?

- a) a heves esőzések következtében a sziget egy részét nagy árvíz borította el
- b) a sziget több települését forgószél pusztította el
- c) a hőség következtében kiterjedt tüzek keletkeztek

SPRÁVNA ODPOVEĎ

g) Mi a neve Kréta legnagyobb városának?

a)	b)	c)
Iráklion	Knósszosz	Mükéné

h) Az alábbiak közül melyik, az UNESCO kultúrerökség-listáján szereplő objektum található Görögországban?

- a) a Meteora-kolostorok
- b) a mitikus város, Trója
- c) a föníciai Karthágó városa

SPRÁVNA ODPOVEĎ

i) Mi Görögország második legnagyobb városa?

a)	b)	c)
Spárta	Szaloniki	Kalkísz

j) Melyik tenger mossa Görögország nyugati partjait?

a)	b)	c)
Trák	Égei	Jón

k) Mely növények termesztése jellemző Görögországra?

- a) datolyapálma, oliva, szőlő
- b) gyapot, kakaócserje, kávécserje
- c) cukorrépa, dinnye, földimogyoró

SPRÁVNA ODPOVEĎ

l) Melyik térképen jelöli helyesen a piros háromszög a híres Olümposz csúcsot – a görög mitológia isteneinek lakóhelyét?

SPRÁVNA ODPOVEĎ

a)



SPRÁVNÁ ODPOVEĎ

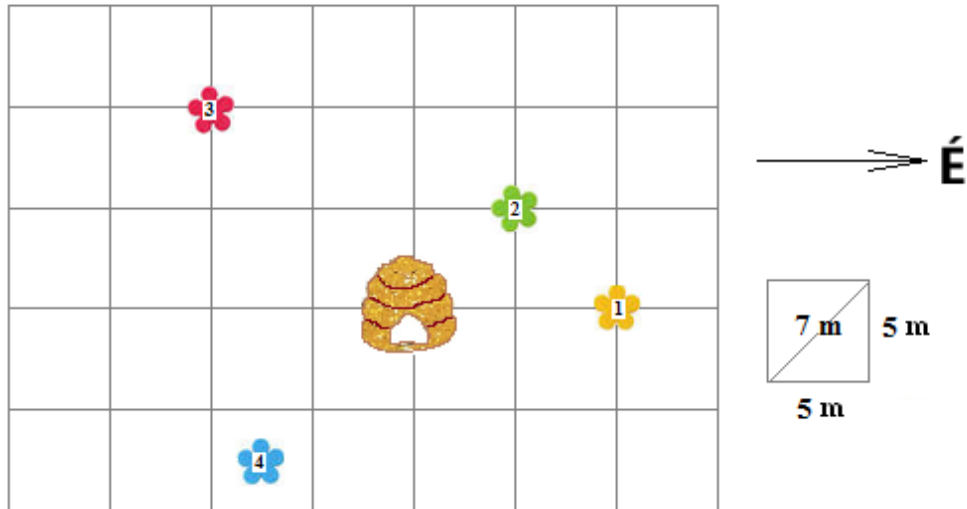
b)



c)



9. (10B) A réten a méhek kirepültek a kaptárból, és szorgalmas nektárgyűjtésbe fogtak.



Milyen irányban repültek, és milyen távolságot tettek meg a méhek, ha:

a kaptárból a **sárga** virágra szálltak (1-es szám):

irány: / / /

távolság: / / /

a **sárga** virágról (1-es szám) a **zöld** virágra szálltak (2-es szám):

irány: / / /

távolság: / / /

a kaptárból a **piros** virágra szálltak (3-as szám):

azimut: / / /

távolság: / / /

a kaptárból a **kék** virágra szálltak (4-es szám):

azimut: / / /

távolság: / / /

a **zöld** virágról (2-es szám) visszazálltak a kaptárba:

irány: / / /

távolság: / / /

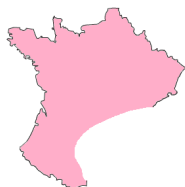
10. (10B) **A FELADAT MEGOLDÁSÁNÁL HASZNÁLD A VILÁGATLASZT, konkrétan Európa térképét!**

Adélka születésnapjára papírkirakót kapott, amelyből Európát lehetett kirakni. Minden országot más-más színű papíralakzat képviselt. A lány kishúga viszont a kirakó néhány darabját megrongálta (A, B, C, D a képeken).

A



B



C



D



a) Segíts Adélkának, és állapítsd meg, hogy a következő kirakódarabok mely országokat jelölik.

a) Csehország, Franciaország, Bulgária, Ausztria

SPRÁVNÁ ODPOVEĎ

- b) Csehország, Németország, Bulgária, Ausztria
- c) Csehország, Németország, Svájc, Ausztria
- d) Csehország, Németország, Bulgária, Svájc

Az atlasz segítségével válaszolj a megrongált részeken található országokról szóló kérdésekre:

b) Közülük mennyi a szárazföldi állam (*nincs tengere*)?

a)	b)	c)	d)	e)
0	1	2	3	mind

c) Közülük hány országba nyúlik be az Alpok?

a)	b)	c)	d)	e)
0	1	2	3	mindegyikbe

d) Mennyi tartozik közülük az Európai Unióba?

a)	b)	c)	d)	e)
0	1	2	3	mind

e) Melyiküknek a legnagyobb a fővárosa?

a)	b)	c)	d)
A államba	B államba	C államba	D államba

f) Melyikük területén tudsz feljutni Európa legmagasabb csúcsára?

a)	b)	c)	d)	e)
A államba	B államba	C államba	D államba	egyikben sem

g) Melyikük fekszik egyszerre mindkét féltekén?

a)	b)	c)	d)	e)
A államba	B államba	C államba	D államba	egyik sem

h) Melyiküknek alacsonyabb az összes hegycsúcsa a szlovákiai Gerlachfalvi-csúcsnál?

a)	b)	c)	d)	e)
A államba	B államba	C államba	D államba	egyiknek sem

i) Melyikükhöz tartozik Korzika szigete?

a)	b)	c)	d)	e)
A államba	B államba	C államba	D államba	egyikükhöz sem

j) Melyikükbe tudunk eljutni hajóval a Dunán Pozsonyból (Bratislava)?

- a) csak a B államba
- b) csak a C államba
- c) csak a D államba

d) a C és a D államokba

e) a B, C és a D államokba

SPRÁVNÁ ODPOVEĎ

a) Az alábbi objektumok közül melyek találhatóak meg a térképen:

vár

a)	b)
IGEN	NEM

patak

a)	b)
IGEN	NEM

mocsár

a)	b)
IGEN	NEM

forrás

a)	b)
IGEN	NEM

vasút

a)	b)
IGEN	NEM

b) Képzeld el, hogy a zöld turistaútvonal mentén haladsz az A pontból a B pontba.

Az utad / vezet, a megtett távolság kb. / / m.

Az A pont tengerszintfeletti magassága / / méter.

A B pont tengerszintfeletti magassága / / / méter.

c) Található a térképen olyan hely, melynek tengerszint feletti magassága 500 m?

a)	b)
IGEN	NEM

12. (10B) **A FELADAT MEGOLDÁSÁNÁL HASZNÁLD SZLOVÁKIA ATLASZÁT!**

Szlovákia atlaszában keresd ki **Letanovce** községet. Ezután az atlasz térképeinek segítségével állapítsd meg, igazak-e az alábbi kijelentések:

a) Letanovce község az Eperjesi kerületben (Prešovský kraj) fekszik.

a)	b)
IGEN	NEM

b) A község a járási székhelyétől északnyugati irányban található.

a)	b)
IGEN	NEM

c) A községen vasút halad át.

a)	b)
IGEN	NEM

d) A község területének beépített része teljes egészében egy nemzeti park területén található.

a)	b)
IGEN	NEM

e) Letanovcében a Nap előbb kel, mint Besztercebányán (Banská Bystrica).

a)	b)
IGEN	NEM

f) A község területének egy része alföld.

a)	b)
IGEN	NEM

g) Letanovce éves csapadékmennyisége több, mint 1000 mm.

a)	b)
IGEN	NEM

h) A község területe a Hernád folyó vízgyűjtő területén fekszik.

a)	b)
IGEN	NEM

i) A község 20 km-es körzetében megtalálható olyan objektum, amely szerepel az UNESCO világörökség-listáján.

a)	b)
IGEN	NEM

j) A községtől 5 km-nél nem távolabb autópálya található.

a)	b)
IGEN	NEM