

Okresné kolo Geografickej olympiády pre ZŠ a 8-ročné gymnáziá

50. ročník, školský rok 2021/2022

Písomný test pre kategóriu F – ZŠ (6. a 7. ročník) a OG (1. a 2. ročník)

F kategória – Írásbeli teszt

1. (4B) A Szlovákia ásványkincseit jellemző mondatok befejezéséhez válaszd ki a megfelelőt a felsorolt lehetőségek közül.

a) A képen a piros pontok a következő ásványkincs-lelőhelyeket jelöli ...



a)	b)	c)
kőszó	bazalt	kőolaj

b) A tüzelőanyagként használt ásványkincsek közül Szlovákiában ebből található a legtöbb ...

a)	b)	c)
barnaszén és lignit	kőolaj és földgáz	uránérc

c) A Banská Bystricától nem messze található Špania Dolinában kitermelt ásványkincs a(z) ...

a)	b)	c)
réz	ólom	urán

d) A vasat tartalmazó ércek legjelentősebb lelőhelye Szlovákiában a ...

a)	b)	c)
Szlovák-érchegység	Tátra	Nagy-Fátra

2. (6B) Döntsd el, igazak-e az alábbi, Szlovákia ásványkincseiről szóló mondatok!

a) Szlovákiában barna- és kőszénlelőhelyek egyaránt megtalálhatók.

a)	b)
IGAZ	HAMIS

b) Szlovákia a magnezitkitermelés terén önellátó.

a)	b)
IGAZ	HAMIS

c) Szlovákia területén a középkorban az összes aranyat kitermelték, az ország napjainkban már nem rendelkezik aranylelőhellyel.

a)	b)
IGAZ	HAMIS

d) Napjainkban Szlovákiában kevesebb, mint 100 ember dolgozik a bányáiparban.

a)	b)
IGAZ	HAMIS

e) Szlovákiában minden kerületben található legalább egy kavicsbánya.

a)	b)
IGAZ	HAMIS

f) A réz, az ólom, a higany és a cink a természetben ércekben fordul elő.

a)	b)
IGAZ	HAMIS

3. (8B) Az afrikai szavannák nagyon atraktív helyek a világ turistái számára. A következő szavakban cseréld fel a betűket úgy, hogy a szavannákkal összefüggő kifejezéseket kapj. **(Szlovákul!)**



5.	3.	2.	4.	1.
A	Á	R	V	T

5.	2.	4.	3.	1.
Ň	A	Ô	K	P

5.	3.	1.	2.	4.
L	V	B	Y	O

5.	1.	2.	4.	3.
IA	A	K	C	Á

4.	1.	3.	5.	2.
AF	Ž	R	A	I

6.	2.	3.	4.	5.	1.
S	Š	T	R	O	P

4.	3.	1.	2.	5.
OŽ	R	NO	SO	EC

1.	5.	2.	6.	3.	4.
SE	T	R	I	EN	GE

4. (4B) A 6.A osztályos Fülöp földrajz órára készült. Kisöccse a tankönyvében megpillantotta Afrika térképét. A térkép annyira megtetszett neki, hogy egy papírra átrajzolta. Annak ellenére, hogy még csak hat éves volt, a rajz egészen jól sikerült. Fülöp a „térképhez” megadta a magyarázatokat. Hogy néztek ki a magyarázatok? **Alkoss helyes párokat!**

Az egyes párok kialakítása után a kapcsolat kék színűre vált. A válaszod csak a kékre váltás után érvényes.



1. 

_____ sivatagok

2. 

_____ szavannák

3. 

_____ hegyvidékek

4. 

_____ trópusi erdők

5. (9B) Döntsd el, igazak-e az alábbi, Afrikáról szóló kijelentések!

a) A Szomáli-félszigetet „Afrika szarvának” is nevezik.

a)	b)
IGAZ	HAMIS

b) Az Etióp-felföld Afrika legkiterjedtebb hegysége.

a)	b)
IGAZ	HAMIS

c) Az Okavango folyó az Indiai-óceánba torkollik.

a)	b)
IGAZ	HAMIS

d) A Szahara sivatag felszíne kiegyenlített, tengerszint feletti magassága sehol sem éri el a 600 métert.

a)	b)
IGAZ	HAMIS

e) Az afrikai szavannák talaja zömmel vörösés színeződésű.

a)	b)
IGAZ	HAMIS

f) A Kongó folyó vízhozama magasabb, mint a Niger folyóé.

a)	b)
IGAZ	HAMIS

g) Afrika felszínének legnagyobb része alföld.

a)	b)
IGAZ	HAMIS

h) Afrikában sohasem havazik.

a)	b)
IGAZ	HAMIS

i) A Zambézi folyón található Viktória-vízesés az UNESCO által jegyzett világörökség részét képezi.

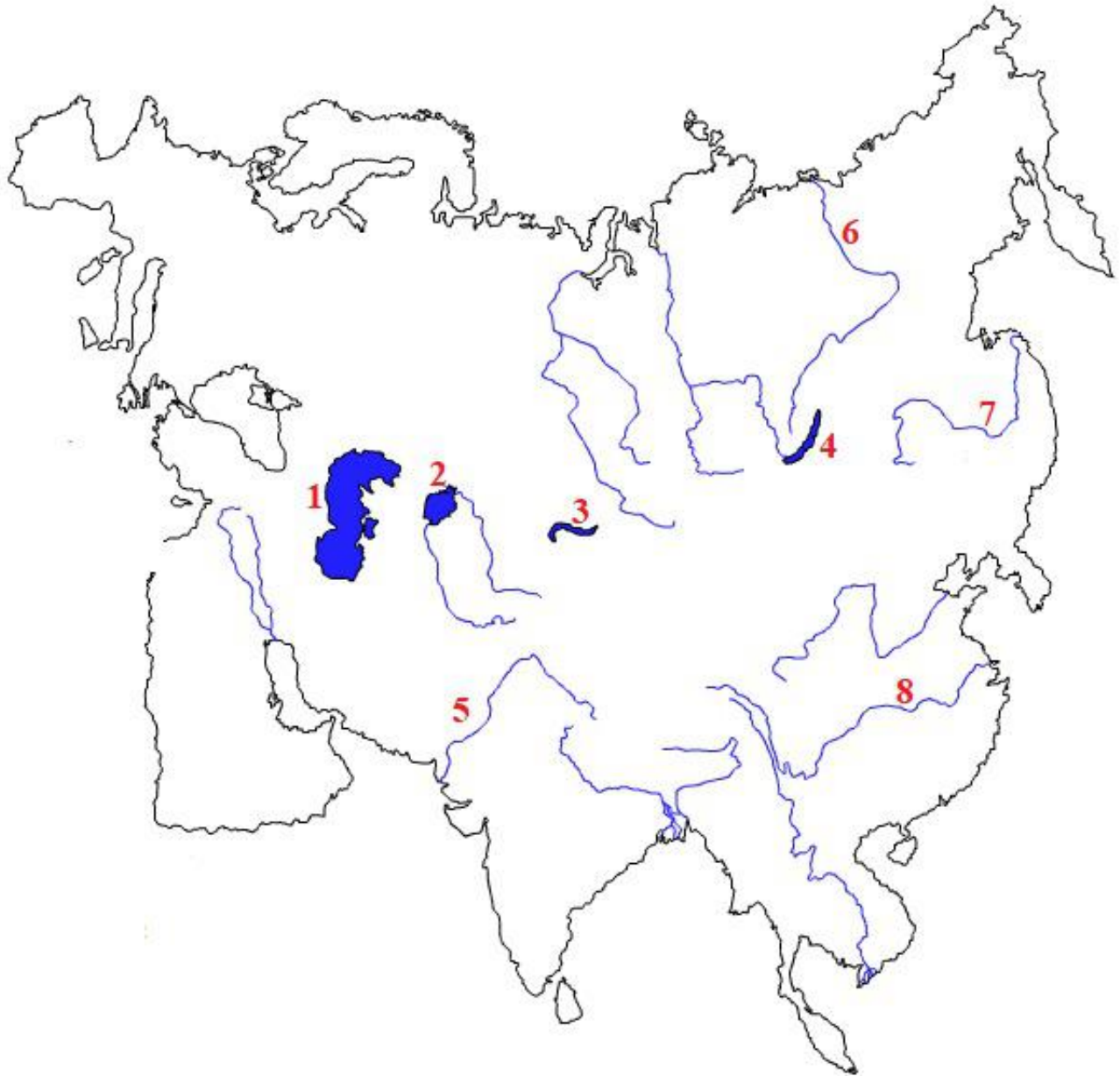
a)	b)
IGAZ	HAMIS

6. (10B) **AFRIKAI LEG-ek**

Az Afrika rekordjairól szóló szövegben válaszd ki a helyes kifejezéseket és információkat:

Afrika a harmadik legnagyobb világrész. Kiterjedése / / Európa kiterjedésének.
Legmagasabb pontja a(z) / / -csúcs a(z) / / hegységben. Leghosszabb folyója a / / és mellékfolyója, a / / .
Legnagyobb tava a / / -tó, melynek másik ismert megnevezése / / , legmélyebb pedig a / / -tó. Afrika legnagyobb sivatagja a Szahara, amely egyben a világ / / sivatagja.
Elhelyezkedésének köszönhetően Afrika a világ / / kontinense.

7. (8B) Dolgozz a képen látható térképpel!



a) Alkoss helyes párokat: az 1-től 4-ig számokkal jelzett ázsiai tavakhoz rendeld helyesen megnevezésüket!
Az egyes párok kialakítása után a kapcsolat kék színűre vált. A válaszd csak a kékre váltás után érvényes.

1.	3	Balkas-tó
2.	4	Bajkál-tó
3.	1	Kaszpi-tenger
4.	2	Aral-tó

b) Az 5-től 8-ig terjedő számokhoz válaszd ki helyesen a folyót!

5 - / / /

6 - / / /

7 - / / /

8 - / / /

8. (6B) 100 évvel ezelőtt az Aral-tó Ázsia és a világ legnagyobb tavai közé tartozott. Napjainkra azonban kiterjedése és víztartalma jelentősen lecsökkent. Állapítsd meg, igazak-e az alábbi, Aral-tóval kapcsolatos kijelentések:

a) Az Aral-tó vize sós.

a)	b)
IGAZ	HAMIS

b) Az Aral-tó lefolyástalan, nem ered belőle egyetlen folyó sem.

a)	b)
IGAZ	HAMIS

c) Az Aral-tóba torkollik a Szir-darja és az Amu-darja folyó.

a)	b)
IGAZ	HAMIS

d) A tó mellékfolyóiban levő vizet gyapotültetvények elárasztására használják.

a)	b)
IGAZ	HAMIS

e) A tó a világ legmagasabban elhelyezkedő vízfelületei közé tartozik.

a)	b)
IGAZ	HAMIS

f) A tó kiszáradt részeit sóhordalékok borítják, amelyeket a szél szétszór, és ezzel a környék talajait elértékteleníti.

a)	b)
IGAZ	HAMIS

9. (5B) Rendezd át a betűcsoportokat úgy, hogy a Japán fővárosának nevezetességeit leíró mondatokban megkapd a kihagyott kifejezéseket.

a) Japán fővárosa a japán gyorsvasút pályáján fekszik. A gyorsvasút neve

2.	3.	1.
KAN	SEN	SIN

b) A japán Meidzsi-szentély (a képen) a japán nemzeti vallás templomainak egyike. A vallás neve



2.	4.	3.	1.
TÓ	MUS	IZ	SIN

c) Tokió jelképe a ... , amely kinézetével az Eiffel-toronyra emlékeztet.



4.	5.	1.	3.	2.
TOW	ER	TO	O	KY

d) Tokió egyik leggyakrabban fényképezett emlékműve a képen látható ötszintes

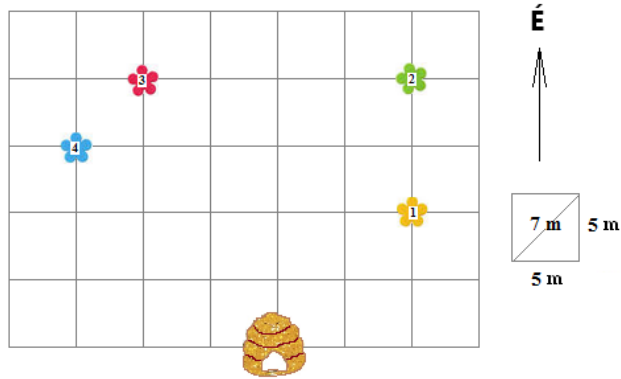


3.	1.	2.
DA	PA	GO

e) A tokiói parkok jellegzetes fája a virágzáskor rózsaszínbe boruló japán cseresznyefa, a ...

3.	2.	1.
RA	KU	SA

10. (10B) Maja, a méhecske a kaptárból kirepülve szorgalmas nektárgyűjtésbe kezdett. A kaptárból először a sárga színű virágra szállt, majd a zöldre, aztán a pirosra, legvégül pedig a kék virágra.



a) A méhecske egyes repülési szakaszainál jelöld meg helyesen az irányt és a repülési távolságot méterekben.

A kaptárból a **sárga** virágra (1-es szám):

irány: / / / / felé

távolság: / / /

A **sárga** virágról (1-es szám) a **zöld** virágra (2-es szám):

irány / / / felé

távolság: / / /

A **zöld** virágról (2-es szám) a **piros** virágra (3-as szám):

irány / / / felé

távolság: / / /

A **piros** virágról (3-as szám) a **kék** virágra (4-es szám):

irány / / / felé

távolság: / / /

b) Milyen messze volt Maja a kaptártól, amikor a kék virágon ült? / / /

c) A **kék** virágról Maja egyenesen visszarepült a kaptárba. Melyik irányban repült ekkor?

/ / / felé.

11. (14B) **A FELADAT MEGOLDÁSÁNÁL HASZNÁLD A VILÁGATLASZT, konkrétan a Japán-szigetek térképét!**

Kovácsék elhatározták, hogy Japánba mennek kirándulni. Elmentek egy utazási irodába, hogy megtudják, mit kínálnak számukra az út során. Az atlasz segítségével osztályozd a következő úticélokot és nevezetességeket aszerint, hogy Honsú vagy Hokkaidó szigetén található!

FIGYELEM! A kifejezés csak akkor kerül besorolásra, ha mellette kék gombostű jelenik meg. Ha a kifejezés eleve jól került besorolásra, akkor csak egy kicsit meg kell mozdítani.

- | | | |
|---|--------------|----------|
| 1. Matsumae vára az Osima-félszigeten | Honsú | Hokkaidó |
| 2. az Asahi csúcs megmászása a Daisetsuzan Nemzeti Parkban | Honsú | Hokkaidó |
| 3. exkurzió a <i>Toyota Motor Corporation</i> üzembe Toyotában | Honsú | Hokkaidó |
| 4. a Hakone üdülőterület Tokió közelében | Honsú | Hokkaidó |
| 5. az Atombomba-dóm nevű béke emlékmű Hirosimában | Honsú | Hokkaidó |
| 6. krizantém fesztivál Obihoróban | Honsú | Hokkaidó |
| 7. a forró Yagen Onsen forrás a Shimokita-félszigeten | Honsú | Hokkaidó |
| 8. belépőjegyek a Sapporo Dom futballstadionba, ahol a nyári olimpia játékok mérkőzéseit játszották | Honsú | Hokkaidó |
| 9. utazás gyorsvasúttal Moriokából Szendaiba | Honsú | Hokkaidó |
| 10. az oszakai várerődítmény | Honsú | Hokkaidó |
| 11. buddhista templomok Kiotóban | Honsú | Hokkaidó |
| 12. ainu zenei koncert Asahikawában a zenei fesztiválon | Honsú | Hokkaidó |

Kovácsék a honsú kirándulást választották. A bécsi repülőtérrel egyenesen a japán fővárosba repültek. A gépük csütörtökön, **13:00 órakor indult**. Az út pontosan **10 órát** tartott.

a)	b)	c)	d)	e)	f)
5:00	7:00	8:00	15:00	22:00	23:00

Milyen nap volt Japánban?

a)	b)	c)	d)
szerda	csütörtök	péntek	szombat

4. **B**



Peru

Paraguay

Az atlasz segítségével válaszolj a következő kérdésekre, amelyek a megrongált kirakórészek által képviselt országokat jelölik:

a) Közülük mennyi a belföldi állam (nem rendelkezik tengerparttal)?

a)	b)	c)	d)	e)
0	1	2	3	4

b) Hány országot érint közülük az Andok?

a)	b)	c)	d)	e)
0	1	2	3	4

c) Melyik államon halad át az Egyenlítő?

a)	b)	c)	d)
A államba	B államba	C államba	D államba

d) Melyikükben mászhatod meg Dél-Amerika legmagasabb csúcsát?

a)	b)	c)	d)	e)
A államba	B államba	C államba	D államba	egyikükben sem

e) Melyikükhöz tartoznak a Galápagos-szigetek?

a)	b)	c)	d)	e)
A államba	B államba	C államba	D államba	egyikhez sem

13. (7B) A természetbe történő kirándulásokon és túrákon turisztikai térképek segítségével tájékozódunk.

a) Mit jelölnek az alábbi térképjelek a fenti térképeken?



a)	b)	c)
barlang	szakadék	híd



a)

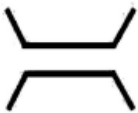
mocsár	b)	c)
	vízimalom	forrás



a)	b)	c)
kastély	magányos szikla	lavinaveszély



a)	b)	c)
erdésház	természeti múzeum	kápolna



a)	b)	c)
híd	szakadék	vasút

b) A turistaösvényeket turisztikai jelekkel jelölik. Hány szintet használunk középső sáv jelölésénél?

6 szint / 5 szint / 4 szint

c) Melyik jelet nem használjuk a turistaösvények jelölésénél?

a)	b)	c)	d)
