

Písomný test pre kategóriu E – ZŠ (8. a 9. ročník) a OG (3. a 4. ročník)

1. (6B) Alkoss helyes párokat: a híres nevekhez rendeld a megfelelő fogalmat!

A pár kialakítása után a kapcsolat kék színűre vált, és válasz csak ezután kerül beszámításra.

1. Robert Scott	_____	halál az Antarktiszon
2. Edmund Hillary	_____	8 848 m t. f. m.
3. Ptolemaiosz	_____	„A világűr központja a Föld.“
4. Jacques Piccard	_____	Mariana-árok
5. Milan Rastislav Štefánik	_____	csillagász és francia generális
6. Alexander von Humboldt	_____	a modern földrajz megalkotója

2. (4B) A Halloween-partyn híres felfedezők és utazók szellemei találkoztak. Milyen lehetett a bemutatkozásuk?

a) **Az első szellem ezt mondta:** „A 18. században hajóm a Csendes-óceán vizeit szelte. Átkutattam Ausztrália keleti partvidékét. Elneveztek rólam többek között egy szorost és egy szigetcsoportot is. Én vagyok / / kapitány.“

b) **A második szellem ezt mondta:** „A mai Szlovákia területén születtem. Bejártam rengeteg tájat a világnak. Afrika legnagyobb szigetén királlyá kiáltottak ki. A történelmi Magyarországon gróf voltam. A nevem / / .

c) **A harmadik szellem ezt mondta:** „Én voltam a kapitánya annak az expedíciónak, amelyik 1519-1522-ben a Victoria hajóval megkerülte az egész földgolyót. Jómagam az út végét nem értem meg. A nevem / / .

d) **A negyedik szellem ezt mondta:** „Bejártam Ázsia nagy részét. Több, mint egy évet töltöttem fogságban, ahol könyvet írtam utazási élményeim és tapasztalataim alapján. Én vagyok / / .

3. (10B) Döntsd el, igazak-e az alábbi, sztyeppekre vonatkozó állítások!

a) A déli és az északi féltekén is található sztyeppeket.

a)	b)
IGEN	NEM

b) A sztyeppeken a forró és száraz nyarak a hideg telekkel váltakoznak.

a)	b)
IGEN	NEM

c) A sarkkörökön is találunk sztyeppeket.

a)	b)
IGEN	NEM

d) A sztyeppeken a napi középhőmérséklet gyakran meghaladja a 40 °C-t.

a)	b)
IGEN	NEM

e) Európában Magyarországon, Ukrajnában és Oroszországban található sztyeppek.

a)	b)
IGEN	NEM

f) A sztyeppeken évente több, mint 1000 mm csapadék esik.

a)	b)
IGEN	NEM

g) A sztyepp jellegzetes táját kiterjedt füves területek alkotják.

a)	b)
IGEN	NEM

h) A sztyeppeken termékeny feketeföldek alakultak ki.

a)	b)
IGEN	NEM

i) A sztyepp legelterjedtebb fafajtája az eukaliptusz.

a)	b)
IGEN	NEM

j) A sztyeppek a 20. és a 30. földrajzi szélességek között a leggyakoribbak.

a)	b)
IGEN	NEM

4. (4B) A világ különböző részein a sztyeppek megnevezése más és más. **Alkoss helyes párokat:** a sztyepp megnevezését párosítsd a régióval, ahol a megnevezést használják!

A pár kialakítása után a kapcsolat kék színűre vált, és válasz csak ezután kerül beszámításra.

1. puszta	_____	Magyarország
2. préri	_____	Észak-Amerika
3. celina	_____	Oroszország
4. pampa	_____	Dél-Amerika

5. (10B) A sztyeppeken sokfajta állatfaj él. **A betűk átrendezésével megkapod a legismertebbeket.**



4.	1.	3.	2.
L	N	Ú	Y

5.	2.	3.	1.	4.
K	Ú	Z	T	O

1.	4.	3.	2.
SZ	A	G	AJ

3.	4.	1.	2.
JO	T	K	O

3.	1.	4.	2.		
U	SZ	NK	K		
6.	5.	4.	3.	1.	2.
Y	N	É	L	B	Ö
2.	4.	1.	3.		
R	E	Ü	G		
2.	1.	4.	3.		
O	B	Z	R		
3.	2.	4.	1.		
R	A	U	D		
4.	1.	3.	2.		
J	F	R	Ü		

6. (6B) A tanító néni a dolgozatban Európa folyóiról kérdezte a tanulókat. Az egyik kérdés a világrész térképét tartalmazta, ahol meg voltak jelölve a legjelentősebb folyók. A tanulóknak hat folyót kellett helyesen bejelölniük. Lukács megoldását az alábbi ábrán láthatod. **Melyik folyókat jelölte be helyesen, és melyeket helytelenül?**

FIGYELEM! A folyó neve csak akkor kerül elbírálásra, ha megjelenik mellette a kék gombostű. Ha a folyó eredetileg jól volt bejelölve, elég csak egy kicsit megmozdítani.



1. Duna

Helyesen megjelölt folyók:

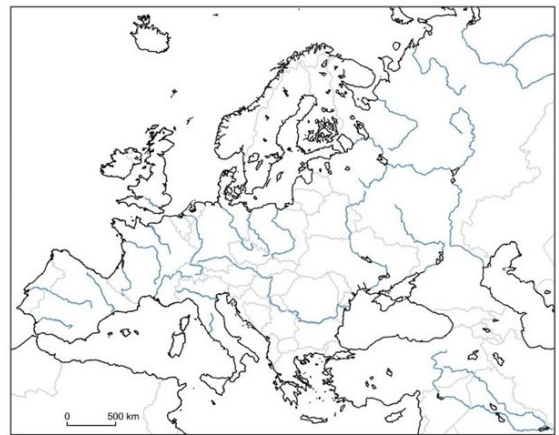
Helytelenül megjelölt folyók:

2. Rajna	Helyesen megjelölt folyók:	Helytelenül megjelölt folyók:
3. Loire	Helyesen megjelölt folyók:	Helytelenül megjelölt folyók:
4. Pó	Helyesen megjelölt folyók:	Helytelenül megjelölt folyók:
5. Don	Helyesen megjelölt folyók:	Helytelenül megjelölt folyók:
6. Visztula	Helyesen megjelölt folyók:	Helytelenül megjelölt folyók:

7. (10B) Válaszd ki a helyes kifejezéseket az alábbi, Európa vízrajzával kapcsolatos állításokba!

- a) Európa legnagyobb része a Jeges-tenger vízgyűjtő területéhez tartozik / lefolyástalan terület / az Atlanti-óceán vízgyűjtő területéhez tartozik.
- b) Európa leghosszabb folyója a Duna / Volga / Rajna.
- c) Az Elba folyó a(z) Északi- / Balti- / Norvég- tengerbe torkollik.
- d) Nagy folyónk, a Duna Németországban / Svájcban / Ausztriában ered.
- e) Az Északi-tengert a Fekete-tengerrel a Rajna - Morva / Mosel / Majna – Duna víziút köti össze.
- f) Az európai tavak többsége vulkanikus / gleccser / karszt eredetű.
- g) A legnagyobb kiterjedésű európai tó a Vänern-tó / Fertő-tó / Ladoga-tó.
- h) Európa leghosszabb gleccsere a(z) Alpokban / Pireneusokban / Tátrában található.
- i) Szlovákia legnagyobb tengerszeme a Nagy-Hincó-tó (Veľké Hincovo pleso) / Csorba-tó (Štrbské pleso) / Poprádi-tó (Popradské pleso).
- j) A legnagyobb európai kikötőváros Rotterdam / Hamburg / Athén.

8. (10B) A következő sorokban cseréld fel a betűket úgy, hogy nagy európai folyók nevét kapd eredményül!



4.	2.	5.	1.	3.
R	D	A	O	E
2.	4.	3.	1.	
B	O	R	E	
4.	1.	3.	2.	
O	T	J	A	
3.	5.	4.	2.	1.
Ô	E	N	H	R
2.	4.	5.	3.	1.
L	AV	A	T	V

2.	4.	1.	3.
A	NA	SZ	J

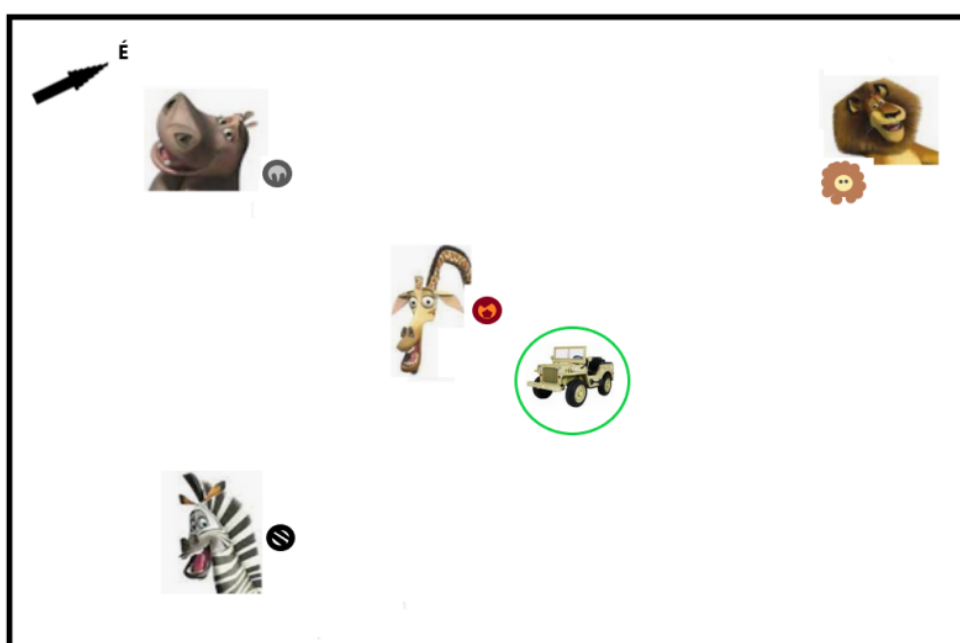
3.	1.	4.	2.
M	T	ZE	E

2.	4.	3.	1.
V	E	ER	TE

5.	1.	4.	3.	2.
O	D	R	E	U

1.	5.	4.	2.	3.
D	R	PE	NY	E

9. (8B) A turisták terepjáróra szálltak, és kimentek az afrikai nemzeti parkba, hogy megfigyeljék az ott élő állatokat. Miután megálltak, körülnéztek. **Figyeld meg az alábbi képet, és az északi irányt mutató nyíl segítségével állapítsd meg, melyik irányba kell tekinteniük a messzelátóikkal, ha szeretnék meglátni:**



a) **Alexet, az oroszlánt ?**

a)	b)	c)	d)	e)	f)
ÉK	DK	ÉNY	É	K	NY

b) **Melmant, a zsiráfot ?**

a)	b)	c)	d)	e)	f)
É	D	NY	K	DNY	DK

c) **Martyt, a zebrát ?**

a)	b)	c)	d)	e)	f)
ÉK	DK	ÉNY	DNY	D	NY

d) **Glóriát, a vízilovat ?**

a)	b)	c)	d)	e)	f)
ÉK	DK	É	DNY	D	NY

e) Milyen irányban kell elindulnia **Glóriának, a vízilóknak**, hogy meglátogassa **Alexet, az oroszlánt** ?

a)	b)	c)	d)
DK	É	K	ÉK

f) Milyen irányban kell elindulnia **Alexnek, az oroszlánnak** , hogy meglátogassa **Martyt, a zebrát** ?

a)	b)	c)	d)
DK	D	NY	DNY

g) Milyen irányban kell elindulnia **Melmannak, a zsiráfnak** , hogy meglátogassa **Glóriát, a vízilovat** ?

a)	b)	c)	d)
ÉK	K	DNY	NY

h) Melyik irányba nem mehet **Marty, a zebra** , ha nem akar találkozni a **turistákkal** ?

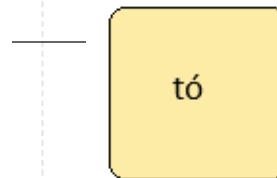
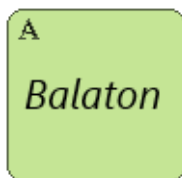
a)	b)	c)	d)
É	ÉK	K	ÉNY

10. (12B) A FELADAT MEGOLDÁSÁNÁL HASZNÁLD A VILÁGATLASZT!

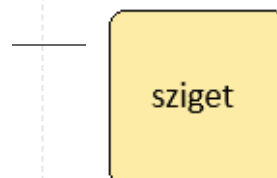
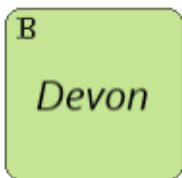
Játsz földrajzi pexesót! Melyik kártyák alkotnak párt?

A pár kialakítása után a kapcsolat kék színűre vált, és válasz csak ezután kerül beszámításra.

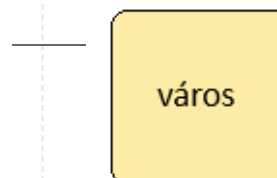
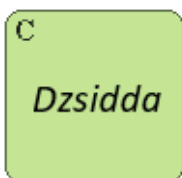
1.



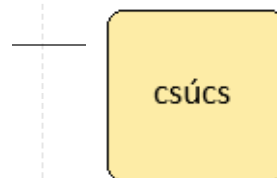
2.



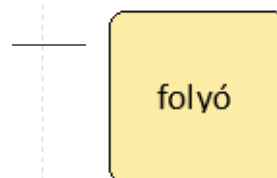
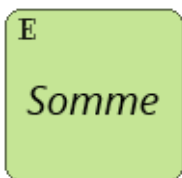
3.



4.



5.



Most pedig válaszolj helyesen a kis kártyákon található objektumokkal kapcsolatos kérdésekre!

a) Átélted a sarki nappalt és a sarki éjszakát a kártyán szereplő szigeten?

a)	b)
IGEN	NEM

b) A kártyán szereplő csúcs magasabb a Gerlachfalvi-csúcsnál?

a)	b)
IGEN	NEM

c) A kártyán szereplő folyó hosszabb, mint a Vág?

a)	b)
IGEN	NEM

d) A kártyán szereplő tó kevesebb, mint 300 km távolságra található Pozsonytól (Bratislava)?

a)	b)
IGEN	NEM

e) A kártyán szereplő város népessége nagyobb, mint Pozsony (Bratislava) népessége?

a)	b)
IGEN	NEM

f) A kártyákon szereplő objektumok közül mennyi található az északi féltekén?

a)	b)	c)	d)	e)
mind	4	3	2	1

g) A kártyákon szereplő objektumok közül mennyi található Európában?

a)	b)	c)	d)	e)
mind	4	3	2	1

11. (5B) A FELADAT MEGOLDÁSÁNÁL HASZNÁLD A VILÁGTALASZT!

Az ötödikesek a földrajz órán az időzónákról tanultak. Az óra végén házi feladatot kaptak: helyesen kellett leírniuk a következő állításokat. Hogy nézett ki a helyesen megoldott lecke? Válaszd ki a megfelelő lehetőségeket!

a) Kanadában most / óra a pontos idő, mint Szlovákiában.

b) Az afrikai Botswana állam Szlovákiával / időzónában fekszik.

c) Szlovákia határos államai közül / ugyanazt az időt használja (közép-európai idő).

d) Kína egész területe / .

e) Amikor Szlovákiában éjfél van, Spanyolországban

/ / .

12. (8B) A FELADAT MEGOLDÁSÁNÁL HASZNÁLD SZLOVÁKIA ATLASZÁT!

Alenka a szüleivel a D1-es autópályán utazott Ilavából Zsolnára (Žilina). Miközben figyelmesen nézte a tájat, az atlasz és apukája navigációja segítségével ezeket a dolgokat állapította meg:

a) Az autóból látta a / / hegység csúcsait.

b) Balkéz felől megfigyelte / / romjait.

c) Édesapja navigációja szerint leggyakrabban / / irányban utaztak.

- d) Amikor Zsolnához (Žilina) értek, a navigációs berendezésen észre vette, hogy a város / / tengerszint feletti magasságban fekszik.
- e) Ilava délebbre és / fekszik, mint Zsolna (Žilina).
- f) Az út során / kerületen haladtak át.
- g) Považská Bystrica közelében a Vág folyón található a / / nevű víztározó.
- h) Amikor elhagyták Považská Bystricát, Alenka az útjelző tábláról leolvasta, hogy Zsolnáig (Žilina) még / / km-t kell megtenniük.

13. (7B) A FELADAT MEGOLDÁSÁNÁL HASZNÁLD A VILÁGATLASZT!

Minden sorban válassz ki egy várost, amelyhez a sor elején található információ tartozik!

a) 2022-ben elsőként köszöntötték Újév napját.

a)	b)	c)	d)	e)
Lagos	Chicago	La Paz	Tokió	Kairó

b) A legközelebb fekszik az Egyenlítőhöz.

a)	b)	c)	d)	e)
Lagos	Chicago	La Paz	Tokió	Kairó

c) A legmagasabb elhelyezkedésű.

a)	b)	c)	d)	e)
Lagos	Chicago	La Paz	Tokió	Kairó

d) A legmagasabb elhelyezkedésű.

a)	b)	c)	d)	e)
Lagos	Chicago	La Paz	Tokió	Kairó

e) A legkevesebb lakosa van.

a)	b)	c)	d)	e)
Lagos	Chicago	La Paz	Tokió	Kairó

f) Ugyanabban az időzónában fekszik, mint Pozsony (Bratislava).

a)	b)	c)	d)	e)
Lagos	Chicago	La Paz	Tokió	Kairó

g) Pozsonyhoz (Bratislava) legközelebb helyezkedik el.

a)	b)	c)	d)	e)
Lagos	Chicago	La Paz	Tokió	Kairó