


Geografická olympiáda pre stredné školy, 51. ročník, školský rok 2022/2023,
celoslovenské kolo, kategória – Z, časť – multimediálny test, riešenia

Meno a priezvisko	
Škola a trieda	
Kategória	Z
Počet bodov	

Na každú otázku typu A, B, C, D je práve jedna správna odpoveď.

01. Na obrázku je záber z významného hlavného mesta. Je Zapísané v Zozname svetového kultúrneho dedičstva a leží na druhom najväčšom Karibskom ostrove. Určte, z ktorého mesta je fotografia.



Odpoveď: Santo Domingo

02. V roku 2022 bol zavraždený premiér:

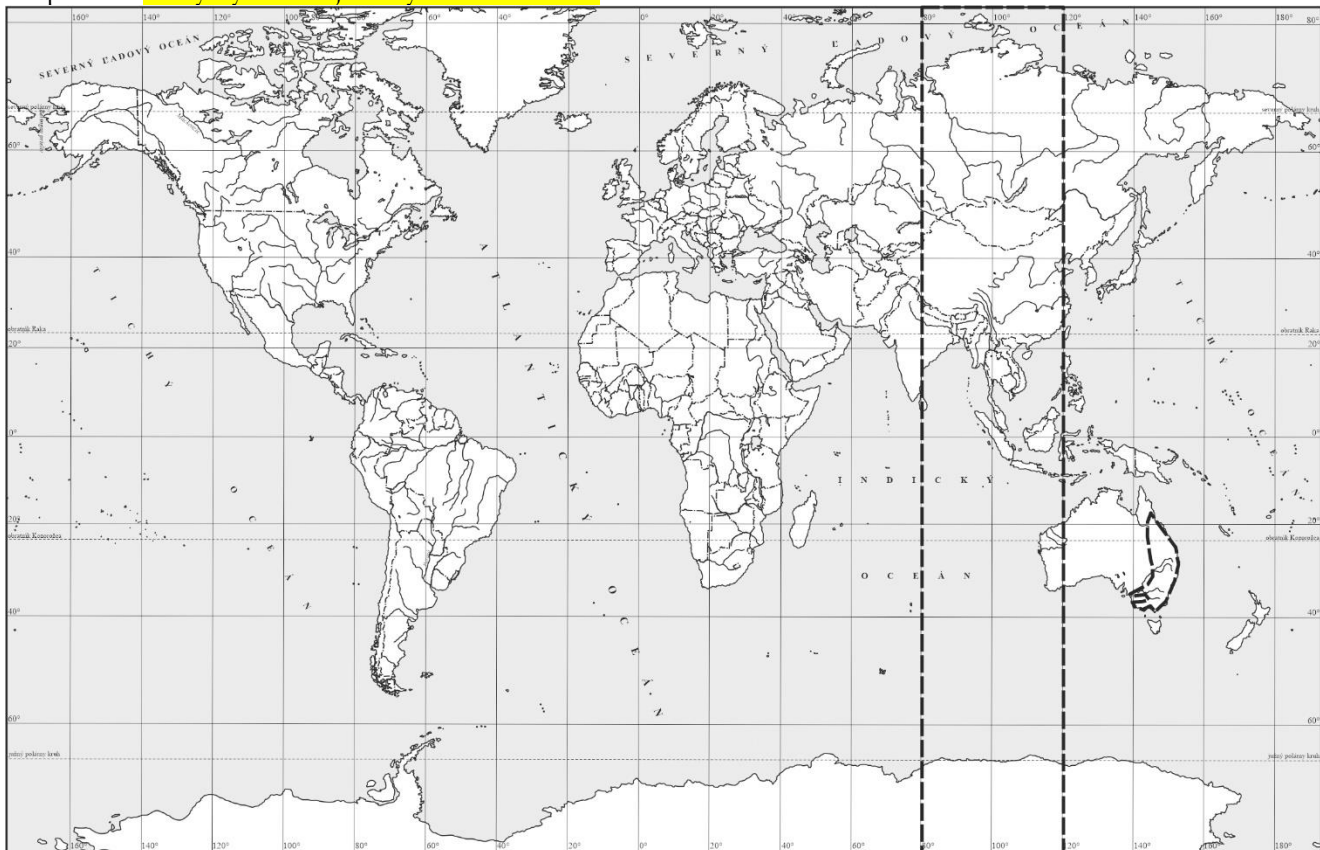
- A) Japonska B) Spojeného kráľovstva C) Švédsko D) Taliansko

03. Zaznačte čiarou v obrysovej mape sveta územie, kde dnes o 10.00 svetového času zapadá Slnko.

Odpoveď: Vyznačiť územie medzi 80°-120° v. g. d.

04. Zaznačte v obrysovej mape sveta región s voľne žijúcou populáciou koaly.

Odpoveď: Úzky východ a juhovýchod Austrálie



body:

05. Kde sa hrajú v tomto roku (2023) MS v ľadovom hokeji?

Odpoveď: Fínsko a Lotyšsko uznávajú sa aj mestá, v ktorých sa hrajú zápasy

06. Určte, kto spieva nasledujúcu hudobnú skladbu.

Odpoveď: Miley Cyrus

07. Ktorý z uvedených štátov má najvyššie položené hlavné mesto?

A) Švajčiarsko B) Ekvádor C) Filipíny D) Japonsko

08. Ako sa v minulosti nazývalo Zimbabwe?

Odpoveď: Južná Rodézia, Rodézia

09. Kde (v ktorom štáte) je najpopulárnejší šport kriket?

A) India B) Švédsko C) Srbsko D) Uruguaj

10. Keď v meste Sydney vychádza Mesiac, v ktorom meste v tom istom čase tiež vychádza Mesiac.

Odpoveď: Melbourne, Brisbane a ďalšie miesta na približne rovnakej geografickej dĺžke.....

11. Do ktorého z uvedených miest sa z Bratislavy **nedostanete** loďou?

A) Atény B) Lisabon C) Káhira D) Jeruzalem

12. V ktorom štáte sa nachádza pamiatka zapísaná v zozname Svetového kultúrneho dedičstva so slovenským názvom Havrania skala?

Odpoveď: Maďarsko

13. Ktoré hlavné mesto suverénneho štátu Zeme leží najbližšie k stredu Zeme?

Odpoveď: Reykjavík

14. Kto je autorom známej sochy na obrázku?

Odpoveď: Michelangelo Buonarroti



15. Ktorý tanec je najpopulárnejší v Mexiku?

Odpoveď: Jarabe Tapatio

16. Koľko vidieckych obyvateľov malo dohromady Slovensko v roku 2020 (s presnosťou na 100 tisíc)?

Odpoveď: 2 396 mil.-2 596 mil.

17. V ktorom z uvedených sídel **nie je** hrad?

A) Zvolen B) Lučenec C) Muráň D) Kežmarok

18. Ktorý z uvedených štátov nemá parlament v skutočnom zmysle slova?

A) Bolívia B) Mali C) Tunisko D) Čína

19. Kedy sa budú konať najbližšie voľby do Slovenskej národnej rady?

A) máj 2023 B) júl 2023 C) júl 2023 D) september 2023

20. Na ktorom z uvedených svetadielov žije najviac kresťanov?

body:

A) Afrika B) Európa C) Amerika D) Ázia

21. V ktorom z uvedených štátov **nie je** úradným jazykom aj francúzština?

A) Kanada B) Haiti C) Madagaskar D) Venezuela

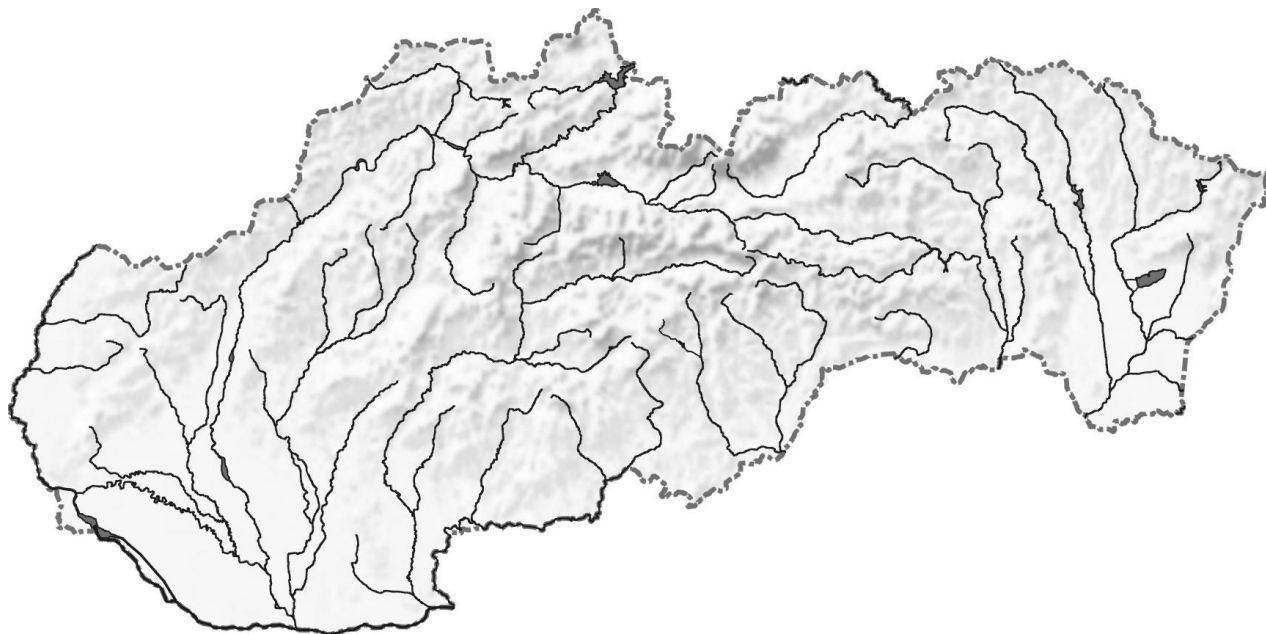
22. V ktorom z uvedených štátov tvoria Maďari najpočetnejšiu národnostnú menšinu?

A) Česko B) Rumunsko C) USA D) Moldavsko

23. Určte, ktorá plodina pochádza z Ánd?

A) banán B) jablko C) zemiak D) káva

24. Vyznačte a pomenujte na mape región Slovenska s najväčším počtom národných parkov.



Odpoveď: Severné Slovensko

25. Na nasledujúcom videu sú typické zábery z mesta (bolo pustené video do 1:00 min - upravené):

Odpoveď: Barcelona

Autor: Ladislav Tolmáči

Mapy: Daniel Gurňák

Video: Rastislav Cákoci

Recenzenti: Rastislav Cákoci, Anna Mydlová

Slovenská komisia geografickej olympiády

Vydal: Národný inštitút vzdelávania a mládeže, Bratislava 2023