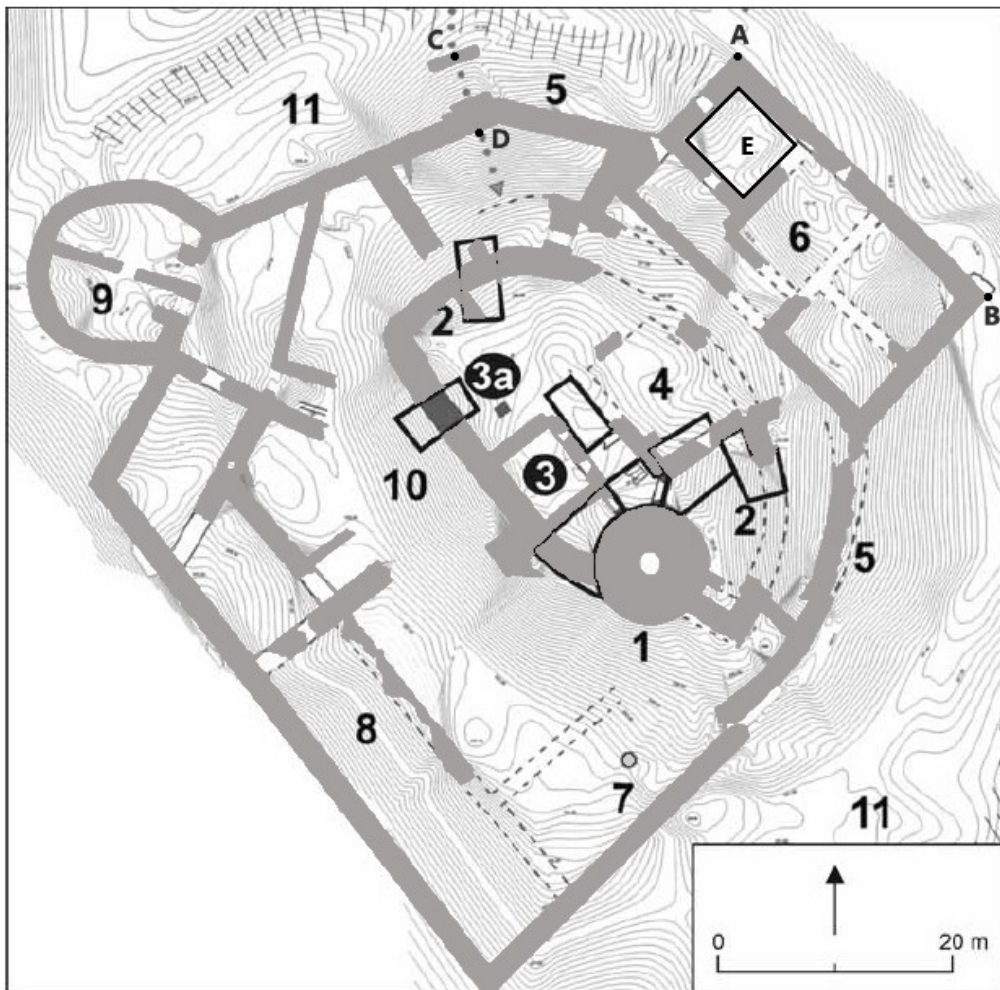


Krajské kolo Geografickej olympiády pre ZŠ a 8-ročné gymnáziá
51. ročník, školský rok 2022/2023
Písomný test pre kategóriu E – ZŠ (8. a 9. ročník) a OG (3. a 4. ročník)
 Praktická časť - úlohy

Meno a priezvisko:
 Škola: Trieda:
 Počet bodov:

1. A turisztikai katalógusokban az alábbi ábra jelent meg az Apponyi vár romjainak (Oponický hrad) alapterületéről. Dolgozz az alaprajzzal, és válaszolj az ábra alatti kérdésekre!



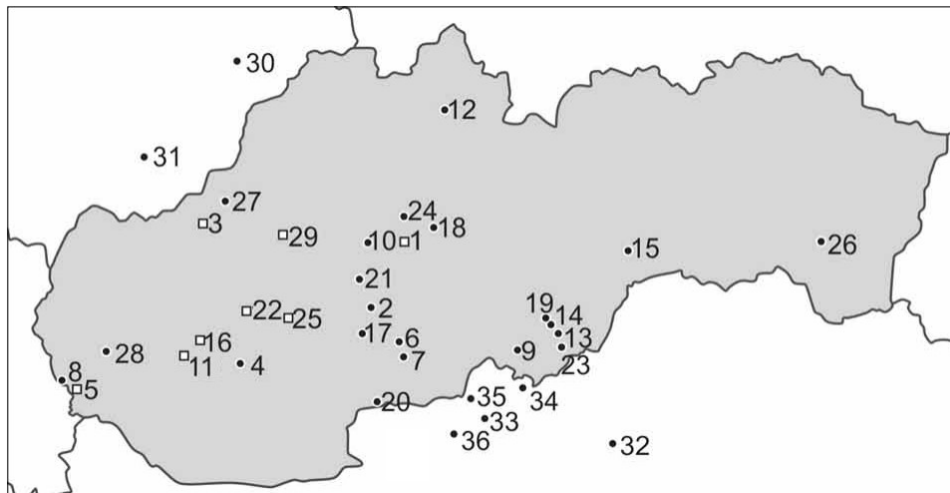
- a) Milyen hosszú a várfal az A és a B pontok között? m
- b) A várba a C és D pontok között található fahídon tudunk bejutni. Állapítsd meg a híd hosszát méterekben (egy tizedesnyi pontossággal) és azt az irányszöveget (azimut), amely mentén a látogatók a várba lépnek.
- A híd hossza: m Azimut: °
- c) Mekkora az E helyiség területe (az ábrán fekete kerületű téglalap jelöli)? m²
- A következő kérdéseknél karikázd be a helyes választ:
- d) A 6-os számmal jelzett külső palotát a világtájakra való tekintettel palotának is nevezik.
- délnyugati északkeleti északnyugati
- e) Milyen számmal jelölték a vár külső, délnyugati palotáját? 7-es 8-as 9-es
- f) Határozd meg az alaprajz méretarányát! 1 :

2. Szlovákia atlaszának segítségével gyűjts információkat az előző feladatban szereplő várról!

a) Az alábbi archeológiai térképen a 27-es szám a Trencsényi vár (Trenčiansky hrad) jelöli

Melyik szám jelöli az Apponyi várat (Oponický hrad)?

Melyik váromot jelöli a 29-es szám?



b) Egészítsd ki helyes információkkal az alábbi, Apponyi várról (Oponický hrad) szóló szöveget:

A vár Oponice község felett emelkedik a(z)-i járásban, a(z) hegység nyugati nyúlványában, a(z) védett tájegység területén.

c) A várról és környékéről szóló szövegben a kijelölt kifejezések közül karikázd be a helyeset!

A környező erdők fő fafajtája a jegenyefenyő / tölgy / lucfenyő / boróka. A vár megközelítőleg 300 / 800 / 1000 / 1200 méter tengerszint feletti magasságban található.

d) A következő táblázatban karikázd be helyesen a váromhoz tartozó földrajzi koordinátákat!

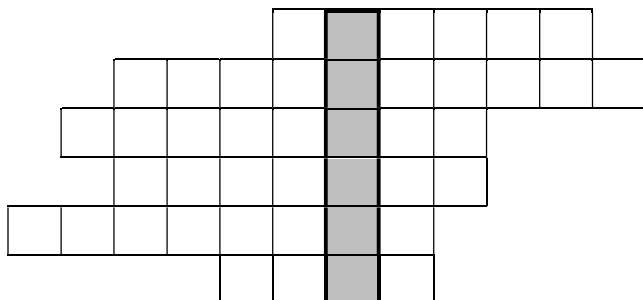
földrajzi szélesség	48° 00'-tól 48° 19'-ig	48° 20'-tól 48° 39'-ig	48° 40'-tól 48° 59'-ig
földrajzi hosszúság	18° 00'-tól 18° 19'-ig	18° 20'-tól 18° 39'-ig	18° 40'-tól 18° 59'-ig

e) A váromtól nem messze egy 829 méter magas csúcs emelkedik. Erről a csúcsról milyen irányszög (azimut) alatt látható az Apponyi vár (Oponický hrad)? A helyes adatot karikázd be!

90° 110° 250° 270°

3. FORDÍTOTT rejtvény [Szlovákul!]

a) Az alábbi rejtvény függőleges oszlopa egy szlovákiai járás központját rejt. A járás területét a mellékelt ábra szemlélteti. Az atlasz segítségével állapítsd meg, melyik ez a járás, és székhelyét írd be a rejtvény megjelölt függőleges oszlopába. Ezután a rejtvény melletti meghatározások alapján töltsd ki a sorokat olyan földrajzi objektumokkal, amelyek a járás területén található!



- város
- város
- ásványvízforrás
- ásványvízforrás
- folyó
- folyó

b) A következő sorokban karikázd be helyesen az IGEN vagy a NEM lehetőséget aszerint, hogy az adott tulajdonság jellemzi-e a rejtvényben található járást.

I.	államhatár	IGEN	NEM
II.	jelentős létszámú magyar kisebbség	IGEN	NEM
III.	atomerőmű	IGEN	NEM
IV.	nemzetközi repülőtér	IGEN	NEM
V.	élelmiszeripar	IGEN	NEM
VI.	leghosszabb szlovákiai folyó	IGEN	NEM
VII.	Szlovákia 3 legnagyobb kiterjedésű járásának az egyike	IGEN	NEM
VIII.	villamosított vasúti pálya	IGEN	NEM
IX.	UNESCO-emplék hely	IGEN	NEM
X.	kőszénbányászat	IGEN	NEM
XI.	CHKO Štiavnické vrchy	IGEN	NEM

c) Melyik az a járásban fekvő, a székhelytől kb. 10 km-re található község, ahol skanzen működik?

.....

Melyik az a járás területén fekvő város, amelyikből közúton átjuthatunk a szomszédos országba?

.....

4. Linda az iskola befejezése után Szlovákiában állt munkába. Két volt osztálytársa külföldön keresett munkát. Linda gyakran beszél velük telefonon vagy chaten keresztül. Azonban vigyáznia kell, hogy ne zavarja őket, amikor éppen dolgoznak. Andreát, aki **Quitoban** dolgozik, leggyakrabban a munkaidő megkezdése előtt hívja, vagyis ottani idő szerint **9:00** óra előtt. Danielával, aki **Bhopálban** talált munkát, leggyakrabban az ottani ebédszünetben, vagyis helyi idő szerint **12:00 és 12:30** óra között beszélget. Hány óra van Szlovákiában, amikor Linda a két lánnyal beszélget?

a) Andreával óra előtt

b) Danielával óra és óra között