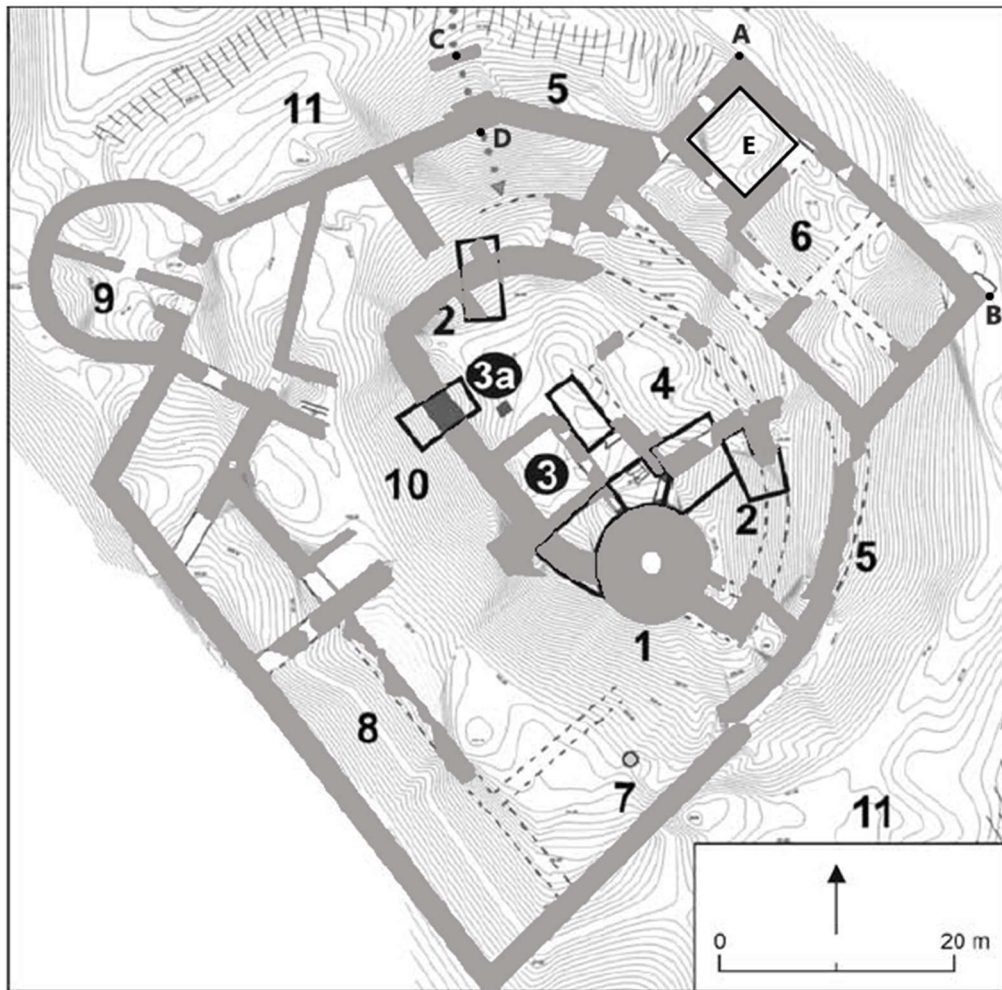


Krajské kolo Geografickej olympiády pre ZŠ a 8-ročné gymnáziá
51. ročník, školský rok 2022/2023
Písomný test pre kategóriu F – ZŠ (6. a 7. ročník) a OG (1. a 2. ročník)
 Praktická časť - úlohy

Meno a priezvisko:
 Škola: Trieda:
 Počet bodov:

1. V turistických prospektoch sa nachádza nasledujúci obrázok (plán) pôdorysu zrúcaniny Oponického hradu. Pracuj s ním a odpovedz na otázky pod obrázkom.



V nasledujúcich otázkach zakrúžkuj správnu odpoveď.

- a) Je hradný múr medzi bodmi A a B dlhší ako 25 m? ÁNO NIE
- b) Do hradu sa vstupuje po drevenom moste medzi bodmi C a D. Má dĺžku väčšiu ako 8 m? ÁNO NIE
- c) Akú rozlohu má miestnosť E (vyznačená ako čierny obdĺžnik)?
 4 m² 14 m² 44 m² 100 m²
- d) Vonkajší palác označený č. 8 sa vzhľadom na svetové strany nazýva aj palácom ...
 juhozápadným severozápadným juhovýchodným
- e) Akým číslom je v pláne označený vonkajší severovýchodný palác hradu? č. 6 č. 7 č. 9
- f) Pozri si fotografiu hradu (vpravo). Akým číslom je v pláne označený zakrúžkovaný objekt? č. 1 č. 5 č. 9

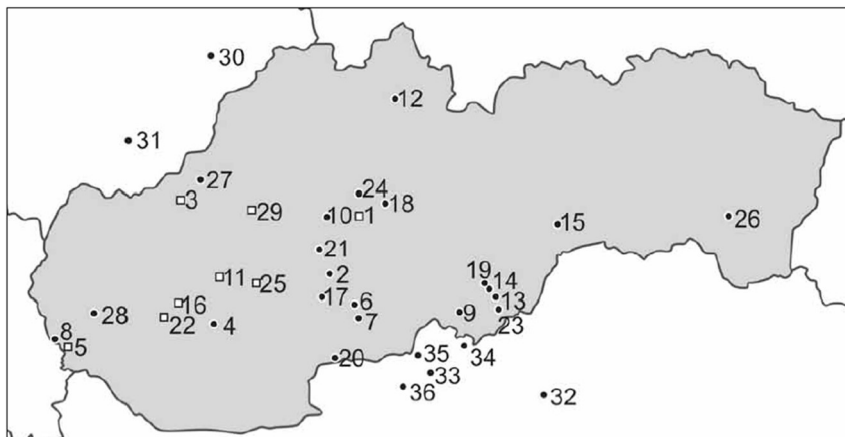


2. Teraz s pomocou atlasu Slovenskej republiky zisti informácie o Oponickom hrade a jeho okolí.

a) Číslom 27 je v nasledujúcej mape archeologických nálezísk označený Trenčiansky hrad.

Akým číslom je označená zrúcanina Oponického hradu? č.

Zrúcanina ktorého hradu na ľavom brehu Váhu je označená č. 3?



b) Doplň správne informácie do textu o Oponickom hrade.

Hrad sa vypína nad obcou Oponice v okrese na západnom výbežku pohoria v Chránenej krajinej oblasti

c) Vyber správny pojem do charakteristík okolia Oponického hradu.

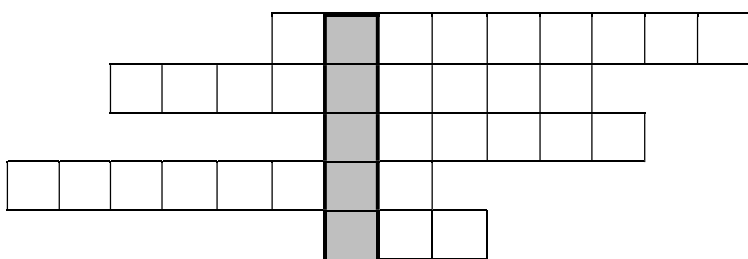
V okolitých lesoch prevládajú ihličnaté / listnaté lesy. Hrad leží v nadmorskej výške približne 300 / 800 / 1200 m n. m. Súradnice jeho polohy sú: 48° 27' / 49° 27' geografickej šírky a 18° 09' / 19° 09' geografickej dĺžky.

d) Ktorým smerom treba hľadiť, aby sme videli zrúcaninu Oponického hradu z vrchu Veľký Tribeč? Zakrúžkuj správnu odpoveď.

na juh na juhozápad na východ na severozápad

3. Doplňovačka NAOPAK.

a) V nasledujúcej doplňovačke je v tajničke ukrytý názov afrického štátu, ktorého územie je zobrazené na obrázku (vpravo). S pomocou atlasu zisti, o ktorý štát ide a doplň jeho názov do tajničky. Potom podľa pokynov vedľa doplňovačky doplň názvy geografických objektov, ktoré sa nachádzajú na území tohto štátu.



- vrch 50 km od mora
- veľké mesto
- pohorie
- plošina
- rieka



b) V nasledujúcich riadkoch zakrúžkuj ÁNO alebo NIE, podľa toho, či je uvedená charakteristika platná pre územie štátu z tajničky doplňovačky.

- | | | |
|--|-----|-----|
| I. ropovod | ÁNO | NIE |
| II. oficiálny jazyk je arabčina | ÁNO | NIE |
| III. Sahel | ÁNO | NIE |
| IV. obratník Raka | ÁNO | NIE |
| V. poludník 23° východnej dĺžky | ÁNO | NIE |
| VI. najväčšie mesto má viac ako 10 miliónov obyvateľov | ÁNO | NIE |
| VII. rozlohou patrí k piatim najväčším štátom v Afrike | ÁNO | NIE |
| VIII. pestovanie bavlníka | ÁNO | NIE |
| IX. o 2 hodiny viac ako na Slovensku | ÁNO | NIE |

X.	v mestách žije menej ako polovica obyvateľov	ÁNO	NIE
XI.	úmorie Atlantického oceánu	ÁNO	NIE
XII.	islam	ÁNO	NIE
XIII.	priemerná ročná teplota vzduchu vyššia ako 25 °C	ÁNO	NIE

4. Linda po skončení školy zostala pracovať na Slovensku. Jej tri bývalé spolužiačky a dobré priateľky však odišli za prácou do cudziny. Linda s nimi dosť často telefonuje alebo čítuje na internete. Musí však dávať pozor, aby spojenie s priateľkami nadviazala v čase, keď im to neprekáža v práci.

S Andreou, ktorá pracuje v **Ekvádore**, najčastejšie hovorí pred začiatkom jej pracovnej doby, čiže **pred 9,00** hod. tamojšieho času.

S Beátou, ktorá žije v **Japonsku**, sa môže spojiť iba po skončení jej pracovných povinností, čiže **po 17,00** hod. tamojšieho času. Počas pracovnej doby totiž Beáta nesmie súkromne telefonovať.

S Danielou, ktorá si našla prácu v **Indii**, najčastejšie čítuje cez jej obednú prestávku od **12,00** do **12,30** hod. tamojšieho času.

Koľko hodín je na Slovensku v čase, keď Linda komunikuje

- a) s Andreou? pred hod.
- b) s Beátou? po hod.
- c) s Danielou? od do hod.
- d) Smie Beáta v Japonsku počas pracovného dňa zdvihnúť telefón v čase, keď jej Daniela zavolá počas svojej obednej prestávky? (zakrúžkuj) ÁNO NIE