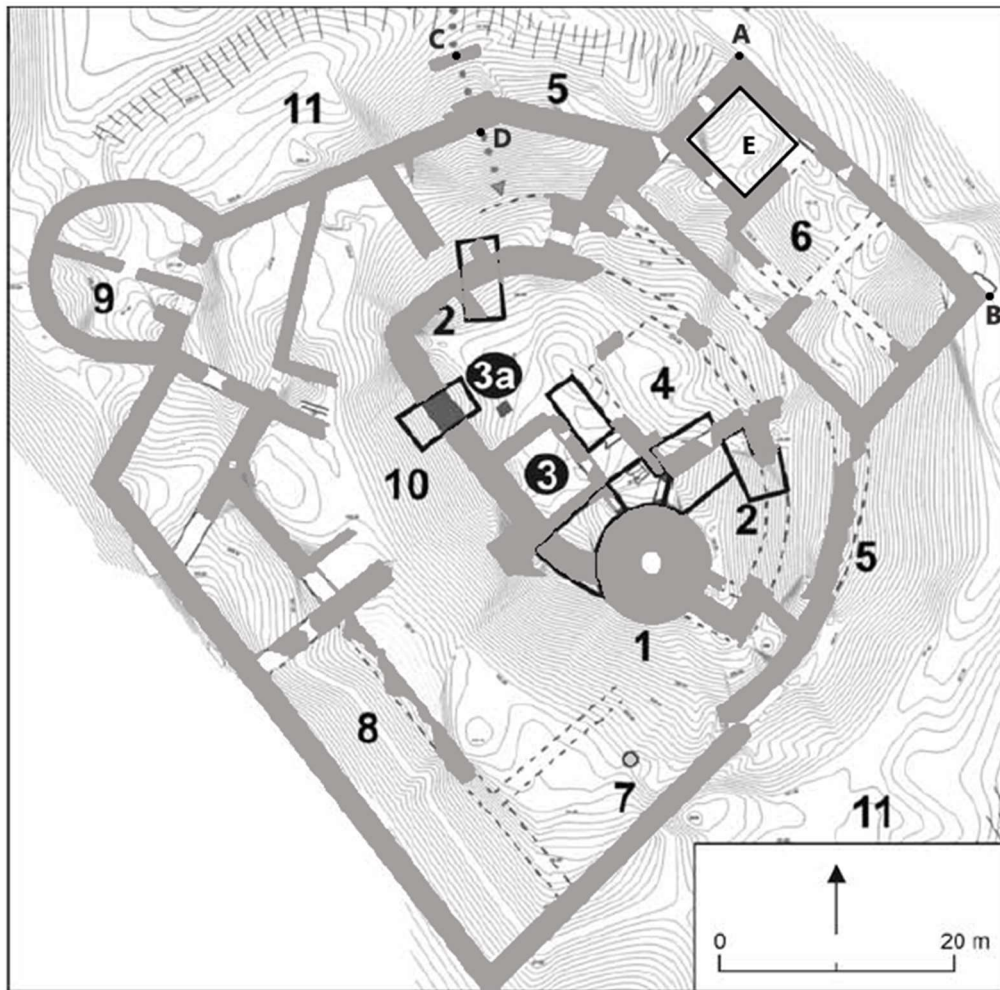


Krajské kolo Geografickej olympiády pre ZŠ a 8-ročné gymnáziá
51. ročník, školský rok 2022/2023
Písomný test pre kategóriu F – ZŠ (6. a 7. ročník) a OG (1. a 2. ročník)
 Praktická časť - úlohy

Meno a priezvisko:
 Škola: Trieda:
 Počet bodov:

1. A turisztikai katalógusokban az alábbi ábra jelent meg az Apponyi vár romjainak (Oponický hrad) alapterületéről. Dolgozz az alaprajzzal, és válaszolj az ábra alatti kérdésekre!



A következő kérdéseknél karikázd be a helyes választ:

- a) Az A és B pontok között húzódó várfal hosszabb, mint 25 m? IGEN NEM
- b) A várba a C és D pontok között található fahídon tudunk bejutni. Hosszabb ez a híd, mint 8 m? IGEN NEM
- c) Mekkora az E helyiség területe (az ábrán fekete kerületű téglalap jelöli)?
 4 m² 14 m² 44 m² 100 m²
- d) A 8-as számmal jelzett külső palotát a világtájakra való tekintettel palotának is nevezik.
 délnyugati északnyugati délkeleti
- e) Milyen számmal jelölték a vár külső, északkeleti palotáját?
 6-os 7-es 9-es
- f) Nézd meg a vár fényképét (jobbra). Milyen szám jelöli az alaprajzon a bekarikázott objektumot? 1-es 5-ös 9-es

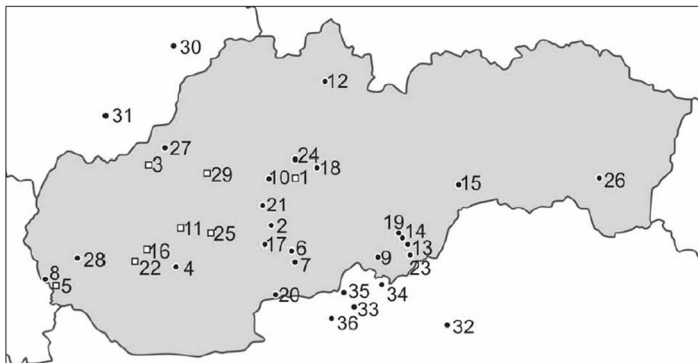


2. Szlovákia atlaszának segítségével gyűjts információkat az előző feladatban szereplő várról!

a) Az alábbi archeológiai térképen a 27-es szám a Trencséni várat (Trenčiansky hrad) jelöli

Melyik szám jelöli az Apponyi várat (Oponický hrad)?

Melyik várrmot jelöli a 3-as szám?



b) Egészítsd ki helyes információkkal az alábbi, Apponyi várról (Oponický hrad) szóló szöveget:

A vár Oponice község felett emelkedik a(z)-i járásban, a(z) hegység nyugati nyúlványában, a(z) védett tájegység területén.

c) A várról és környékéről szóló szövegben a kijelölt kifejezések közül karikázd be a helyeset!

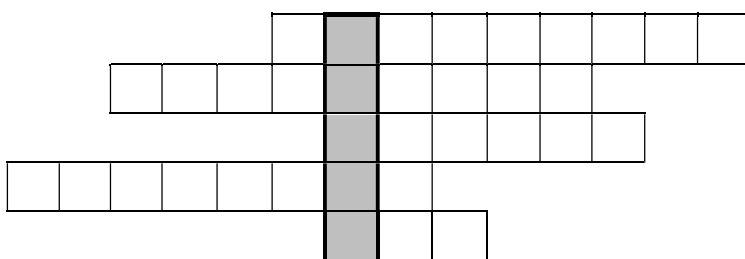
A környező erdőkben a tülevelű / lomblevelű erdők vannak túlsúlyban. A vár megközelítőleg 300 / 800 / 1000 / 1200 méter tengerszint feletti magasságban található. A vár elhelyezkedésének földrajzi koordinátái: 48° 27' / 49° 27' földrajzi szélesség és 18° 09' / 19° 09' földrajzi hosszúság.

d) Milyen irányban kell nézni, hogy a Vel'ký Tribeč hegycsúcsról megláthassuk az Apponyi várat (Oponický hrad)? Karikázd be a helyes választ!

dél felé délnyugat felé kelet felé északnyugat felé

3. FORDÍTOTT rejtvény [Szlovákul!]

a) Az alábbi rejtvény függőleges oszlopa egy afrikai állam nevét rejti. Az ország területét a mellékelt ábra szemlélteti. Az atlasz segítségével állapítsd meg, melyik ez az ország, nevét írd be a rejtvény megjelölt függőleges oszlopába. Ezután a rejtvény melletti meghatározások alapján töltsd ki a sorokat olyan földrajzi objektumokkal, amelyek az állam területén találhatóak!



- hegycsúcs a tengertől 50 km-re
- nagy város
- hegység
- fennsík
- folyó



b) A következő sorokban karikázd be helyesen az IGEN vagy a NEM lehetőséget aszerint, hogy az adott tulajdonság jellemzi-e a rejtvényben található országot.

I. kőolajvezeték	IGEN	NEM
II. hivatalos nyelv az arab	IGEN	NEM
III. Száhel	IGEN	NEM
IV. Ráktérítő	IGEN	NEM
V. 23° keleti hosszúsági kör	IGEN	NEM
VI. a legnagyobb városban több, mint 10 millió ember él	IGEN	NEM
VII. kiterjedését tekintve Afrika öt legnagyobb államának egyike	IGEN	NEM
VIII. gyapottermesztés	IGEN	NEM
IX. 2 órával több, mint Szlovákiában	IGEN	NEM

X.	a lakosság kevesebb, mint fele városlakó	IGEN	NEM
XI.	az Atlanti-óceán vízgyűjtő területe	IGEN	NEM
XII.	iszlám	IGEN	NEM
XIII.	az évi középhőmérséklet több, mint 25 °C	IGEN	NEM

4. Linda az iskola befejezése után Szlovákiában állt munkába. Három volt osztálytársa külföldön keresett munkát. Linda gyakran beszél velük telefonon vagy chaten keresztül. Azonban vigyáznia kell, hogy ne zavarja őket, amikor éppen dolgoznak.

Andreát, aki **Ecuadorban** dolgozik, leggyakrabban a munkaidő megkezdése előtt hívja, vagyis ottani idő szerint **9:00** óra előtt.

A **Japánban** élő Beátával csak a munkaidő után, vagyis **17:00** óra után tudja felvenni a kapcsolatot.

Danielával, aki **Indiában** talált munkát, leggyakrabban az ottani ebédszünetben, vagyis helyi idő szerint **12:00 és 12:30** óra között beszélget.

Hány óra van Szlovákiában, amikor Linda a lányokkal beszélget?

a) Andreával óra előtt

b) Beátával óra után

c) Danielával óra és óra között

d) Felveheti-e a telefont Beáta Japánban munkanapokon (vagyis nincs munkaideje), ha Linda a saját munkaidejének ebédszünetében hívja őt? (Karikázd be!) IGEN NEM

Autor: Mgr. Gabriela Nováková, PhD.

Recenzent: RNDr. Hilda Kramáreková, PhD.

Preklad: RNDr. Ferenc Zirig

Slovenská komisia Geografickej olympiády

Vydal: NIVAM – Národný inštitút vzdelávania a mládeže, Bratislava 2023