

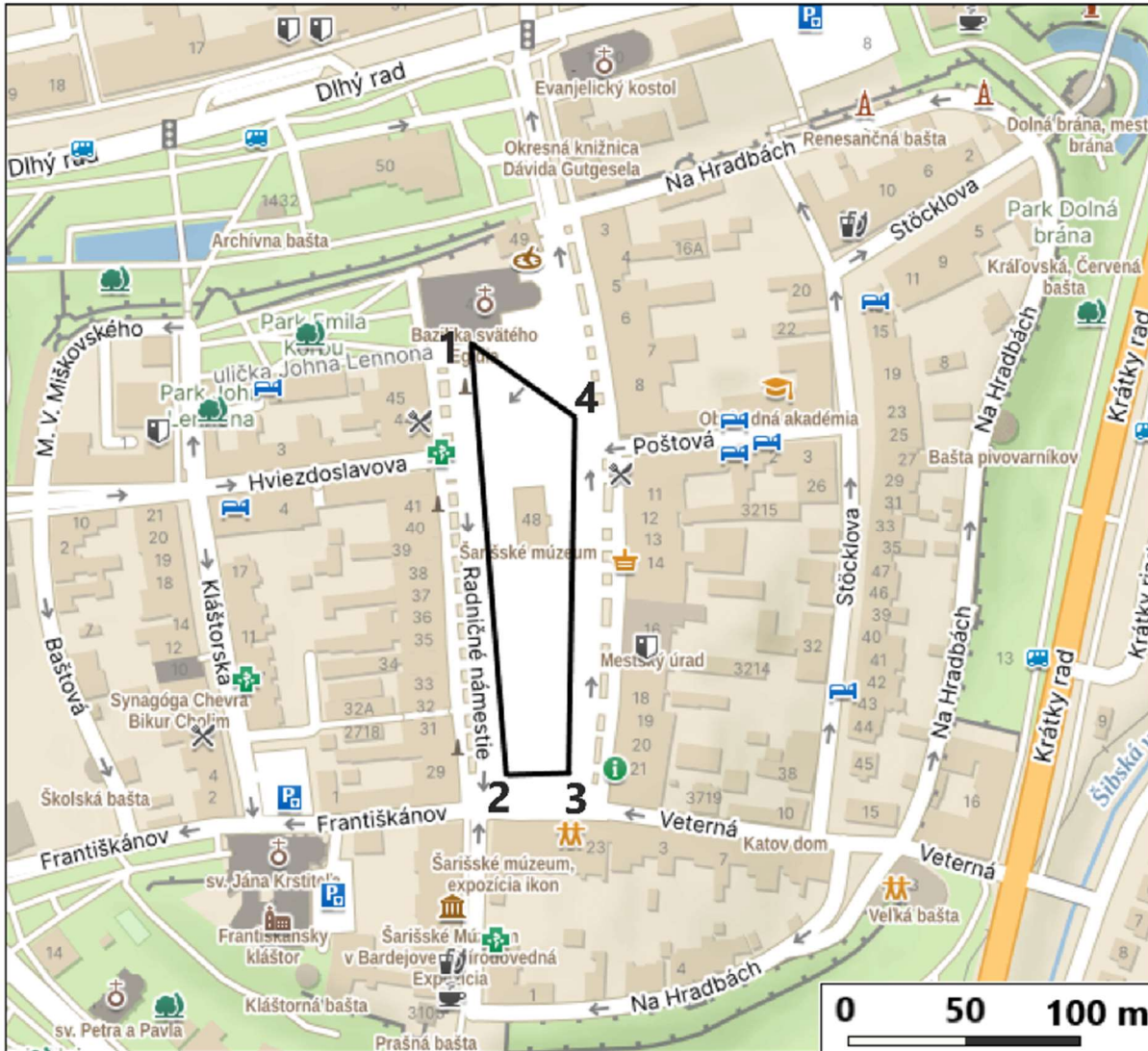
Krajské kolo Geografickej olympiády pre ZŠ a 8-ročné gymnáziá
52. ročník, školský rok 2023/2024
Písomný test pre kategóriu F – ZŠ (6. a 7. ročník) a OG (1. a 2. ročník)
 Praktická časť - úlohy

Meno a priezvisko:

Škola: Trieda:

Počet bodov:

1. Na nasledujúcej mape je znázornená časť mesta Bardejov. S jej pomocou rieš úlohy pod obrázkom.



a) Každý rok v meste Bardejov počas veľkonočných sviatkov ľudia v slávnostnej procesii obídu dookola celé Radničné námestie. Trasa procesie (z bodu 1 cez body 2, 3, 4 späť do bodu 1) je v mape znázornená čiernou čiarou. Aké dlhé sú jednotlivé úseky, ktorými procesia prechádza?

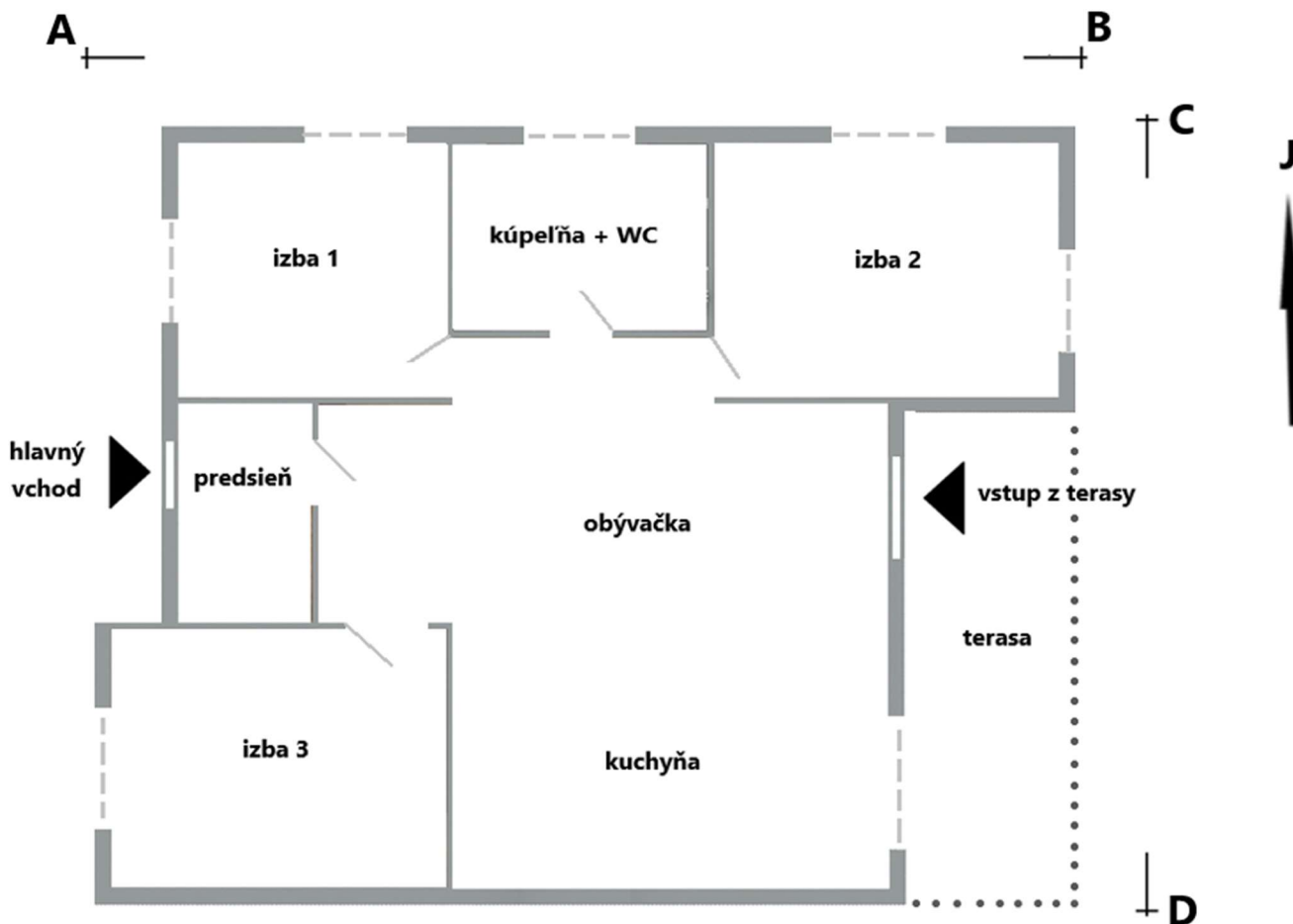
Trasa:	z 1 do 2	z 2 do 3	z 3 do 4	zo 4 do 1
Dĺžka (m):				

Návštevníci Bardejova sa najviac pohybujú v priestore Radničného námestia. Zapiš (pomocou značiek svetových strán), ktorým smerom pôjdu, ak sa po obede v reštaurácii na rohu Poštovej ulice

b) vyberú k Bazilike sv. Egídia (k bodu 1).

c) rozhodnú ísť do penziónu na rohu Hviezdoslavovej a Kláštorskej ulice.

2. Rodina Šťastných si v jednom slovenskom meste kúpila rodinný dom. Jeho pôdorys je znázornený na nasledujúcom pláne v mierke 1 : 150. Odpovedz na otázky pod obrázkom.



a) Aké rozmery má obdĺžnikový pozemok, na ktorom je dom postavený?

Dĺžka AB = m Dĺžka CD = m

b) Aké rozmery má obdĺžniková terasa?

Dlhšia strana = m Kratšia strana = m

c) Na ktorú svetovú stranu je orientovaný hlavný vchod do domu? Na

Zakrúžkuj správnu odpoveď na nasledujúce otázky.

d) Slnko osvetlí terasu predpoludním popoludní

e) Rodičia si vybrali izbu č. 3. Kedy im bude do izby svietiť slnko? ráno cez obed podvečer

f) Anička chce izbu, ktorú jej slnko osvetlí popoludní. Ktorú izbu si má vybrať? 1 2

g) Kedy bude slnkom osvetlená kuchyňa? ráno podvečer

Na nasledujúcom náčrte je okrem domu (D) zobrazené aj jeho najbližšie okolie. Zakrúžkuj správne odpovede.

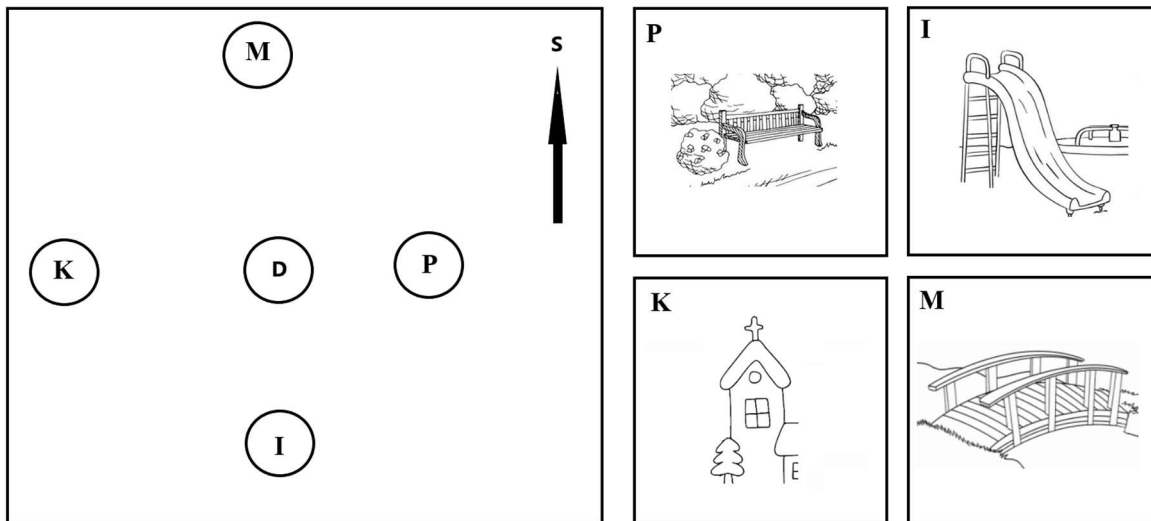
h) Ktoré **dva** objekty sú viditeľné z izby č. 1? park detské ihrisko kostol most

i) Ktorý objekt je viditeľný z izby č. 2 aj z terasy? park detské ihrisko kostol most

j) Na ktorý objekt budú mať výhľad z izby č. 3? park detské ihrisko kostol most

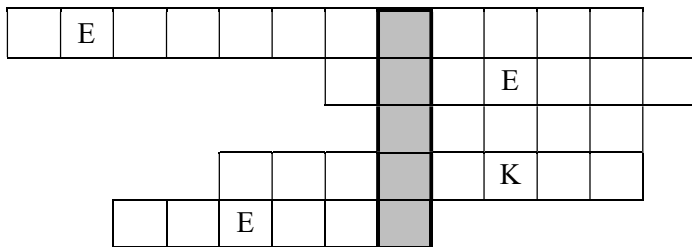
k) Ktorý objekt nie je viditeľný ani z jedného okna? park detské ihrisko kostol most

l) Je vidno kostol z kuchynského okna? ÁNO NIE



3. V atlase Slovenskej republiky vyhľadaj mapy Prešovského samosprávneho kraja.

a) S ich pomocou doplň do nasledujúcej doplňovačky na správne miesto názvy piatich okresov tohto kraja. Pomôžu ti predtlačené písmená.



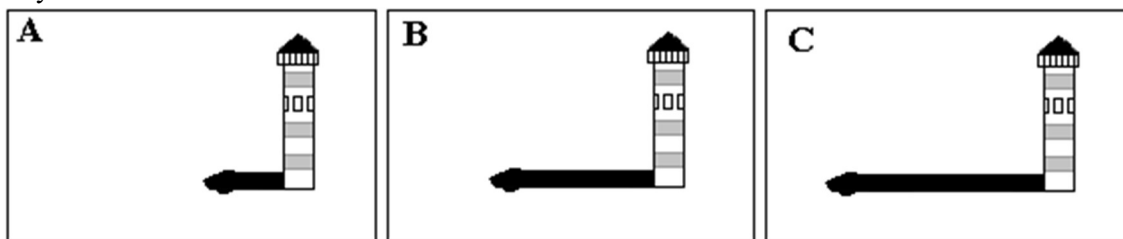
b) V tajničke doplňovačky je ukrytý názov vrchu _____, ktorý sa nachádza blízko štátnej hranice v okrese Prešovského kraja.

c) Urči geografické súradnice vrchu z tajničky: °nej šírky
 °nej dĺžky

4. Vyhľadaj v atlase sveta nasledujúce tri miesta na pobreží Afriky.

Zelený mys, Beira, Tanga

a) Na obrázku sú znázornené majáky postavené na týchto miestach a ich tieň, ktoré vrhajú **23. septembra** na pravé poľudnie. Majáky majú rovnakú výšku. Pomocou dĺžky tieňa urči, ku ktorému miestu patria jednotlivé obrázky.



Zelený mys -

Beira -

Tanga -

b) Na ktorú svetovú stranu smeroval tieň majáka **23. septembra o 16:00 hod.** tamojšieho času? Zakrúžkuj správnu odpoveď.

na *Zelenom myse*: SZ JZ SV JV

v *Beire*: SZ JZ SV JV

c) Prirad' k názvom miest správne písmeno z obrázkov, ak by boli zhotovené **21. júna**.

Zelený mys -

Beira -

Tanga -

Autor: Mgr. Gabriela Nováková, PhD.

Recenzent: RNDr. Hilda Kramáreková, PhD.

Slovenská komisia Geografickej olympiády

Vydal: NIVAM – Národný inštitút vzdelávania a mládeže, Bratislava 2024